

සියලු ම හිමිකම් ඇවිරිණි / முழுப் பதிப்புரிமையுடையது / All Rights Reserved

ශ්‍රී ලංකා විභාග දෙපාර්තමේන්තුව ශ්‍රී ලංකා විභාග දෙපාර්තමේන්තුව ශ්‍රී ලංකා විභාග දෙපාර්තමේන්තුව ශ්‍රී ලංකා විභාග දෙපාර්තමේන්තුව ශ්‍රී ලංකා විභාග දෙපාර්තමේන්තුව ශ්‍රී ලංකා විභාග දෙපාර්තමේන්තුව ශ්‍රී ලංකා විභාග දෙපාර්තමේන්තුව ශ්‍රී ලංකා විභාග දෙපාර්තමේන්තුව ශ්‍රී ලංකා විභාග දෙපාර්තමේන්තුව ශ්‍රී ලංකා විභාග දෙපාර්තමේන්තුව
 இலங்கைப் பரீட்சைத் திணைக்களம் இலங்கைப் பரීட்சைத் திணைக்களம் இலங்கைப் பரීட்சைத் திணைக்களம் இலங்கைப் பரීட்சைத் திணைக்களம் இலங்கைப் பரීட்சைத் திணைக்களம்
 Department of Examinations, Sri Lanka Department of Examinations, Sri Lanka Department of Examinations, Sri Lanka Department of Examinations, Sri Lanka Department of Examinations, Sri Lanka
 43 S I
 Department of Examinations, Sri Lanka Department of Examinations, Sri Lanka Department of Examinations, Sri Lanka Department of Examinations, Sri Lanka Department of Examinations, Sri Lanka

පත්‍රය	කොටස
I	
II	
III	
එකතුව	
පරීක්ෂක 1	
පරීක්ෂක 2	
ගණිත	
පරීක්ෂක	

අධ්‍යයන පොදු සහතික පත්‍ර (සාමාන්‍ය පෙළ) විභාගය, 2018 දෙසැම්බර්
 கல்விப் பொதுத் தராதரப் பத்திர (சாதாரண தர)ப் பரீட்சை, 2018 டிசெம்பர்
 General Certificate of Education (Ord. Level) Examination, December 2018

2018.12.11 / 0830 - 0930

විඳ I
 சித்திரம் I
 Art I

පැය එකයි
 ஒரு மணித்தியாலம்
 One hour

* සියලු ම ප්‍රශ්නවලට මෙම ප්‍රශ්න පත්‍රයේ ම පිළිතුරු සපයන්න.

විභාග අංකය :

- පහත සඳහන් ඡායාරූපය ඇසුරු කරගෙන අංක 1 සිට 5 තෙක් ප්‍රශ්නවල නිස්තර්ණ පුරවන්න.




1. මෙම වාස්තු විද්‍යා නිර්මාණය විහාර භූමියේ පිහිටා ඇත.
2. මෙය යුගයේ බුදුනෙකබාහු රජ සමයේ ඉදිකරන ලදී.
3. මෙම අපූර්ව නිර්මාණය නමින් හැඳින්වේ.
4. මෙය ද්විව වාස්තු විද්‍යා ශිල්පාචාරිවරයකු වූ ශිල්පියා විසින් නිම කරන ලද්දකි.
5. සතර දිසාවට මුහුණලා ඇති අයුරින් තනා ඇති සතර මත පරිවාර වෙනස සතරක් ඉදිකර ඇත.

Department of Examinations Sri Lanka

- අංක 21 සිට 25 තෙක් දී ඇති රූපසටහන්වලට කිසියම් සබඳතාවක් දක්වන රූපසටහන, ඉදිරියෙන් ඇති A, B, C, D, E යන ඒවා අතුරෙන් තෝරා, එහි අක්ෂරය හිත් ඉර මත ලියන්න.

21.



(.....)



A

22.



(.....)



B

23.



(.....)



C

24.




(.....)



D

25.



(.....)



E

- අංක 26 සිට 30 තෙක් දී ඇති එක් එක් වාක්‍යයෙහි හිස්තැටට සුදුසු වචනය/වචන යොදා සම්පූර්ණ කරන්න.

26. අජන්තාවේ 17 වන ගුහාව තුළ දක්නට ඇති සීගිරි ලලනාවන් සිහිපත් කරවන රුව නමින් හැඳින්වේ.
27. මහධන සිටුවරයාගේ නිවසේ පැවති නැටුම් හා ගැයුම් සංදර්ශනය නිරූපිත සිතුවම පහතරට විහාරස්ථානය තුළ දක්නට ඇත.
28. ශ්‍රීක දාර්ශනිකයන්ගේ ක්‍රියාකාරී ඉරියව් නිරූපණය කරමින් සම්පිණ්ඩනය කර ඇති රූපයලේ සිතුවම නමින් හැඳින්වේ.
29. ඉනුවිල් පරරාසසේකර පිල්ලෙයාර් කෝවිලෙහි දක්නට ලැබෙන, හින්දු සාහිත්‍යයේ එන කතාවුවත් රැසක් ශිල්පියා විසින් සිතුවමට නගා ඇත.
30. ඊජිප්තු කලා නිර්මාණවල දැකිය හැකි සාම්ප්‍රදායික ලක්ෂණවලින් මිදී නිර්මාණය වී ඇති නව රාජධානි යුගයේ හමුවන කාන්තා මූර්තිය නමින් හැඳින්වේ.

● අංක 31 සිට 35 තෙක් දී ඇති ප්‍රශ්නවලට F, G, H, I, J යන රූපසටහන් ඇසුරෙන් පිළිතුරු සපයන්න.




F



G



H



I



J

- 31. F අක්ෂරයෙන් දැක්වෙන ශිව දෙවියන්ගේ පතිනිය වන 'ශිව කාමසුන්දරී' වඩාත් ප්‍රචලිත වන්නේ නමිනි.
- 32. G අක්ෂරයෙන් දැක්වෙන පිළිරුව පොළොන්නරුවේ භූමියේ දක්නට ඇත.
- 33. H අක්ෂරයෙන් දැක්වෙන පිළිරුව පිටියස් විසින් නිර්මිත සුවසල් මූර්තියකි.
- 34. I අක්ෂරයෙන් දැක්වෙන 'නම් නොකළ' යනුවෙන් නම් කර ඇති පිළිරුව ශ්‍රී ලාංකේය ශිල්පී ගේ නිර්මාණයකි.
- 35. J අක්ෂරයෙන් දැක්වෙන අනුරපුර යුගයේ දී 'මුරගල' සංකල්පය පරිණතියට පත්වූ අවස්ථාව නිරූපිත මෙම කැටයම ඉදිරියේ පිහිටා ඇත.

● ඔබ වෙත සපයා ඇති වර්ණ චිත්‍රය හඳුනාගෙන එහි කලාත්මක අගය විග්‍රහ කෙරෙන පරිදි අංක 36 සිට 40 තෙක් දී ඇති උපමාතෘකාවලට අදාළ ව අර්ථවත් වාක්‍ය පහක් ලියන්න.

- 36. ස්ථානය හා තේමාව :
- 37. ශිල්පියා :
- 38. සම්පිණ්ඩනය :
- 39. ආභාසය :
- 40. භාව ප්‍රකාශනය :

102626

ශ්‍රී ලංකා විභාග දෙපාර්තමේන්තුව ශ්‍රී ලංකා විභාග දෙපාර්තමේන්තුව ශ්‍රී ලංකා විභාග දෙපාර්තමේන්තුව ශ්‍රී ලංකා විභාග දෙපාර්තමේන්තුව ශ්‍රී ලංකා විභාග දෙපාර්තමේන්තුව
 இலங்கைப் பரீட்சைத் திணைக்களம் இலங்கைப் பரීட்சைத் திணைக்களம் இலங்கைப் பரීட்சைத் திணைக்களம் இலங்கைப் பரීட்சைத் திணைக்களம் இலங்கைப் பரීட்சைத் திணைக்களம்
 Department of Examinations, Sri Lanka Department of Examinations, Sri Lanka Department of Examinations, Sri Lanka Department of Examinations, Sri Lanka Department of Examinations, Sri Lanka
 இலங்கைப் பரීட்சைத் திணைக்களம் இலங்கைப் பரීட்சைத் திணைக்களம் இலங்கைப் பரīட்சைத் திணைக்களம் இலங்கைப் பரīட்சைத் திணைக்களம் இலங்கைப் பரīட்சைத் திணைக்களம்
 Department of Examinations, Sri Lanka Department of Examinations, Sri Lanka Department of Examinations, Sri Lanka Department of Examinations, Sri Lanka Department of Examinations, Sri Lanka

43 I

අධ්‍යයන පොදු සහතික පත්‍ර (සාමාන්‍ය පෙළ) විභාගය, 2018 දෙසැම්බර්
 கல்விப் பொதுத் தராதரப் பத்திர (சாதாரண தர)ப் பரீட்சை, 2018 டிசெம்பர்
 General Certificate of Education (Ord. Level) Examination, December 2018

විඳ I / சித்திரம் I / Art I



Department of Examinations Sri Lanka

Department of Examinations Sri Lanka

Department of Examinations Sri Lanka

Department of Examinations Sri Lanka

Department of Examinations Sri Lanka

ශ්‍රී ලංකා විභාග දෙපාර්තමේන්තුව ශ්‍රී ලංකා විභාග දෙපාර්තමේන්තුව ශ්‍රී ලංකා විභාග දෙපාර්තමේන්තුව ශ්‍රී ලංකා විභාග දෙපාර්තමේන්තුව ශ්‍රී ලංකා විභාග දෙපාර්තමේන්තුව
 இலங்கைப் பரீட்சைத் திணைக்களம் இலங்கைப் பரීட்சைத் திணைக்களம் இலங்கைப் பரීட்சைத் திணைக்களம் இலங்கைப் பரීட்சைத் திணைக்களம் இலங்கைப் பரීட்சைத் திணைக்களம்
 Department of Examinations, Sri Lanka Department of Examinations, Sri Lanka Department of Examinations, Sri Lanka Department of Examinations, Sri Lanka Department of Examinations, Sri Lanka
43 S III

අධ්‍යයන පොදු සහතික පත්‍ර (සාමාන්‍ය පෙළ) විභාගය, 2018 දෙසැම්බර්
கல்விப் பொதுத் தராதரப் பத்திர (சாதாரண தர)ப் பரீட்சை, 2018 டிசெம்பர்
General Certificate of Education (Ord. Level) Examination, December 2018

විභූ	III
சித்திரம்	III
Art	III

2018.12.11 / 0945 - 1145
පැය දෙකයි
இரண்டு மணித்தியாலம்
Two hours

සැලකිය යුතුයි :

- * ඔබ ඇදිය යුත්තේ එක විනයක් පමණි.
- * ඔබේ විභාග අංකය හා අදාළ ප්‍රශ්න අංකය උත්තර පත්‍රයේ වෙන් කර ඇති ස්ථානයේ පැහැදිලි ව ලියන්න.
- * උත්තර පත්‍රය විභාග ශාලාධිපතිට භාර දෙන විට වියළි තිබිය යුතු ය. තෙත් විත්‍ර එකට ඇලී තිබීම ඔබට අවාසිදායක විය හැකිය ය.
- * දිය සායම්, පෝස්ටර් සායම්, පැස්ටල් ඇතුළු අනේ නොගැවෙන ඕනෑ ම වර්ණ මාධ්‍යයක් වර්ණ කිරීම සඳහා භාවිත කළ හැකිය ය.
- * ඇඳීමේ සුදු කඩදාසි හා අවශ්‍ය අයට ටීෂූ කඩදාසි සපයනු ලැබේ.

'අ' කොටසින් හෝ 'ආ' කොටසින් හෝ 'ඉ' කොටසින් හෝ එක් මාතෘකාවක් පමණක් තෝරාගන්න.

'අ' කොටස - විත්‍ර සංරචනය

1. පෙරහැරේ අලි කුලප්පුවක්
2. නිවසේ පැවැත්වෙන ආගමික කටයුත්තක්
3. ධීවර වෙළෙඳපොළක්/පදික වෙළෙඳුන්
4. නානකොටේ සොදුරු කතාබහ

'ආ' කොටස - මෝස්තර නිර්මාණය

5. සරල සත්ත්ව හැඩතල භාවිතයෙන් විත්ත රෙද්දක් මුද්‍රණය කිරීම සඳහා ව්‍යාප්ත මෝස්තරයක අඟල් 9 x 9 ප්‍රමාණයේ කොටසක් ඇඳ වමන්කාරයක් දනවන පරිදි වර්ණ කරන්න. මෝස්තර කොටස ව්‍යාප්ත වන අයුරු ගැන සැලකිලිමත් වන්න.
6. අඩි 8 x 6 ප්‍රමාණයේ ඇඳ ඇතිරිල්ලක් සඳහා මුලුතල මෝස්තරයක් නිර්මාණය කරන්න.
7. බනික් ක්‍රමයට වර්ණ කළ හැකි පරිදි අඩි 4 ක් උස අඩි 2 ක් පළල බිත්ති සැරසිල්ලක් නර්තන විලාස දැක්වෙන මානව රූ දෙකක් ඇසුරෙන් නිර්මාණය කරන්න.

'ඉ' කොටස - ග්‍රැෆික් විත්‍ර

8. 'පුංචි සිත්තරා' නමින් පළවන ළමා පොතක් සඳහා පිට කවරයක් නිර්මාණය කරන්න.
9. "උගනමනා ශිල්පයමැයි මතු රැකෙනා" මෑයෙන් අධ්‍යාපනයේ අගය පැහැදිලි වන සේ විවිත්‍රවත් පෝස්ටරයක් නිර්මාණය කරන්න.
10. 'අම්මා' පිළිබඳ ලියවුණු නිසඳැස් කාව්‍යයකට සුදුසු වර්ණවත් සන්තිදර්ශන විත්‍රයක් සැලසුම් කරන්න.

Department of Examinations Sri Lanka

Department of Examinations Sri Lanka

Department of Examinations Sri Lanka