

## (21) பொருளியல்

### வினாத்தாள் கட்டமைப்பு

#### வினாத்தாள் I :

நேரம் : 02 மணித்தியாலங்கள்

5 தெரிவுகளைக் கொண்ட 50 பல்தேர்வு வினாக்களாகும். எல்லா வினாக்களுக்கும் விடையளித்தல் வேண்டும். ஒரு வினாவிற்கு 01 புள்ளிகள் வீதம் மொத்தப் புள்ளிகள் 50 ஆகும்.

#### வினாத்தாள் II :

நேரம் : 03 மணித்தியாலங்கள் (மேலதிக வாசிப்பு நேரம் 10 நிமிடங்கள்)

இவ்வினாப்பத்திரம் இரண்டு பகுதிகளைக் கொண்டது.

உப பகுதி 'அ' - கட்டமைப்பு கட்டுரை வினாக்கள் ஐந்தாகும்.

உப பகுதி 'ஆ' - கட்டமைப்பு கட்டுரை வினாக்கள் ஐந்தாகும்.

குறைந்தபட்சம் ஒரு பகுதியிலிருந்து இரண்டு வினாக்கள் வீதம்

தெரிவுசெய்து ஐந்து வினாக்களுக்கு விடையளித்தல் வேண்டும். ஒரு

வினாவிற்கு 20 புள்ளிகள் வீதம் மொத்தப்பள்ளிகள் 100 ஆகும்.

இறுதிப் புள்ளியைக் கணித்தல் :

$$\text{வினாத்தாள் I} = 50$$

$$\text{வினாத்தாள் II} = 100 \div 2 = 50$$

$$\text{இறுதிப்புள்ளி} = \underline{\underline{100}}$$

## வினாத்தாள் I

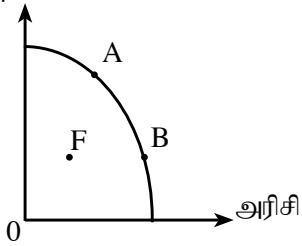
கவனிக்குக :

\* எல்லா வினாக்களுக்கும் விடையளிக்குக.

\* சரியான அல்லது மிகவும் பொருத்தமான விடையைத் தெரிவுசெய்க. (பரீட்சையில் விடையளிப்பதற்கு பத்தேர்வு விடைத்தாள் வழங்கப்படும்)

1. அருமை தொடர்பான எண்ணக்கருவை விளக்கும் மிகப் பொருத்தமான கூற்று யாது?
  - (1) அருமை என்பது சந்தையில் சில பண்டங்களுக்குக் காணப்படும் பற்றாக்குறையாகும்.
  - (2) அருமை என்பது குறைந்த வருமானம் பெறும் நாடுகள் மட்டும் முகங்கொடுக்கும் பிரச்சினையாகும்.
  - (3) அருமை என்பது நடைமுறையில் காணப்படும் வளங்களின் மூலம் மனித தேவைகளைப் பூர்த்தி செய்து கொள்ள முடியாத நிலைமையாகும்.
  - (4) சந்தைப் பொறிமுறையில் தங்கியிருக்கும் நாடுகளில் அருமை தொடர்பான பிரச்சினை காணப்பட மாட்டாது.
  - (5) பொருளாதார முதிர்ச்சி காரணமாக அருமை இல்லாமல் போகும்.
2. பின்வருவனவற்றுள் எது மனித மூலதனமாகக் கருதப்படலாம்?
  - (1) மூலதனக் கருவிகளை உற்பத்தி செய்வதற்காகப் பயன்படுத்தப்பட்ட ஊழிய வளம்
  - (2) பொருளாதாரமொன்றில் கல்வி மற்றும் சுகாதாரத்துறைகளுக்கு அரசாங்கத்தினால் மேற்கொள்ளப்படும் முதலீடு
  - (3) முயற்சியாளரொருவரின் இடர்களைத் தாங்கும் ஆற்றல்
  - (4) ஊழியப்படையின் அறிவு, திறன் மற்றும் அனுபவங்களின் தொகுதி
  - (5) அதிக தொழில்நுட்பத்துடன் கூடிய தொழில்களில் ஈடுபட்டுள்ள ஊழியப்படை
3. சந்தைப் பொருளாதார முறைமையில் விலையின் முக்கிய தொழிற்பாடு,
  - (1) பொருளாதாரத்தை நிறைதொழில் மட்டம் வரை கொண்டு செல்வதாகும்.
  - (2) பொருளாதாரச் சமமின்மையைக் குறைத்தலாகும்.
  - (3) போட்டித்தன்மையுடைய உற்பத்தித்துறையிடையே அருமையான வளங்களை பங்கிடுவதாகும்.
  - (4) ஆடம்பரப் பொருள் உற்பத்தியை ஊக்கமிழக்கச் செய்வதாகும்.
  - (5) உற்பத்தி மற்றும் நுகர்வுத் தொழிற்பாட்டின்போது ஏற்படும் தடைகளை அகற்றுவதாகும்.
4. பின்வரும் வரைபடம் பொருளாதாரமொன்றின் உற்பத்திச் சாத்திய எல்லை வளையியைக் காட்டுகின்றது.

புடைவை



இப்பொருளாதாரம் தொடர்பாக பின்வரும் கூற்றுகளுள் எது சரியானது?

- (1) A புள்ளியில் இருந்து B புள்ளியை நோக்கிச் செல்லும்போது குறைந்து செல்லும் சந்தர்ப்பச் செலவு காட்டப்பட்டுள்ளது.
- (2) F புள்ளியிலிருந்து B புள்ளியை நோக்கிச் செல்வதற்காக அரிசி உற்பத்தியில் புதிய தொழில்நுட்பம் பயன்படுத்தப்படுவது அவசியமாகும்.
- (3) F புள்ளியிலிருந்து B புள்ளியை நோக்கிச் செல்லல் அரிசி இறக்குமதி துரிதமாக அதிகரிப்பதால் நிகழ்வதாகும்.
- (4) A புள்ளியில் வளப்பங்கீட்டின் விளைத்திறன் காணப்பட்ட போதிலும், உற்பத்தி விளைத்திறன் காணப்படவில்லை.
- (5) B புள்ளியில் உற்பத்தி விளைத்திறன் காணப்பட்ட போதிலும், வளப்பங்கீட்டின் விளைத்திறன் காணப்படவில்லை.

5. பின்வருவனவற்றுள் சரியான கூற்று எது?

- (1) கேள்வி வளையியில் அமைந்துள்ள எந்த புள்ளியும் கேள்வியைக் காட்டும்.
- (2) கேள்வி வளையியின் புள்ளிகளிடையே பயணித்தல் கேள்வி மாற்றத்தைக் காட்டப்படும்.
- (3) கேள்வி வளையி வலதுபுறமாக நகர்தல் கேள்வி அதிகரிப்பைக் காட்டும்.
- (4) கேள்வி வளையி இடதுபுறமாக நகர்தல் கேள்வி குறைதலைக் காட்டும்.
- (5) கேள்வி வளையியிலுள்ள உள்ள புள்ளிகளிடையே பயணித்தல் கேள்வியின் அளவு மாற்றமடைதலைக் காட்டும்.

6. சந்தையில் காணப்படும் பட்டருக்கான நிரம்பல் வளையியைக் காட்டும் சமன்பாடு,  $Q_{S1} = -200 + 10P$  இலிருந்து  $Q_{S2} = -100 + 10P$  வரை மாற்றமடைவதற்கான காரணம்,

- (1) பட்டருக்கான சந்தை விலை அதிகரித்தலாகும்.
- (2) பாலின் விலை அதிகரித்தலாகும்.
- (3) பட்டர் உற்பத்தியாளர்களுக்கு மானியம் வழங்கலாகும்.
- (4) பட்டருக்கு உற்பத்தி வரி விதிக்கப்படுதலாகும்.
- (5) குடித்தன வருமானம் அதிகரித்தலாகும்.

7. சீனிக்கான கேள்வியின் விலை நெகிழ்ச்சி ஒன்றுக்குக் குறைந்தது எனக் கருதுக, சீனி உற்பத்தியின் மீது உற்பத்தி வரி விதிக்கப்பட்டால் விலை, கேள்வியின் அளவு மற்றும் நுகர்வோர் சுவை என்பன பின்வருவனவற்றுள் எந்த விதத்தில் மாற்றமடையும்?

	விலை	கேள்வியின் அளவு	நுகர்வோர் சுவை
(1)	குறையும்.	அதிகரிக்கும்.	அதிகரிக்கும்.
(2)	குறையும்.	குறையும்.	குறையும்.
(3)	அதிகரிக்கும்.	குறையும்.	குறையும்.
(4)	அதிகரிக்கும்.	குறையும்.	அதிகரிக்கும்.
(5)	அதிகரிக்கும்.	அதிகரிக்கும்.	அதிகரிக்கும்.

8. குறித்த ஒரு பண்டத்துக்கான சந்தை கேள்வி, நிரம்பல் சார்புகள் பின்வரும் சமன்பாடுகளின் மூலம் விபரிக்கப்படுகின்றது.

$$Q_D = 400 - 7P \text{ (கேள்வி)} \quad Q_S = -100 + 3P \text{ (நிரம்பல்)}$$

சந்தைச் சமநிலையின் போது பண்டத்தின் விலை மற்றும் மொத்த வருமானம் எவ்வளவு?

	சமநிலை விலை (ரூ.)	மொத்த வருமானம் (ரூ.)
(1)	30	1500
(2)	30	2000
(3)	50	2400
(4)	50	2500
(5)	65	3500

9. கேள்வி, நிரம்பல் ஆகிய இரண்டும் அதிகரித்தால்,

- (1) சமநிலை விலை அதிகரிப்பதுடன் சமநிலைத் தொகையும் அதிகரிக்கும்.
- (2) சமநிலை விலை வீழ்ச்சியடைவதுடன் சமநிலைத் தொகை அதிகரிக்கும்.
- (3) சமநிலை விலை அதிகரித்தாலும் வீழ்ச்சி அடைந்தாலும் சமநிலைத் தொகை அதிகரிக்கும்.
- (4) சமநிலை விலை அதிகரிப்பதுடன் சமநிலைத் தொகை அதிகரிக்கும் அல்லது குறையும்.
- (5) சமநிலை விலை குறைவடைவதுடன் சமநிலைத் தொகை அதிகரிக்கும் அல்லது குறையும்.

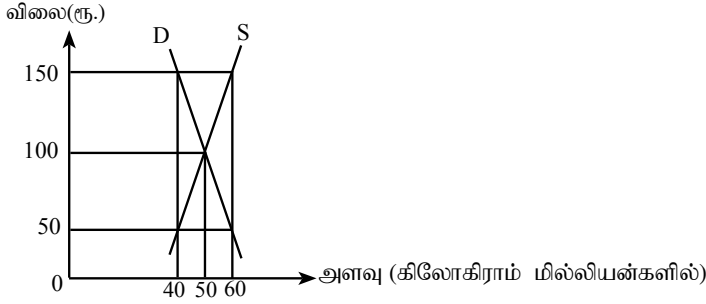
10. குறித்த ஒரு போகத்தின் போது விவசாயிகளின் விளைச்சல் அதிகரித்தாலும் அவர்களின் விற்பனை வருமானம் வீழ்ச்சியடைந்தது. பின்வரும் எந்நிலைமை இதில் செல்வாக்குச் செலுத்தும்?

- (1) நெகிழ்வற்ற கேள்வியும் நெகிழ்வான நிரம்பலும்
- (2) நெகிழ்வான கேள்வியும் நெகிழ்வற்ற நிரம்பலும்
- (3) நெகிழ்வற்ற கேள்வியும் நெகிழ்வற்ற நிரம்பலும்
- (4) பூரண நெகிழ்ச்சிக் கேள்வியும் நெகிழ்வற்ற நிரம்பலும்
- (5) நெகிழ்வான கேள்வியும் பூரண நெகிழ்ச்சிக்கான நிரம்பலும்

11. போட்டிச்சந்தையொன்றில் விற்கப்படும் சாதாரண உற்பத்தியாளர்களுக்கு பண்டமொன்றிற்கு அரசாங்கம் அலகு ரீதியான மானியம் வழங்க தீர்மானித்துள்ளதாகக் கருதுக. மானியத்தின் பின்னர் மற்றும் உற்பத்தியாளர் மிகை நுகர்வு மிகை என்பவற்றில் ஏற்படும் பாதிப்பு யாது?

உற்பத்தியாளர் மிகை	நுகர்வோர் மிகை
(1) குறைவடையும்	குறைவடையும்
(2) அதிகரிக்கும்	அதிகரிக்கும்
(3) குறைவடையும்	அதிகரிக்கும்
(4) குறைவடையும்	மாற்றமில்லை
(5) மாற்றமில்லை	குறைவடையும்

12. பெரிய வெங்காயச் சந்தையின் குறுங்கால கேள்வி, நிரம்பல் வளையிகள் பின்வரும் வரைபடத்தில் காட்டப்பட்டுள்ளன.



அரசாங்கத்தினால் பெரிய வெங்காயத்துக்கு 40 மில்லியன் கிலோகிராம் கோட்டா (Quota) பெரிய வெங்காய உற்பத்தியாளர்களுக்கு வழங்கத் தீர்மானித்தால், ஒரு கிலோகிராம் பெரிய வெங்காயத்துக்கான சந்தைச் சமநிலை விலை யாது?

- (1) ரூ.150
- (2) ரூ.100
- (3) ரூ.50
- (4) ரூ.50 இனை விடக் குறைவு.
- (5) ரூ.100 இனை விடக் குறைவாகும்.

13. குறித்தவொரு விவசாயப் பண்டத்திற்கான வருடாந்த கேள்வி, நிரம்பல் பற்றிய தகவல்கள் பின்வரும் அட்டவணையில் காட்டப்பட்டுள்ளன.

விலை (ஒரு கிலோகிராம் ரூ.)	கேள்வித்தொகை (கிலோகிராம்/மில்லியனில்)	நிரம்பல் தொகை (கிலோகிராம்/மில்லியனில்)
40	30	10
50	25	15
60	20	20
70	15	25
80	10	30

இச்சந்தையில் தலையிடுவதன் மூலம் ரூ.70 இனைக் குறைந்தபட்ச பயனுறுதியான விலையாகப் பேணுவதற்கு அரசாங்கம் நடவடிக்கை மேற்கொள்கின்றது. இந்நடவடிக்கை காரணமாக அரசாங்கம் வருடாந்தம் சுமக்க வேண்டி செலவு மில்லியன் ரூபாவில்.

- (1) 700 ஆகும்.
- (2) 950 ஆகும்.
- (3) 1,050 ஆகும்.
- (4) 1,300 ஆகும்.
- (5) 1,700 ஆகும்.

14. குறிப்பிட்ட ஒரு உற்பத்திக் காரணியின் மொத்த உழைப்பானது பொருளியல் வாடகையை மட்டும் கொண்டிருத்தல் அக்காரணியின் வழங்கல்,
- (1) பூரண நெகிழ்சியற்றிருக்கும் போதாகும்.
  - (2) பூரண நெகிழ்ச்சியைக் கொண்டிருக்கும் போதாகும்.
  - (3) அலகு நெகிழ்ச்சியைக் கொண்டிருக்கும் போதாகும்.
  - (4) நெகிழ்ச்சியைக் கொண்டிருக்கும் போதாகும்.
  - (5) நெகிழ்ச்சியற்றிருக்கும் போதாகும்.
15. ஊழியத்தின் எல்லை உற்பத்தி (MP), ஊழியத்தின் சராசரி உற்பத்திக்கு (AP) சமமாகும் போது,
- (1) ஊழியத்தின் எல்லை உற்பத்தி உச்ச நிலையை அடையும்.
  - (2) உற்பத்தியின் எல்லைச்செலவு குறைவடையும்.
  - (3) எல்லைச்செலவானது குறைந்த சராசரி மாறும் செலவுக்குச் (AVC) சமமாகும்.
  - (4) சராசரி மொத்தச் செலவு (ATC) குறைவடையும்.
  - (5) ஊழியத்தின் மொத்த உற்பத்தி உச்ச நிலையை அடையும்.
16. குறுங்கால உற்பத்தி நிறுவனமொன்று மாறும் உள்ளீடுகளை அதிகரித்து உற்பத்தியை அதிகரிக்கும்போது, அதன் சராசரி மொத்தச் செலவு (ATC) வளையி சராசரி மாறும் செலவு வளையிக்கு மிக நெருக்கமாக அமைவது, வெளியீடு அதிகரிக்கும் போது,
- (1) மொத்தச் செலவு (TC) அதிகரிப்பதனாலாகும்.
  - (2) மொத்தச் செலவு (TC) குறைவதனாலாகும்.
  - (3) சராசரி நிலையான செலவு (AFC) குறைவதனாலாகும்.
  - (4) சராசரி மாறும் செலவு (AVC) குறைவதனாலாகும்.
  - (5) எல்லைச்செலவு (MC) அதிகரிப்பதனாலாகும்.
17. குறுங்காலத்தில் நிறைபோட்டி நிறுவனமொன்றில் இலாபத்தை உச்சப்படுத்தும் வெளியீட்டு மட்டம் 500 அலகுகளும், சந்தைச் சமநிலை விலை ரூ.20 என்றும் கருதுக. இவ் உற்பத்தி மட்டத்தில் நிறுவனம் ரூ.2000 பொருளியல் இலாபத்தை உழைக்கின்றது. சமநிலை வெளியீட்டு மட்டத்தில் நிறுவனத்தின் சராசரி நிலையான செலவு (AFC) ரூ.4 எனின், உற்பத்தி மிகை,
- (1) ரூ.4,000 ஆகும்.
  - (2) ரூ.6,000 ஆகும்.
  - (3) ரூ.8,000 ஆகும்.
  - (4) ரூ.10,000 ஆகும்.
  - (5) ரூ.12,000 ஆகும்.
18. தேசிய கணக்கீட்டில் அடிப்படை விலையின் கீழ் மொத்தக் கூட்டப்பட்ட பெறுமதி (GVA) எனக் கருதப்படுவது,
- (1) பொருளாதாரப் பிரதேசத்தில் வதிவிட நிறுவன அலகுகளினால் உற்பத்தி செய்யப்படும் அனைத்து பண்டங்கள், சேவைகளின் பணரீதியான பெறுமதியாகும்.
  - (2) பொருளாதாரப் பிரதேசத்தில் வதிவிட நிறுவன அலகுகளினால் உற்பத்தி செய்யப்படும் அனைத்து பண்டங்கள் சேவைகளின் பண ரீதியான பெறுமதி + உற்பத்தி மீதான தேறிய வரிகளாகும்.
  - (3) அடிப்படை விலையில் உற்பத்தியின் மொத்தப் பெறுமதி + உற்பத்தி மீதான ஏனைய தேறிய வரிகளாகும்.
  - (4) ஆரம்ப வருமானங்களின் கூட்டுத்தொகை - நிலையான மூலதன நுகர்வாகும்.
  - (5) அடிப்படை விலையில் வெளியீட்டின் மொத்தப் பெறுமதி - கொள்வனவாளரின் விலையில் இடை நுகர்வாகும்.

19. வருமான வழியின் படி சந்தை விலையில் மொத்த தேசிய உற்பத்தியின் பெறுமதியாவது,
- (1) ஊழியர் வருமானம் + மொத்த செயற்பாட்டு மிகை + கலப்பு வருமானம் + உற்பத்தியின் மீதான ஏனைய வரிகள் - உற்பத்தியின் மீதான ஏனைய மானியங்கள் + உற்பத்தி மீதான தேறிய வரிகள்
  - (2) ஊழியர் வருமானம் + தேறிய செயற்பாட்டு மிகை + கலப்பு வருமானம் + உற்பத்தியின் மீதான ஏனைய வரிகள் - உற்பத்தியின் மீதான ஏனைய மானியம் + உற்பத்தி மீதான தேறிய வரிகள்
  - (3) ஊழியர் வருமானம் + மொத்த செயற்பாட்டு மிகை + கலப்பு வருமானம் - உற்பத்தியின் மீதான ஏனைய வரிகள் - உற்பத்தியின் மீதான ஏனைய மானியம்
  - (4) ஊழியர் வருமானம் + மொத்த செயற்பாட்டு மிகை + உற்பத்தியின் மீதான ஏனைய வரிகள் - உற்பத்தியின் மீதான ஏனைய மானியம்
  - (5) ஊழியர் வருமானம் + மொத்த செயற்பாட்டு மிகை + கலப்பு வருமானம் + உற்பத்தியின் மீதான தேறிய வரிகள்

20. குறித்த வருடமொன்றில், குறித்த ஒரு நாட்டின் மூலதன வழங்கலில் அடங்கும் சில விடயங்கள் பின்வரும் அட்டவணையில் காட்டப்பட்டுள்ளன.

விடயம்	பெறுமதி (மில்லியன்/ரூபா.)
வாழும் வீடு, கட்டடங்கள் மற்றும் ஏனைய நிர்மாணங்கள்	5000
இயந்திரம், கருவிகள்	1000
பாற் பசுக்கள்	100
கணினி மென்பொருள் மற்றும் தரவுத்தொகுதி	200
காணி அபிவிருத்தி	400
ஆக்கவரிமையும் அனுமதிப் பத்திரக் கைப்பற்றலும்	300
ஆவணங்களிலேற்பட்ட மாற்றம்	150
பெறுமதியானவற்றைக் கைப்பற்றல் - விடுவித்தல்	50
முடிவுப் பொருள் மற்றும் மூலப்பொருள்	50

இந்நாட்டின் மொத்த உள்நாட்டு மூலதன வழங்கலும் மொத்த உள்நாட்டு நிலையான மூலதன வழங்கலும் முறையே மில்லியன் ரூபாவில்,

- (1) 7200 உம் 7500 உம் ஆகும்.
- (2) 7200 உம் 7000 உம் ஆகும்.
- (3) 6700 உம் 6650 உம் ஆகும்.
- (4) 7250 உம் 7200 உம் ஆகும்.
- (5) 7000 உம் 7200 உம் ஆகும்.

21. தேசிய கணக்கீடுகளைத் தயாரிக்கும்போது உற்பத்தியில் இருந்து அகற்றப்படுவது பின்வருவனவற்றுள் எவையாகும்?

- (1) குடும்ப அலகுகளினால் சுயநுகர்வுக்காக விவசாயப் பயிர்களைப் பயிரிடல்
- (2) குடும்ப அலகுகளினால் தமது அங்கத்தவர்களுக்குப் போக்குவரத்து வசதிகளை வழங்குதல்
- (3) தொண்டரடிப்படையிலான ஊழியத்தின் மூலம் உற்பத்தி செய்யப்பட்ட பண்டங்களும் சேவைகளும்
- (4) பங்குச் சந்தையில் தரகர்கள் உழைத்த தரகக் கட்டணங்கள்
- (5) வங்கி வைப்பிற்காக வைப்பாளர்கள் உழைத்த வட்டி வருமானம்

22. கருதுகோள் அடிப்படையான குறித்தவொரு பொருளாதாரத்தின் தேசிய கணக்குகளுடன் தொடர்புபட்ட சில தரவுகள் கீழே அட்டவணையில் தரப்பட்டுள்ளன.

உருப்படி	பெறுமதி (பில்லியன் ரூபா)
மொத்த உள்நாட்டு உற்பத்தி	10,000
தனியார் நுகர்வு	6400
மொத்த உள்நாட்டு மூலதன வழங்கல்	1600
தேறிய ஏற்றுமதி	-500

இப்பொருளாதாரத்தில் அரசு நுகர்வு மற்றும் உள்நாட்டுச் சேமிப்பின் பெறுமதிகள் எவ்வளவு?

	அரசு நுகர்வு (பில்லியன் ரூபா)	உள்நாட்டுச் சேமிப்பு (பில்லியன் ரூபா)
(1)	2000	1000
(2)	2500	1100
(3)	2500	2100
(4)	2600	1200
(5)	3000	1100

23. நுகர்வுச் சார்பு 45° கோட்டிற்கு கீழாகக் காணப்படும் போது, வீட்டுத்துறை

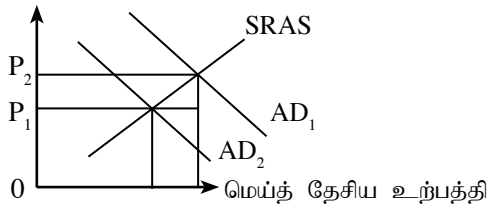
- (1) அதிகரிக்கும் வருமானம் முழுவதையும் செலவழிக்கும்.
- (2) அவர்களின் செலவிடத்தக்க வருமானத்தைவிட கூடுதலாக நுகர்வை மேற்கொள்ளும் .
- (3) அவர்களின் செலவிடத்தக்க வருமானத்தில் ஒரு பகுதியை சேமிக்கும்.
- (4) அதிகரிக்கும் வருமானம் முழுவதையும் சேமிக்கும்.
- (5) சேமிப்பில் ஈடுபடமாட்டார்.

24. அரசு நடவடிக்கைகள் அற்ற மூடிய பொருளாதாரமொன்றில் 200 மில்லியன் ரூபாவினால் முதலீடு அதிகரிக்கும்போது 800 மில்லியன் ரூபாவால் வருமானம் அதிகரிக்குமாயின், இப் பொருளாதாரத்தின் எல்லை நுகர்வு நாட்டம் (MPC)

- (1) 0.80 ஆகும். (2) 0.75 ஆகும். (3) 0.70 ஆகும். (4) 0.65 ஆகும். (5) 0.60 ஆகும்.

25. குறித்த பொருளாதாரமொன்றின் குறுங்கால மொத்தக் கேள்வி வளையியும் மொத்த நிரம்பல் வளையியும் பின்வரும் வரைபடத்தில் காட்டப்பட்டுள்ளது.

விலைமட்டம்



மொத்த கேள்வி வளையி  $AD_1$  இலிருந்து  $AD_2$  இற்கு நகர்தலை பின்வருவற்றில் எதன் மூலம் விளக்க முடியும்?

- (1) வட்டி வீதம் அதிகரித்தல்
- (2) அரசு செலவு அதிகரித்தல்
- (3) தேறிய ஏற்றுமதி அதிகரித்தல்
- (4) பணவீக்க வீதம் குறைவடைதல்
- (5) வரி குறைவடைதல்

26. வீட்டுத்துறையினரால் ஒரு சொத்தாக பணத்துக்கான கேள்வி அதிகரிப்பது,
- (1) பெயரளவு மொத்த உள்நாட்டு உற்பத்தி வீழ்ச்சியடையும் போதாகும்.
  - (2) பெயரளவு மொத்த உள்நாட்டு உற்பத்தி அதிகரிக்கும் போதாகும்.
  - (3) பிணைப்பத்திரங்களின் விலை குறைவடையும்.
  - (4) பணநிரம்பல் வீழ்ச்சியடையும் போதாகும்.
  - (5) பெயரளவு வட்டி வீதம் வீழ்ச்சியடையும் போதாகும்.
27. வாடிக்கையாளரொருவர் தனது வங்கிக் கணக்கிலிருந்து ரூ.50,000 பணத்தை மீண்டும் பெற்றார் எனக் கருதுக. 20% சட்டரீதியான ஒதுக்கு வீதம் காணப்படுவதுடன் ஏனைய காரணிகள் மாறாதிருக்குமாயின் இக்கொடுக்கல் வாங்கல் நேரடியாக,
- (1) பண நிரம்பலை ரூ.50,000 இனால் வீழ்ச்சியடையச் செய்யும்.
  - (2) வங்கி வைப்புக்களை ரூ.50,000 இனால் வீழ்ச்சியடையச் செய்யும்.
  - (3) பண நிரம்பலை ரூ.250,000 இனால் வீழ்ச்சியடையச் செய்யும்.
  - (4) வங்கி வைப்புக்களை ரூ.250,000 இனால் வீழ்ச்சியடையச் செய்யும்.
  - (5) வங்கி வைப்புக்களை ரூ.200,000 இனால் வீழ்ச்சியடையச் செய்யும்.
28. மத்திய வங்கி திறந்த சந்தையில் அரசு பிணைப்பத்திரங்களை விற்பனை செய்தால்,
- (1) வணிக வங்கிகளின் ஒதுக்குகள் உயர்வடைவதுடன் உயர்வலுப் பண இருப்பும் உயர்வடையும்.
  - (2) வணிக வங்கிகளின் ஒதுக்குகள் குறைவடைவதுடன் உயர்வலுப் பண இருப்பும் குறைவடையும்.
  - (3) வணிக வங்கிகளின் ஒதுக்குகள் உயர்வடைவதுடன் உயர்வலுப் பண இருப்பும் வீழ்ச்சியடையும்.
  - (4) வணிக வங்கிகளின் ஒதுக்குகள் குறைவதுடன் உயர்வலுப் பண இருப்பும் உயர்வடையும்.
  - (5) வணிக வங்கிகளின் ஒதுக்குகள் குறைவடைவதுடன் வங்கியில் மிகை ஒதுக்குகள் காணப்படின் பண நிரம்பல் அதிகரிக்கும்.
29. விரிவடைந்த நிதிக் கொள்கையொன்றைப் பயன்படுத்துவதன் மூலம் வட்டி வீதம், தனியார் முதலீடு, மொத்தக்கேள்வி மற்றும் உள்நாட்டு உற்பத்தி என்பவற்றின் மீது எவ்வாறான செல்வாக்கு எதிர்பார்க்கப்படும்?

வட்டிவீதம்	தனியார் முதலீடு	மொத்தக்கேள்வி	உள்நாட்டு உற்பத்தி
(1) வீழ்ச்சியடைதல்	அதிகரித்தல்	அதிகரித்தல்	அதிகரித்தல்
(2) வீழ்ச்சியடைதல்	அதிகரித்தல்	அதிகரித்தல்	வீழ்ச்சியடைதல்
(3) அதிகரித்தல்	அதிகரித்தல்	அதிகரித்தல்	வீழ்ச்சியடைதல்
(4) அதிகரித்தல்	வீழ்ச்சியடைதல்	அதிகரித்தல்	அதிகரித்தல்
(5) வீழ்ச்சியடைதல்	அதிகரித்தல்	வீழ்ச்சியடைதல்	வீழ்ச்சியடைதல்

30. வங்கித் தொகுதியில் தொழிற்படும் வணிக வங்கியொன்றின் ஐந்தொகை கீழே காட்டப்பட்டுள்ளது.

பொறுப்புக்கள் (மில்லியன் ரூபா)	சொத்துக்கள் (மில்லியன் ரூபா)
வைப்பு	100,000
	ஒதுக்காகவுள்ள பணம் 24,000
	பிணைமுறிகள் 36,000
	கடன் 40,000
மொத்தம்	100,000
	மொத்தம் 100,000

சட்ட ரீதியான ஒதுக்கு வீதம் 20% ஆக இருந்தால், இவ்வங்கி புதிய கடனாக உயர்ந்த பட்சம் எவ்வளவு தொகையை வழங்க முடியும்?

- (1) 2,000 மில்லியன் ரூபா
- (2) 4,000 மில்லியன் ரூபா
- (3) 8,000 மில்லியன் ரூபா
- (4) 14,000 மில்லியன் ரூபா
- (5) 20,000 மில்லியன் ரூபா



31. பொதுப் பண்டமொன்று தொடர்பாக இணக்கக்கூடிய கூற்று அது,
- (1) விசேடமாக அரசாங்கத்தால் அதன் அமயச்செலவை விட குறைந்த விலையில் வழங்கப்படும்.
  - (2) விசேடமாக தனியார் துறையினால் அதன் சந்தை விலையை விட குறைந்த விலையில் வழங்கப்படும்.
  - (3) தனியார் மற்றும் அரசாங்கம் ஆகிய இரு துறைகளினாலும் அதன் சந்தை விலையை விடக் குறைந்த விலையில் வழங்கப்படும்.
  - (4) ஒருவரின் நுகர்வு ஏனையோரின் நுகர்வைப் பாதிக்காது.
  - (5) உற்பத்தியின் போது அமயச்செலவு ஏற்படாது.

32. சந்தை தோல்வி என்பது,
- (1) சந்தைக் கேள்வியும் நிரம்பலும் சமப்படாத நிலைமையாகும்.
  - (2) சந்தையின் மூலம் வளங்கள் வினைத்திறனாக பங்கிடப்படாத நிலைமையாகும்.
  - (3) பொருளியல் இலாபம் பூச்சியமாகும்போது உற்பத்தி நிறுவனங்கள் கைத்தொழிலை விட்டு விலகிச் செல்லும் நிலைமையாகும்.
  - (4) மத்திய திட்டமிடல் பொருளாதார முறைகளில் மட்டும் காணப்படும் நிலைமையாகும்.
  - (5) அரசு வரி அறவிடுவதால் பொருளாதார மிகை வீழ்ச்சியடையும் நிலைமையாகும்.

33. குறிப்பிட்ட ஒரு வதிவிட வீட்டுச் செயற்றிட்டத்துடன் தொடர்புடைய நன்மைகளும் செலவுகளும் பற்றிய தரவுகள் பின்வரும் அட்டவணையில் காட்டப்பட்டுள்ளன.

(பெறுமதி மில்லியன் ரூபாவிலாகும்)

தனியார் நன்மை	800	தனியார் செலவு	500
வெளிவாரி நன்மை	100	வெளிவாரிச் செலவு	150

மேலுள்ள அட்டவணைப்படி வரக்கூடிய முடிவு,

- (1) சமூக நன்மை 100 மில்லியன் ரூபா என்பதாகும்.
  - (2) சமூகச் செலவு 250 மில்லியன் ரூபா என்பதாகும்.
  - (3) சமூக நன்மை 1300 மில்லியன் ரூபா என்பதாகும்.
  - (4) சமூக நன்மையை மிஞ்சிய சமூகச் செலவு நிலவுகிறது என்பதாகும்.
  - (5) சமூகச் செலவினை மிஞ்சிய சமூக நன்மை நிலவுகிறது என்பதாகும்.
34. பின்வருவனவற்றுள் தேய்முறை வரிமுறையின் பண்பு எது?
- (1) எல்லா வருமான மட்டத்திலும் வருமானத்திற்குச் சமமான சதவீதம் வரியாகச் செலுத்தப்படும்.
  - (2) குறைந்த வருமானத்தை உழைப்போரிடமிருந்து பெறப்படும் வரி வீதத்தை விட உயர் வருமானம் உழைப்போரிடமிருந்து பெறப்படும் வரி வீதம் குறைவாகும்.
  - (3) குறைந்த வருமானம் உழைப்போரிடமிருந்து பெறப்படும் வரியினளவை விட உயர் வருமானம் உழைப்போரிடமிருந்து பெறப்படும் வரியினளவு அதிகமாகும்.
  - (4) குறைந்த வருமானத்தை உழைப்போர் செலுத்தும் வரியினளவை விட உயர் வருமானம் உழைப்போர் செலுத்தும் வரியினளவு அதிகமாகும்.
  - (5) வருமான மட்டம் அதிகரிக்கும் போது செலுத்தப்படும் வரி வீதமும் அதிகரிக்கும்.
35. அண்மைய ஆண்டுகளில் இலங்கையின் வரி வருமானத்திற்கும் மொத்த உள்நாட்டு உற்பத்திக்குமிடையிலான விகிதாசாரம் வீழ்ச்சியடைந்தமைக்கான காரணம் **அல்லாதது** பின்வருவனவற்றுள் எதுவாகும்?
- (1) நேரடி வெளிநாட்டு முதலீட்டை கவர்வதற்காக வரிச்சலுகை வழங்கப்பட்டமை
  - (2) அரசாங்கத்தின் குறுங்கால பணத்தேவைகளைப் பூர்த்தி செய்து கொள்வதற்காக வரிமுறையில் மேற்கொள்ளப்பட்ட முறையற்ற மாற்றங்கள்
  - (3) வரி செலுத்தாது விடல், வரி செலுத்தலிலிருந்து தப்பியிருத்தலுடன் கூடிய பாரிய முறையற்ற பொருளாதாரம் காணப்பட்டமை
  - (4) அரசாங்கச் செலவுகளுக்கும் நிதியிடுவதற்காக வெளிநாட்டுக் கடன்களில் தங்கியிருக்கும் தன்மை அதிகரித்தமை
  - (5) வரி தொடர்பான சட்டங்கள் சிக்கலானவையாக அமைந்தமை, அதிக எண்ணிக்கையான வரி முறைகள் காணப்படாமை என்பன காரணமாக வரி நிர்வாகம் வினைதிறனற்றும் போனமை

36. உள்நாட்டு பீங்கான் உற்பத்தியாளர் ஒருவர் ரூ.1000 பெறுமதியான இறக்குமதி உள்ளீடுகளைப் பயன்படுத்தி உற்பத்தி செய்த தேநீர் குவளையொன்றை ரூ.3000 இற்கு உள்நாட்டுச் சந்தையில் செய்கிறார். அதற்குச் சமமான இறக்குமதி செய்யப்பட்ட தேநீர் குவளையொன்று தடையற்ற உள்நாட்டுச் சந்தையில் சங்கவரியின்றி ரூ.3000 இற்கு விற்கப்படுகிறது. இறக்குமதி செய்யப்படும் தேநீர் குவளையின் மீது 20% சங்கவரி விதிக்கப்பட்டால் பயனுறுதிவாய்ந்த பாதுகாப்பு வீதம்

- (1) 15% ஆகும். (2) 20% ஆகும். (3) 28% ஆகும்.  
(4) 30% ஆகும். (5) 33.3% ஆகும்.

37. இலங்கைப் பண்டங்கள் வர்த்தக மீதியின் சாதகமான மாற்றத்திற்கான காரணமாகக் குறிப்பிடக்கூடியது,

- (1) எஞ்சிய உலகுடன் மேற்கொள்ளும் இலங்கையின் ஏற்றுமதி வீழ்ச்சியடைதல்  
(2) ஏனைய வெளிநாட்டு பிரயோக நாணயங்களுக்கு சார்பாக இலங்கை ரூபாவில் வெளிவாரிப் பெறுமதி வீழ்ச்சியடைதல்  
(3) இலங்கை வர்த்தக மீதியில் மிகையொன்று காணப்படுதல்  
(4) இலங்கையின் ஏற்றுமதி விலைக்குச் சார்பாக இறக்குமதி விலை வீழ்ச்சியடைதல்  
(5) இலங்கையின் இறக்குமதிச் செலவிற்கு சார்பாக ஏற்றுமதி வருவாய் அதிகரித்தல்

38. இறக்குமதியின் மீதான கோட்டா (Quota) விதிப்பதின் எதிர்விளைவாக பின்வருவனவற்றில் எது நடைபெறுமென எதிர்வு கூறலாம்?

- (1) போட்டித்தன்மை அதிகரித்தலும் நுகர்வு விலை வீழ்ச்சியடைதலும்  
(2) இறக்குமதிப் பொருட்களால் கிடைக்கும் அரச வருமானம் உயர்வடைதல்  
(3) தேறிய ஏற்றுமதி அதிகரித்தலும் மொத்த நிரம்பல் அதிகரித்தலும்  
(4) நுகர்வோர் விலைகள் வீழ்ச்சியடைதலும் வளப்பங்கீட்டின் விளைத்திறன் அதிகரித்தலும்  
(5) நுகர்வோர் விலைகள் அதிகரித்தலும் வளப்பங்கீட்டின் விளைத்திறனின்மையும்

39. இலங்கையின் சென்மதி நிலுவை அட்டவணையில் வர்த்தகக் கணக்கின் வரவுப்பகுதியில் உருப்படியாக பின்வருவனவற்றுள் எந்தக் கொடுக்கல் வாங்கல் பதியப்படும்?

- (1) இலங்கை உல்லாசப் பயணியொருவர் அமெரிக்காவுக்கான சுற்றுலாவில் 2,000 \$ செலவிடல்  
(2) மலேசியக் கம்பனியொன்றினால் இலங்கையின் செல்லிடத் தொலைபேசி கம்பனியொன்றின் \$ 10,000 பெறுமதியான பங்குகளைக் கொள்வனவு செய்தல்  
(3) சிங்கப்பூர் முதலீட்டாளரொருவர் 5000 \$ செலுத்தி இலங்கை அரசாங்கத்தின் பிணைமுறிகளைக் கொள்வனவு செய்தல்  
(4) இலங்கை அரசாங்கத்தினால் சர்வதேச நாணய நிதியத்திடமிருந்து பெற்றுக்கொள்ளப்பட்ட 5,000 \$ மில்லியனைத் திருப்பிச் செலுத்தல்  
(5) ரஷ்யாவின் சிறப்புச் சந்தை விலைப்பின்னலொன்று 8,000 \$ செலுத்தி இலங்கையின் தேயிலை இருப்பொன்றைக் கொள்வனவு செய்தல்

40. கருதுகோள் பொருளாதாரமொன்றின் சென்மதி நிலுவை அட்டவணையுடன் தொடர்புடைய சில தரவுகள் பின்வரும் அட்டவணையில் காட்டப்பட்டுள்ளன.

உருப்படி	பெறுமதி (மில்லியன் ரூபா)
ஏற்றுமதி	12,000
இறக்குமதி	15,000
சேவை (தேறிய)	500
ஆரம்ப வருமானம் (தேறிய)	1,000
இடைநிலை வருமானம் (தேறிய)	500
மூலதனமாற்றல் (தேறிய)	400

இப்பொருளாதாரத்தின் நடைமுறைக்கணக்கின் மீதி மில்லியன் ரூபாயில்.

- (1) 600 பற்றாக்குறை (2) 1000 பற்றாக்குறை (3) 3000 பற்றாக்குறை  
(4) 1000 மிகை (5) 3000 மிகை

41. இலங்கை ரூபாவின் பெறுமதி அமெரிக்க டொலரிற்கு எதிராக வீழ்ச்சியடைதலானது இலங்கைப் பொருளாதாரத்தில் எவ்வாறான பாதிப்பை ஏற்படுத்தும்?
- (1) இறக்குமதிக்கான கேள்வி அதிகரித்தலும் ஏற்றுமதிக்கான கேள்வி குறைவடைதலும்
  - (2) இறக்குமதிக்கான கேள்வி குறைவடைதலும் ஏற்றுமதிக்கான கேள்வி அதிகரித்தலும்
  - (3) இறக்குமதி, ஏற்றுமதி ஆகிய இரண்டுக்குமான கேள்வி அதிகரித்தல்
  - (4) இறக்குமதி விலை, ஏற்றுமதி விலை ஆகிய இரண்டும் வீழ்ச்சியடைதல்
  - (5) இறக்குமதி விலை, ஏற்றுமதி விலை ஆகிய இரண்டும் அதிகரித்தல்
42. உலக வர்த்தக நிறுவனத்தின் முக்கிய நோக்கமானது,
- (1) பூகோள நிதி உறுதிப்பாட்டைப் பாதுகாத்தல்
  - (2) பூகோள வறுமையை ஆரம்பத்திலேயே இல்லாதொழித்தல்
  - (3) நிலைபேறான அபிவிருத்தியை ஏற்படுத்திக் கொள்ளல்
  - (4) அங்கத்துவ நாடுகளின் சென்மதி நிலுவைப் பிரச்சினைகளைத் தீர்த்தல்
  - (5) பல்பக்க வர்த்தகத்தை விருத்திசெய்தல்
43. பொருளாதார வளர்ச்சியை மிகச் சிறப்பாக விளக்குவது,
- (1) உற்பத்திச் சாத்திய எல்லை வளையி வலது புறமாக நகர்தலும் இயற்கையான வேலையின்மை வீதம் அதிகரித்தலுமாகும்.
  - (2) உற்பத்திச் சாத்திய எல்லை வளையி வலது புறமாக நகர்தலும் நீண்டகால மொத்த நிரம்பல் வளையி இடது புறமாக நகர்வதுமாகும்.
  - (3) உற்பத்திச் சாத்திய வளையி இடதுபுறமாக நகர்தலும் நீண்டகால மொத்த நிரம்பல் வளையி வலது புறமாக நகர்வதுமாகும்.
  - (4) உற்பத்திச் சாத்திய எல்லை வளையி இடது புறமாக நகர்வதும் நீண்டகால மொத்த நிரம்பல் வளையி வலதுபுறமாக நகர்வதுமாகும்.
  - (5) உற்பத்திச் சாத்திய எல்லை வளையி வலது புறமாக நகர்வதும் நீண்டகால மொத்த நிரம்பல் வளையி வலதுபுறமாக நகர்வதுமாகும்.
44. 2015 ஆம் ஆண்டு ஐக்கிய நாடுகள் சபை மூலம் இனங்காணப்பட்ட நிலை பேறான அபிவிருத்தி இலக்கு **அல்லாதது** பின்வருவனவற்றுள் எதுவாகும்?
- (1) எல்லா இடங்களிலும் எல்லாக் கோணங்களிலிருந்தும் வறுமையை முழுமையாக ஒழித்தலாகும்.
  - (2) காலநிலை மாற்றத்தையும் அதன் பாதிப்பையும் தடுப்பதற்கு விரைவான நடவடிக்கைகளை மேற்கொள்ளல்
  - (3) பட்டினியை இல்லாதொழித்தலும் உணவுப் பாதுகாப்பை ஏற்படுத்தலும் நிலைபேறான விவசாய முன்னேற்றத்தை ஏற்படுத்தலும்
  - (4) நாட்டினுள்ளேயும் நாடுகளுக்கிடையேயும் சமத்துவமின்மையை குறைத்தல்
  - (5) அனைவருக்கும் ஆரம்பக்கல்வியை வழங்குதல்
45. நாடுகள் பொருளாதார ரீதியாக ஒப்பிடுவதற்கும் வகைப்படுத்துவதற்கும் உலக வங்கியால் பயன்படுத்தப்படும் நியதி யாது?
- (1) தலைக்குரிய மொத்தத் தேசிய வருமானம்
  - (2) கொள்வனவுச் சக்தியை அடிப்படையாகக் கொண்ட தலைக்குரிய மொத்தத் தேசிய வருமானம்
  - (3) கொள்வனவுச் சக்தியை அடிப்படையாகக் கொண்ட தலைக்குரிய மொத்த உள்நாட்டு வருமானம்
  - (4) தலைக்குரிய மொத்த உள்நாட்டு உற்பத்தி
  - (5) தலைக்குரிய தேறிய தேசிய வருமானம்



50. குறைந்த வருமானம் பெறும் நாடுகள் நடுத்தர வருமானப் பொறி தொடர்பான நிகழ்வு பின்வருவனவற்றுள் எக்கற்றின் மூலம் சரியாக வரையறுக்கப்படுகின்றது?
- (1) நடுத்தர வருமானம் பெறும் நாடாக மாறுவதற்காக விவசாயத்துறையிலிருந்து விரைவாக மாறுவதற்கும் உற்பத்திக் கைத்தொழில் துறையில் விரைவாக வளர்ச்சியடைவதற்கும் குறைந்த வருமானம் பெறும் நாடுகள் தவறியமை
  - (2) குறைந்த விளைதிறன், குறைந்த சேமிப்பும் அதன் விளைவாக குறைந்த முதலீட்டினால் நாடுகள் குறைந்த வருமான மட்டத்தில் நீண்டகாலம் சிறைப்பட்டிருத்தல்
  - (3) பூகோளமயமாக்கலால் வழங்கப்பட்டுள்ள சந்தர்ப்பங்களுள் ஆகக் குறைந்த கொள்ளளவு மட்டத்தையேனும் அடைந்து கொள்வதற்கு நடுத்தர வருமானம் பெறும் நாடுகளின் உற்பத்தி நிறுவனங்கள் தவறியுள்ளமை
  - (4) இதுவரை விரைவாக வளர்ச்சியடைந்த பொருளாதாரங்கள் ஒரே இடத்தில் தங்கியிருத்தலும் உயர் வருமானம் பெறும் நாடுகளின் நிலைமையை அடையத் தவறியுள்ளமையும்
  - (5) அதிகளவில் கடன்களைப் பெற்றுக்கொண்ட நடுத்தர வருமானம் பெறும் நாடுகள் கடனை மீள் செலுத்துவதற்காக மீண்டும் மீண்டும் கடன் பெறவேண்டிய நிலைமை

\* \* \*

## (21) பொருளியல்

### வினாத்தாள் II

அறிவுறுத்தல்கள் :

- \* உப பகுதி 'அ' இலிருந்து குறைந்தபட்சம் இரண்டு வினாக்களையும் உப பகுதி 'ஆ' இலிருந்து குறைந்தபட்சம் இரண்டு வினாக்களையும் தெரிவுசெய்து, ஐந்து வினாக்களுக்கு மாத்திரம் விடையளிக்குக.

உப பகுதி 'அ'

இப்பகுதியில் இருந்து குறைந்தபட்சம் இரண்டு வினாக்களையேனும் தெரிவுசெய்க.

1. (i) “உற்பத்திக்காகப் பயன்படுத்தப்படும் அனைத்து வளங்களும் பொருளாதார வளங்களாகும்”. இக்கூற்றுடன் நீங்கள் உடன்படுகிறீர்கள்? உங்கள் விடையை காரணத்துடன் விளக்குக.

(04 புள்ளிகள்)

- (ii) A, B என்ற இரண்டு மாற்றுப் பொருளாதார முறைமைகள் தொடர்பான சில தரவுகள் பின்வருமாறு:

A பொருளாதார முறைமை	B பொருளாதார முறைமை
தனியார் சொத்துரிமை	பொதுச் சொத்துரிமை
தனியார் முயற்சியாண்மை	அரசு முயற்சியாண்மை
போட்டித்தன்மை உயர் மட்டத்தில் காணப்படுகின்றமை	போட்டித்தன்மை காணப்படாமை

- (அ) A, B ஆகிய பொருளாதார முறைமைகளைத் தீர்மானிக்கும் பொறிமுறை யாது?

(02 புள்ளிகள்)

- (ஆ) ‘யாருக்காக உற்பத்தி செய்வது’ என்ற அடிப்படை பொருளாதாரப் பிரச்சினைக்கு இப்பொருளாதார முறைமைகள் தீர்வுகாணும் விதத்தை எடுத்துக் காட்டுக.

(02 புள்ளிகள்)

- (iii) சமூக சந்தைப் பொருளாதார முறையொன்றில் ‘சமூக நியாயத்துவத்தை’ உறுதிப்படுத்துவதற்காக மேற்கொள்ளப்படும் நடவடிக்கைகள் யாவை?

(04 புள்ளிகள்)

- (iv) பின்வருவனவற்றை உற்பத்திச் சாத்திய எல்லை வளையியின் மூலம் காட்டுக.

(அ) பொருளாதாரத்திற்கு வெளிநாட்டு முதலீடுகள் கிடைக்கப்பெறுதல்

(ஆ) அடைய முடியாத உற்பத்திச் சேர்க்கை

(இ) குறைந்த வளப்பயன்பாடு

(ஈ) பொருளாதார வளர்ச்சி

(04 புள்ளிகள்)

- (v) பொருளாதாரத்தின் வினைத்திறனை அடைவதற்கு நிறைவேற்ற வேண்டிய நிபந்தனைகளை விளக்குக.

(04 புள்ளிகள்)

2. (i) சாதாரண பண்டமொன்றிற்கான கேள்வி குறைவடைவதில் செல்வாக்குச் செலுத்தும் காரணிகள் யாவை?

(04 புள்ளிகள்)

- (ii) X, Y, Z எனும் பண்டங்களுக்கான சில நெகிழ்ச்சிப் பெறுமானங்கள் கீழே காட்டப்பட்டுள்ளன.

X பண்டத்தின் விலைக் கேள்வி நெகிழ்ச்சி = + 0.2

X, Y பண்டங்களுக்கிடையிலான குறுக்கு கேள்வி விலை நெகிழ்ச்சி = + 1.5

Z பண்டத்தின் வருமானக் கேள்வி நெகிழ்ச்சி = - 1.0

மேலுள்ள தரவுகளைப் பயன்படுத்தி X, Y மற்றும் Z பண்டங்களை வகைப்படுத்துக. (03 புள்ளிகள்)

- (iii) குறித்தவொரு பண்டத்தில் நிரம்பல் நெகிழ்ச்சியற்றிருப்பதில் செல்வாக்குச் செலுத்தும் காரணிகள் யாவை?

(03 புள்ளிகள்)

- (iv) போட்டிச் சந்தையொன்றில் விற்கப்படும் குறித்தவொரு பண்டம் தொடர்பான கேள்வித் தொகையும் மிகைகேள்வித் தொகையும் பின்வரும் அட்டவணையில் காட்டப்பட்டுள்ளது.

விலை (ரூ)	கேள்வித் தொகை (அலகுகள்)	மிகைக்கேள்வித் தொகை (அலகுகள்)
10	500	400
50	100	- 400

- (அ) கேள்வி வளையியும் நிரம்பல் வளையியும் நேர்கோடுகளாகக் காணப்படுவதாகக் கருதி வரைபொன்றின் மூலம் சமநிலைத் தொகையையும் கணிக்கുക. (04 புள்ளிகள்)
- (ஆ) சமநிலை விலையில் நிரம்பல் விலை நெகிழ்ச்சியைக் கணிக்கുക. (02 புள்ளிகள்)
- (இ) 200 அலகுகளில் மிகைக் கேள்வி விலையையும் 500 அலகுகளில் மிகை நிரம்பல் விலையையும் கணிக்கുക. (02 புள்ளிகள்)
- (ஈ) சமநிலை விலையில் பொருளியல் மிகையைக் கணிக்கുക. (02 புள்ளிகள்)

3. (i) பொருத்தமான வரைபடங்களைப் பயன்படுத்தி உற்பத்தியாளர்கள் மீது விதிக்கப்படும் விசேட வரிக்கும், பெறுமதி வரிக்குமிடையிலான வேறுபாடுகளைச் சுருக்கமாக விளக்குக. (04 புள்ளிகள்)
- (ii) விவசாய உற்பத்திகளின் விலையையும் வருமானத்தையும் நிலையாகப் பேணுவதற்குப் பொருத்தமான கொள்கைகளைப் பெயரிட்டு, அவற்றைச் சுருக்கமாக விவரிக்கുക. (06 புள்ளிகள்)
- (iii) குறித்தவொரு பண்டத்துக்கான தொடர்பாக சந்தைக் கேள்வியும், நிரம்பலும் பின்வரும் சமன்பாடுகளின் மூலம் தரப்பட்டுள்ளதாக கருதுக.

$$P = 8 - Q_D \text{ (கேள்வி)}$$

$$P = 2 + Q_S \text{ (நிரம்பல்)}$$

அலகொன்றின் விலை ரூ.P இனால் காட்டப்பட்டுள்ளதுடன் அலகுத் தொகை Q ஆயிரம் கிலோகிராம்களில் காட்டப்பட்டுள்ளது.

- (a) சந்தைச் சமநிலையில் மொத்த வருவாயைக் கணிக்கുക. (02 புள்ளிகள்)
- (b) உற்பத்தியாளர்களுக்கு ஓரலகிற்கு ரூ.2 வரி அறவிடப்பட்டுள்ளதாகக் கருதுக. இவ்வரியின் விளைவாக கொள்வனவாளர்களாலும் விற்பனையாளர்களாலும் இழக்கப்படும் பொருளாதார மிகையைக் கணிக்கുക. (02 புள்ளிகள்)

- (iv) குறித்த பண்டமொன்றுக்கு அரசாங்கம் குறைந்தபட்ச விலையை விதிப்பதாகவும் அவ்விலையினால் ஏற்படக்கூடிய மிகை நிரம்பலை அரசாங்கம் கொள்வனவு செய்வதற்கான நடவடிக்கை எடுக்கப்பட்டுள்ளதாகவும் கருதுக. இக்கொள்கையானது சந்தைச் சமநிலையிலும் இழக்கப்படும் சமூக நலனிலும் ஏற்படுத்தும் பாதிப்பை வரைபடமொன்றை வரைந்து விளக்குக. (06 புள்ளிகள்)

4. (i) குறுங்கால, நீண்டகால சராசரி மொத்தச் செலவு (ATC) வளையி U வடிவம் பெறுவதன் மூலம் விளக்கப்படும் பொருளியல் கோட்பாடு யாது? (04 புள்ளிகள்)

- (ii) அளவுத்திட்ட விளைவு, அளவுத்திட்ட சிக்கனம் என்பனவற்றுக்கு இடையிலான வேறுபாட்டை விளக்குக. (04 புள்ளிகள்)

- (iii) உற்பத்தி மிகை, பொருளியல் இலாபம் ஆகியவற்றுக்கிடையிலான வேறுபாட்டை விளக்குக. (04 புள்ளிகள்)

- (iv) சந்தையொன்று நிறைப்போட்டியைக் கொண்டிருப்பதற்குத் தேவையான எடுகோள்கள் யாவை? அந்த ஒவ்வொரு எடுகோளும் ஏன் முக்கியத்துவம் பெறுகின்றது என்பதை விளக்குக. (04 புள்ளிகள்)

- (v) நிறைபோட்டி உற்பத்தி நிறுவனமொன்றின் குறுங்கால மொத்த வருமானம் ரூ.10,000 ஆகும். இந்நிறுவனத்தின் மொத்தச் செலவும் (TC) மொத்த நிலையான செலவும் (TFC) முறையே ரூ.12,000, ரூ.4,000 ஆகும். இந்நிறுவனம் குறுங்காலத்தில் தொடர்ந்தும் தொழிலில் மேலும் ஈடுபடுமா என்பதை விளக்குக. (04 புள்ளிகள்)

5. (i) வர்த்தக வளையியொன்றின் மீள்பயணம், விரிவாக்க மட்டங்களின் முக்கிய பண்புகளைச் சுருக்கமாக விவரிக்கുക. (04 புள்ளிகள்)

(ii) குறித்ததொரு பொருளாதாரத்தின் 2017 ஆம் ஆண்டிற்கான பேரினப் பொருளாதாரத் தகவல்கள் சில பின்வரும் அட்டவணையில் காட்டப்பட்டுள்ளது.

உருப்படி	பெறுமதி (மில்லியன் ரூபா)
வெளியீட்டின் மொத்தப் பெறுமதி (ஆரம்ப விலையில்)	1600
இடை நுகர்வு	350
மானியம் கழிக்கப்பட்ட உற்பத்தியின் மீதான வரி	100
இறுதி நுகர்வு	1200
..... பெறப்பட்ட சொத்து வருமானம்	200
..... செலுத்தப்பட வேண்டிய சொத்து வருமானம்	250
..... கிடைத்த நடைமுறை மாற்றல்கள்	250
..... செலுத்த வேண்டிய நடைமுறை மாற்றல்கள்	50

மேலுள்ள தரவுகளைப் பயன்படுத்தி பின்வருவனவற்றை மதிப்பிடுக.

- (a) சந்தை விலையில் மொத்த உள்நாட்டு உற்பத்தி (02 புள்ளிகள்)
- (b) சந்தை விலையில் மொத்த தேசிய உற்பத்தி (01 புள்ளிகள்)
- (c) செலவிடத்தக்க மொத்த தேசிய வருமானம் (01 புள்ளிகள்)
- (d) மொத்தத் தேசிய சேமிப்பு (02 புள்ளிகள்)
- (iii) பல்வேறு நாடுகளின் வாழ்க்கை நிலைமைகளின் வேறுபாடுகளைக் கணிப்பிடுவதற்கு தேசிய வருமானக் கணக்குகளைப் பயன்படுத்துவதன் பயன்களையும் வரையறைகளையும் எடுத்துக் காட்டுக. (04 புள்ளிகள்)

(iv) கருதுகோள் ரீதியான பொருளாதாரம் ஒன்று தொடர்பான பேரினப் பொருளாதாரத் தரவுகள் சில பின்வருமாறு.

$$C = 100 + 0.8Y \text{ (நுகர்வுச் சார்பு)}$$

$$I = 200 \text{ (தனியார் முதலீடு)}$$

$$G = 75 \text{ (அரசு கொள்வனவு)}$$

- (a) இப்பொருளாதாரத்தின் சேமிப்புச்சார்பைக் காண்க. (02 புள்ளிகள்)
- (b) சமநிலை தேசிய வருமான மட்டம் யாது? (02 புள்ளிகள்)
- (c) இப்பொருளாதாரத்தின் உச்ச வெளியீட்டு மட்டம் 2000 பில்லியன் ரூபாவாகும். இங்கு அரசு கொள்வனவு 50 பில்லியன் ரூபாவினால் அதிகரிக்கப்பட்டால், மறை அல்லது நேர் வெளியீட்டு வேறுபாட்டினை எவ்வளவு? (02 புள்ளிகள்)

உப பகுதி 'ஆ'

(இப்பகுதியில் இருந்து குறைந்தபட்சம் இரண்டு வினாக்களையாவது தெரிவுசெய்க)

6. (i) மொத்த பணக் கேள்வியில் செல்வாக்குச் செலுத்தும் பேரினப் பொருளாதார மாறிகளை எடுத்துக் காட்டி, அவை பணக் கேள்வியில் செல்வாக்குச் செலுத்தும் விதம் பற்றி ஆராய்க. (04 புள்ளிகள்)
- (ii) பணப்பெருக்கி, வைப்பாக்கப் பெருக்கி என்பனவற்றுக்கிடையிலான வேறுபாட்டை விளக்குக. (04 புள்ளிகள்)
- (iii) செலவாணிச் சமன்பாட்டைப் பயன்படுத்தி பண நிரம்பலின் வளர்ச்சி, பணவீக்கப் பிரச்சினை ஆகியவற்றுக்கிடையில் எவ்வாறு நெருங்கிய தொடர்பு ஏற்படும் என்பதை விவரிக்கുക. (04 புள்ளிகள்)
- (iv) நாடொன்றின் அடிப்படை பணவீக்கத்தை மதிப்பீடு செய்வதன் நோக்கங்களை விளக்குக. (04 புள்ளிகள்)
- (v) இலங்கை மத்திய வங்கி, வங்கிகளுக்கிடையிலான பணத்தீர்வகச் சந்தையில் வட்டி வீதத்தை நிலையாகப் பேணுவதில் எவ்வாறு தலையிடுகின்றது என்பதை விளக்குக. (04 புள்ளிகள்)



7. (i) 'அரசாங்கத்தின் தோல்வி' என்ற எண்ணக்கருவால் கருதப்படுவது யாது? (02 புள்ளிகள்)
- (ii) அரசாங்கத்தின் தோல்வியில் செல்வாக்குச் செலுத்தும் காரணிகள் யாவை? (03 புள்ளிகள்)
- (iii) "குறித்த பண்டமொன்றை உற்பத்தி செய்யும் போது வெளிவாரிச் செலவுகள் ஏற்படும் சந்தர்ப்பத்தில் சந்தையால் வழங்கப்படும் தீர்வானது. சமூக ரீதியான சிறந்த தீர்வாகாது." பொருத்தமான வரைபொன்றின் மூலம் இக்கூற்றை விளக்குக. (05 புள்ளிகள்)
- (iv) இலங்கை அரசாங்கத்தின் நடைமுறைச் செலவின் முக்கிய கூறுகளைப் பெயரிட்டு, அதன் அண்மைகாலப் போக்கினை எடுத்துக் காட்டுக? (05 புள்ளிகள்)
- (v) அண்மைக்காலத்தில் இலங்கையின் அரசு நிதி நிலைமை எதிர்நோக்கியுள்ள பிரதான சவால்கள் யாவை? (05 புள்ளிகள்)

8. (i) அரிசி, புடைவை ஆகியவற்றை உற்பத்தி செய்யும் X, Y ஆகிய இரு நாடுகளில் உற்பத்திச் செலவு பற்றிய தரவுகள் சில கீழே தரப்பட்டுள்ளன.

நாடு	அலவொன்றை உற்பத்தி செய்வதற்குத் தேவையான ஊழியக்கிரயம்	
	அரிசி உற்பத்தி	புடைவை உற்பத்தி
X	5	2
Y	3	6

- (அ) அரிசி உற்பத்தியில் முழு நன்மை எந்த நாட்டில் காணப்படுகிறது? (02 புள்ளிகள்)
- (ஆ) புடைவை உற்பத்தியில் ஒப்பிட்டு நன்மை எந்த நாட்டில் காணப்படுகிறது? (02 புள்ளிகள்)
- (இ) அந்நியோன்யமாக சாதகமான வர்த்தகத்தை மேற்கொள்வதற்காக ஓர் அலகு அரிசிக்கு எத்தனை அலகு புடைவை பரிமாற்றப்பட வேண்டும்? (02 புள்ளிகள்)
- (ii) ஏற்றுமதி, இறக்குமதிச் சுற்றோட்டத்தை கட்டுப்படுத்துவதற்கு அல்லது வர்த்தகத்தின் திசை முகப்படுத்தலை மாற்றுவதற்கு நாடுகளால் பயன்படுத்தப்படுகின்ற சுங்கவரி **அல்லாத** வர்த்தகத் தடைகள் யாவை? (04 புள்ளிகள்)
- (iii) வெளிநாட்டு நாணயமாற்று சந்தையில் வெளிநாட்டு நாணயத்துக்குக் காணப்படும் கேள்வி, நிர்மலைத் தீர்மானிக்கும் காரணிகள் யாவை? (05 புள்ளிகள்)
- (iv) 'பல்பக்க நிதி நிறுவனங்கள்' என்பதை வரைவிலக்கணப்படுத்துக. (03 புள்ளிகள்)
- (v) சர்வதேச நாணய நிதியத்தின் நோக்கங்கள் மூன்றைக் குறிப்பிடுக. (03 புள்ளிகள்)
9. (i) பொருளாதார வளர்ச்சி, பொருளாதார அபிவிருத்தி ஆகியவற்றுக்கிடையிலான வேறுபாட்டை விளக்குக. (05 புள்ளிகள்)
- (ii) இலங்கை உயர் மானிட அபிவிருத்தியை அடைந்துள்ளமைக்கு ஏதுவான காரணிகள் யாவை? (05 புள்ளிகள்)
- (iii) 'சர்வதேச வறுமை எல்லை' என்பதனை வரைவிலக்கணப்படுத்துக. அதன் தற்போதைய பெறுமதிகள் யாவை? (04 புள்ளிகள்)
- (iv) உயர் பொருளாதார வளர்ச்சியை அடைந்து கொள்வதில் இலங்கை தோல்வியுற்றுள்ளமையில் செல்வாக்குச் செலுத்தியுள்ள காரணிகள் யாவை? (06 புள்ளிகள்)

10. (i) இலங்கையை குறைந்த நடுத்தர வருமானத்தைக் கொண்ட நாட்டிலிருந்து உயர் நடுத்தர வருமானத்தைக் கொண்ட நாட்டின் நிலைமையை நோக்கி உயர்த்துவதில் எதிர்நோக்கும் பிரதான சவால்கள் யாவை? (05 புள்ளிகள்)
- (ii) இலங்கைப் பொருளாதாரத்துக்கு வெளிநாட்டு நுகர்வு எவ்வளவு தூரம் முக்கியமானது என்பதை விளக்குக? (05 புள்ளிகள்)
- (iii) இலங்கை எதிர்நோக்கியுள்ள மானிடவியல் இடர் நிலையில் வெளிப்படையாகத் தெரியும் பண்புகளையும் அவற்றின் பொருளாதார விளைவுகளையும் சுருக்கமாக விளக்குக? (05 புள்ளிகள்)
- (iv) “சுதந்திரத்துக்குப் பிற்பட்ட காலப்பகுதியில் இலங்கை பின்பற்றியுள்ள பொருளாதாரக் கொள்கைகளான பாதுகாப்புவாதம், தடையல்லாவாதம் ஆகியவற்றுக்கிடையில் ஊசலாட்டமொன்று எடுத்தக்காட்டப்படுகிறது”. இக்கூற்றை விளக்குக. (05 புள்ளிகள்)

\* \* \*