

සියලුම හිමිකම් ඇවිරිණි]
 முழுப் பதிப்புரிமையுடையது]
 All Rights Reserved]

ශ්‍රී ලංකා විභාග දෙපාර්තමේන්තුව / இலங்கைப் பரீட்சைத் திணைக்களம் / Department of Examinations, Sri Lanka

மறியற்சாலைகள் திணைக்களம் மறியற்சாலைக் காவலாளர் பதவிக்கு
 ஆட்சேர்ப்புச் செய்யும் திறந்த போட்டிப் பரீட்சை - 2008
 Open Competitive Examination for Recruitment to the Post of
 Prison Guard in the Department of Prisons - 2008

(02) பொது அறிவு
 General Knowledge

ஒரு மணித்தியாலம் / One hour

பரீட்சார்த்திகளுக்கான அறிவுறுத்தல்கள்

இங்கும் பக். 3 இல் குறிப்பிட்டுள்ள இடத்திலும்
 உமது சுட்டெண்ணை எழுதுக.

.....
 சுட்டெண்

சரியானது என உறுதிப்படுத்துகிறேன்.

.....
 நோக்குநரின் முதலெழுத்தொப்பம்

முக்கியம் :

- * இவ்வினாத்தாள் 06 பக்கங்களில் 50 வினாக்களைக் கொண்டுள்ளது.
- * விடைகளை எழுது முன்பாகத் தாள்களைப் பக்க இலக்கங்களுக்கு அமைய ஒழுங்குபடுத்துக.
- * எல்லா வினாக்களுக்கும் விடைகளை இத்தாளிலேயே எழுதுக.
- * இவ்வினாத்தாளுக்குரிய நேரம் இரண்டு மணித்தியாலம் ஆகும்.
- * மண்டப மேற்பார்வையாளரின் அறிவித்தலின் பின்னரே விடைகளை எழுதத் தொடங்குக.
- * உமக்குத் தரப்பட்டுள்ள அறிவுறுத்தல்களுக்கேற்ப விடைகளை எழுதுக. அறிவுறுத்தல்களுக்கு அமையாத விடைகளுக்குப் புள்ளிகள் வழங்கப்படமாட்டா.
- * விடைகள் தரப்படாவிட்டாலும் வினாத்தாளை மண்டப மேற்பார்வையாளரிடம் கையளிக்க வேண்டும்.
- * விடைகளைத் தெளிவாக நீல அல்லது கறுப்பு மைப் பேனாவினால் எழுதுக. பென்சிலைப் பயன்படுத்த வேண்டாம்.
- * இவ்வினாத்தாளைப் பரீட்சை மண்டபத்திற்கு வெளியே கொண்டு செல்லல், அதன் ஒளிப்பிரதியை (photocopy) எடுத்தல் என்பன குற்றங்களாகும்.
- * தெளிவற்ற இலக்கம், தெளிவற்ற எழுத்துகள், அழிக்கும் (வெண்) மை மற்றும் பென்சிலைப் பயன்படுத்தி விடையளித்தல் ஆகியவற்றுக்கு மதிப்பீட்டின்போது புள்ளிகள் வழங்கப்படமாட்டா.

பரீட்சாரின் உபயோகத்திற்கு மட்டும்

பக்க எண்	வினா எண்	பெற்ற புள்ளிகள்
2	1 - 10	
3	11 - 20	
4	21 - 30	
5	31 - 41	
6	42 - 50	
மொத்தம்		


இறுதிப் புள்ளிகள்

இலக்கத்தில்	
எழுத்தில்	

விடைத்தாளைப் பரீட்சித்தவர்	
புள்ளிகளைப் பரீட்சித்தவர்	

பகுதி I


- 1 தொடக்கம் 30 வரையுள்ள வினாக்கள் ஒவ்வொன்றுக்கும் உரிய விடையைக் கீழே தரப்பட்டுள்ள நான்கு விடைகளிலிருந்தும் தெரிந்தெடுத்து. அதனைக் குறித்து நிற்கும் இலக்கத்தைப் புள்ளிக் கோட்டின் மீது எழுதுக.
- இலங்கையில் ஒரு பாடசாலையைத் திறந்து சிறைச்சாலையை மூடும் எண்ணக்கருவும் கல்வியைப் பரவலாக்கும்போது முக்கியமாகக் கருதப்பட்டது
(1) 18 ஆம் நூற்றாண்டின் முதல் அரைவாசியில் ஒல்லாந்தர் ஆட்சிக் காலத்தில்
(2) 19 ஆம் நூற்றாண்டின் முதல் அரைவாசியில் பிரித்தானியரின் ஆட்சிக் காலத்தில்
(3) 20 ஆம் நூற்றாண்டின் முதல் அரைவாசியில் பிரித்தானியரின் ஆட்சிக் காலத்தில்
(4) 20 ஆம் நூற்றாண்டின் பின் அரைவாசியில் சுதந்திரத்திற்குப் பிந்திய காலத்தில் (.....)
 - இலங்கையில் குற்றங்கள் தொடர்பாகச் சிறையில் வைக்கப்பட்டவருக்கு மன்னிப்பை வழங்கும் அதிகாரத்தைக் கொண்டிருப்பவர்/கொண்டிருப்பது
(1) நீதி அமைச்சர் (2) பிரதமர்
(3) உயர் நீதிமன்றம் (4) சனாதிபதி (.....)
 - இலங்கையின் முதல் திறந்த வெளிச் சிறைமுகாம் அமைந்துள்ள இடம்
(1) விரவிலை (2) மக இலுப்பல்லம்
(3) பல்லேகலை (4) கொக்கலை (.....)
 - இலங்கையில் பொலீஸ் கைதுசெய்த சந்தேக நபரை விளக்கமறியலில் வைப்பது
(1) நீதிவாநிடம் காண்பித்த பின்னர்
(2) சட்டவறிஞரிடம் காண்பித்த பின்னர்
(3) முதன்மை நீதிமன்றத்தில் காண்பித்த பின்னர்
(4) மாகாணத்தின் பிரதிப் பொலீஸ் மாஅதிபரிடம் காண்பித்த பின்னர் (.....)
 - அடிப்படை மனித உரிமைகள் தொடர்பான வாசகம் இலங்கை அரசியலமைப்பில் விரிவாகச் சேர்க்கப் பட்ட ஆண்டு
(1) 1958 (2) 1972
(3) 1978 (4) 1988 (.....)
 - கடும் குற்றங்களைச் செய்த தவறாளி சிறையில் வைக்கப்பட்டாலும் புனர்வாழ்வளிக்கப்படுவதற்காகப் பெரிய அளவிலான வேலை நிகழ்ச்சித்திட்டங்கள் வெற்றிகரமாக நடைமுறைப்படுத்தப்படும் நாடு
(1) ஐக்கிய அமெரிக்க அரசுகள் (2) இந்தியா
(3) தாய்லாந்து (4) மியன்மார் (.....)
 - அண்மையில் நடைபெற்ற கிழக்கு மாகாண சபைத் தேர்தல் பணிகளை அவதானித்த வெளிநாட்டு நிறுவகம்
(1) ஐரோப்பிய சங்கம் (EU) (2) பபரல் அமைப்பு
(3) ஆசிய தேர்தல் அதிகாரிகள் சங்கம் (AAEA) (4) சார்க் அமைப்பு (SAARC) (.....)
 - இலங்கையின் மிகப் பழைய அரசியல் கட்சி
(1) ஐக்கிய தேசியக் கட்சி (2) இலங்கைக் கம்பியூனிற் கட்சி
(3) இலங்கைச் சமசமாஜக் கட்சி (4) இலங்கைச் சுதந்திரக் கட்சி (.....)
 - இலங்கைச் சனத்தொகையில் 16% இந்நோயினால் பீடிக்கப்பட்டிருந்தாலும் அந்நோயினால் பீடிக்கப்பட்டிருப்பவர்களில் ஏறத்தாழ 50% ஆனோர் அதனை அறிந்திருப்பதில்லையென அறியப்பட்டுள்ளது. இந்நோய்
(1) உயர் குருதியழுக்கம் (2) நீரிழிவு
(3) புற்றுநோய் (4) இதய நோய் (.....)
 - இலங்கையில் அதிக எண்ணிக்கையில் விமான நிலையங்கள் உள்ள மாகாணம்
(1) மேல் மாகாணம் (2) கிழக்கு மாகாணம்
(3) வட மாகாணம் (4) தென் மாகாணம் (.....)



11. பிரித்தானியர் காலத்தில் இலங்கையர்களுக்கு முதல் தடவையாகப் டொருத்தமான டொருளாதார, சமூகக் கொள்கையைத் தயாரிப்பதற்கும் திட்டமிடுவதற்குமான சந்தர்ப்பம் கிடைத்தது
(1) 1833 இல் கொல்புறாக் அரசியலமைப்பின் கீழ்
(2) 1924 இல் மனிங் அரசியலமைப்பின் கீழ்
(3) 1931 இல் டொனமூர் அரசியலமைப்பின் கீழ்
(4) 1947 இல் சோல்பரி அரசியலமைப்பின் கீழ் (.....)
12. இலங்கையில் தேசிய பால் உற்பத்தி நாட்டின் டொத்தத் தேவையில் ஏறத்தாழ
(1) 10% (2) 20%
(3) 25% (4) 30% (.....)
13. இலங்கையில் மிகப் பெரிய கற் குசையாகக் கருதப்படும் குகை
(1) ரன்கிரி தம்பலுக் குகை (2) பட்டதொலக் குகை
(3) பாகியங்கலக் குகை (4) கித்துல்கலக் குகை (.....)
14. இலங்கைக்கே உரிய நகருயிர்
(1) புடையன் (2) நாக பாம்பு
(3) இரத்தப் புடையன் (4) சாரை (.....)
15. 2009 ஆம் ஆண்டிலே தரம் 1 இற்கு மாணவர்களை அனுமதித்தல் தொடர்பாக வெளியிடப்படும் கல்வி அமைச்சின் சுற்றுநிருபத்தைத் தயாரிக்கையில் கருத்தில் கொள்ளப்பட்டுள்ள விதப்புரைகள்
A. தேசிய கல்வி ஆணைக்குழுவின் விதப்புரை
B. தேசிய கல்வி நிறுவகத்தின் விதப்புரை
C. உயர் நீதிமன்றத்தின் விதப்புரை
D. கல்வி தொடர்பான சனாதிபதி வினையாற்றல் செயலணியின் விதப்புரை
(1) AB (2) BC
(3) AC (4) AD (.....)
16. நோபல் பரிசு வழங்கப்படும் பிரதான துறைகளின் எண்ணிக்கை
(1) 3 (2) 4
(3) 5 (4) 6 (.....)
17. புவியின் ஆயுள் பற்றிய கொள்கையை எடுத்துரைத்த உலகப் பிரசித்தி பெற்ற இரு இலங்கை விஞ்ஞானிகள்
A. ஆதர் சீ. கிளாக்
B. சிறில் டொன்னம்பெரும
C. சந்திர விக்கிரமசிங்க
D. காளோ டொன்சேகா
(1) AB (2) AD
(3) BC (4) BD (.....)
18. உலகில் அரிசி ஏற்றுமதி தொடர்பாக முக்கிய நாடாகக் கருதப்படுவது
(1) சீனா (2) மியன்மார்
(3) கம்போடியா (4) தாய்லாந்து (.....)
19. கனிப்பொருள் பண்படுத்தா எண்ணெயின் ஒரு பீப்பாவில் அடங்கும் எண்ணெயின் அளவு எத்தனை லீற்றர் ?
(1) 150 (2) 155
(3) 159 (4) 160 (.....)
20. பிரசித்திபெற்ற கான்ஸ் திரைப்பட விழா நடைபெறும் நாடு
(1) ஐக்கிய அமெரிக்க அரசுகள் (2) ஜெர்மனி
(3) பிரான்ஸ் (4) இந்தியா (.....)




21. தகவல் தொழினுட்பவியலின் முன்னேற்றத்திலே அடிப்படையில் செல்வாக்குச் செலுத்தும் காரணி
(1) கணினி (2) செய்மதிச் செய்திப் பரிமாற்றம்
(3) மின்னஞ்சல் (4) மென்பொருள் உற்பத்தி (.....)
22. 2008 ஆம் ஆண்டின் முதல் அரைவாசியில் ஏறத்தாழ 2500 அமெரிக்க டொலர் விலையுள்ள மோட்டர்க் காரைச் சந்தையில் முன்வைப்பதற்கு எதிர்பார்க்கும் நாடு
(1) யப்பான் (2) சீனா
(3) இந்தியா (4) தென்கொரியா (.....)
23. ஐரோப்பிய சங்கத்தைச் (EU) சேர்ந்த உறுப்பு நாடுகளின் எண்ணிக்கை
(1) 25 (2) 26
(3) 27 (4) 28 (.....)
24. இசை, மெய்யியல், ஓவியமும் சிற்பமும், இலக்கியம் என்னும் துறைகளுடன் முறையே தொடர்புபட்ட நபர்கள் சரியாக இடம்பெறும் விடை
(1) மைக்கலேஞ்சலோ, பேற்றன்ட் ரசல், பேத்தோவன், கீ டி. மோப்பசாங்
(2) பேத்தோவன், பேற்றன்ட் ரசல், மைக்கலேஞ்சலோ, கீ டி. மோப்பசாங்
(3) கீ டி. மோப்பசாங், மைக்கலேஞ்சலோ, பேத்தோவன், பேற்றன்ட் ரசல்
(4) பேற்றன்ட் ரசல், பேத்தோவன், கீ டி. மோப்பசாங், மைக்கலேஞ்சலோ (.....)
25. பின்வரும் ஆசிய நாடுகளிடையே ஆண்டுச் சனத்தொகை வளர்ச்சியின் சதவீதம் மிகவும் உயர்வாகவுள்ள நாடு
(1) சீனா (2) இந்தியா
(3) சவுதி அரேபியா (4) மலேசியா (.....)
26. 2008 ஆம் ஆண்டில் ஆஷ் கிண்ண ரெஸ்ட் கிறிக்கெற் போட்டி நடைபெறுவது
(1) இங்கிலாந்திற்கும் அவுஸ்திரேலியாவிற்குமிடையே
(2) இங்கிலாந்திற்கும் நியூசீலாந்திற்குமிடையே
(3) அவுஸ்திரேலியாவிற்கும் நியூசீலாந்திற்குமிடையே
(4) தென்னாபிரிக்காவிற்கும் இங்கிலாந்திற்குமிடையே (.....)
27. ஐக்கிய நாடுகளின் மனித உரிமைப் பேரவையின் தலைமையகம் இருக்கும் நகரம்
(1) நியூயோர்க் (2) பரிஸ்
(3) ஜென்வா (4) ரோம் (.....)
28. தெஹெரான், பேருத், காட்டும், ஹராரே என்பன தலைநகர்களாக உள்ள நாடுகள் முறையே
(1) ஈரான், சுடான், லெபனன், சிம்பாப்வே (2) சிம்பாப்வே, ஈரான், சுடான், லெபனன்
(3) சுடான், சிம்பாப்வே, ஈரான், லெபனன் (4) ஈரான், லெபனன், சுடான், சிம்பாப்வே (.....)
29. தற்போது பலருடைய சவனத்தை ஈர்த்துள்ள GSP+ தொடர்பு என்பது
(1) இலங்கையின் வருமான வரி முறை
(2) SAPTA உடன்படிக்கை
(3) ஐரோப்பிய சங்கம் (EU)
(4) பாகிஸ்தான் - இலங்கைச் சுதந்திர வர்த்தக உடன்படிக்கை (.....)
30. அண்மையில் சீனாவைத் தாக்கிய பயங்கரமான பூமியதிர்ச்சியின் அளவு றிக்ரர் (Richter) அளவிடையில்
(1) 7.6 (2) 7.8
(3) 7.9 (4) 8.0 (.....)



பகுதி II

- 31 தொடக்கம் 50 வரையுள்ள வினாக்கள் ஒவ்வொன்றுக்கும் உரிய சரியான விடையைப் புள்ளிக் கோட்டின் மீது எழுதுக.
31. புகையிரதத் தண்டவாளங்களின் நீளத்தையும் கொண்டு செல்லப்படும் பயணிகளின் எண்ணிக்கையையும் கருத்தில் கொள்ளும்போது உலகில் முக்கிய இடத்தை வகிக்கும் நாடு யாது ?
-
32. ஸ்ரீவிக்கிரம ராஜசிங்க மன்னன் இலங்கையிலிருந்து நாடு கடத்தப்படுமுன்பாக இறுதியாகச் சிறையில் வைக்கப்பட்டிருந்த இடம் யாது ?
-
33. மிகவும் பரபரப்பை ஏற்படுத்திய பிரபாகரன் என்னும் திரைப்படத்தின் இயக்குநரின் பெயரை எழுதுக.
-
34. இவ்வாண்டு (2008) மே மாதம் மியன்மாரில் வீசிய சூறாவளிக்கு வழங்கும் பெயர் யாது ?
-
35. உமா ஓயாச் செயற்றிட்டத்தின் கீழ் உமா ஓயாவின் நீர் 23 km நீளமுள்ள ஒரு சுரங்கப்பாதை வழியே எந்த ஆற்றுக்குத் திருப்பப்படும் ?
-
36. இலங்கையின் மிகப் பெரிய ஈரத் தாழ் நிலத்தின் பெயரை எழுதுக.
-
37. 2008 ஆம் ஆண்டிலே நேப்பாளத்தில் நடைபெற்ற பாராளுமன்றத் தேர்தலில் கூடுதலான அதிகாரத்தைப் பெற்ற பிரசண்டா என அழைக்கப்படும் தலைவர் தலைமை வகிக்கும் அமைப்பின் பெயரை எழுதுக.
-
38. 2008 மே மாதத்தில் பதவியேற்ற ரூசியா சனாதிபதியின் பெயரை எழுதுக.
-
39. தகவல் தொழினுட்பத் துறையில் செல்லிடத் தொலைபேசி தொடர்பாக 3G என்பதன் கருத்து யாது ?
-
40. ஏனைய வானொலி அலைகளிலும் பார்க்க FM அலையின் சிறப்பியல்பு யாது ?
-
41. இலங்கையின் சுதந்திர வர்த்தக வலயம், ஏற்றுமதி அமைப்பு வலயம் போன்ற வர்த்தக வலயங்களை அமைப்பதற்கு 1978 ஆம் ஆண்டில் நிறுவப்பட்ட அமைப்பு யாது ?
-



42. பிரசித்திபெற்ற யப்பான் 5 S எண்ணக்கருவிற்கேற்பக் "சித்சுகே" என்பதன் கருத்து யாது ?
.....
43. சூப்பையை அகற்றல் தொடர்பாக அண்மையில் மிகுந்த நெருக்கடியை எதிர்நோக்கிய ஐரோப்பிய நாடு யாது ?
.....
44. விண்வெளியில் கருந் துளைகள் (Black holes) எனப்படுபவை யாவை ?
.....
45. தற்போது தொலைக்காட்சியில் ஒளிபரப்பப்படும் அண்ணாமலை என்ற தொலைக்காட்சி நாடகத் தொடரின் இயக்குநரின் பெயர் யாது ?
.....
46. தற்போதும் எதிர்காலத்திலும் இலங்கை அந்நியச் செலாவணியை உழைத்தல், தொழில் வாய்ப்புகளை ஏற்படுத்தல் என்பன தொடர்பாகச் சாத்தியமான வளங்கள் உள்ள மிக முக்கிய துறை யாது ?
.....
47. இலங்கையின் அதியுயர் தனியாள் வருமான வரிச் சதவீதம் யாது ?
.....
48. இலங்கையில் க.பொ.த. (சா.த.) பரீட்சையில் சித்தியடைந்தவர்களின் சதவீதம் தொடர்பாக 2008 ஆம் ஆண்டில் ஒரு வரலாற்றுரீதியான சாதனை ஏற்பட்டது. இச்சதவீதம் யாது ?
.....
49. 2008 ஆம் ஆண்டில் ஒலிம்பிக் விளையாட்டுப் போட்டிகள் ஆரம்பிக்கவுள்ள மாதம், நாள், நேரம் ஆகியவற்றை (கிட்டிய செக்கனிற்கு)ச் சரியாக எழுதுக.
.....
50. அமெரிக்க ஐக்கிய அரசுகளில் இடம்பெறும் அரசுகளின் எண்ணிக்கை யாது ?
.....

