

දකුණු පළාත් අධ්‍යාපන දෙපාර්තමේන්තුව

අවසාන වාර පරීක්ෂණය - 2020

06 - ශ්‍රේණිය

චිත්‍ර කලාව

නම/විභාග අංකය :-


කාලය: පැය 02 යි.

සැලකිය යුතුයි:

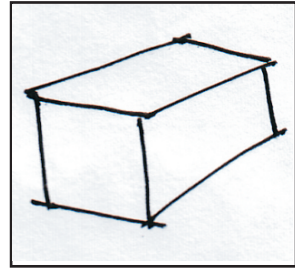
- (i) සියලු ම ප්‍රශ්නවලට පිළිතුරු සපයන්න.
- (ii) අංක 01 සිට 05 දක්වා ප්‍රශ්නවලට පහත දී ඇති රූප සටහන් ඇසුරු කරගනිමින් නිවැරදි ඉංග්‍රීසි අක්ෂරය ලියන්න.




A රූපය



B රූපය



C රූපය



D රූපය



E රූපය

1. පර්යාවලෝකනය දැක්වෙන රූප සටහන ය.
 2. ඇස් මට්ටමින් පහළ නිරූපණය වන සේ නිර්මාණය කර ඇති රූපය ය.
 3. ඉස්ලාම් පල්ලියේ බිත්ති මත ඇති නිර්මාණයක් දැක්වෙන රූපය ය.
 4. ත්‍රිමාන ලක්ෂණ හා එළිය අඳුර නිරූපිත චිත්‍රය ය.
 5. හින්දු ආගමික ගොඩනැගිල්ලක් දැක්වෙන්නේ ය.
- ප්‍රශ්න අංක 06 සිට 10 දක්වා ප්‍රශ්නවලට වඩාත් ගැලපෙන පිළිතුර තෝරා යටින් ඉරක් අඳින්න.
 - 6. දේශීය සැරසිලි මූලිකාංග වර්ගීකරණයට අයත් නොවන්නේ මෙයින් කුමන කාණ්ඩය ද?

(1) දිව්‍ය	(2) සත්ත්ව
(3) සමමිතික	(4) උද්භිද

7. පහත තීරු සැරසිලි වලින් කුන්දිරක්කන් සැරසිල්ල දැක්වෙන රූපය කුමක් ද?



8. නවසැද බැලීමෙන් පසු උපවාස කාලය අවසන් කර පවත්වනු ලබන ඉස්ලාම් ආගමික උත්සවය

- (1) හජ්ජ් උත්සවය යි.
- (2) තෛපොංගල් උත්සවය යි.
- (3) රාමසාන් උත්සවය යි.
- (4) දීපවාලී උත්සවය යි.

9. ජේසු උපත සමරන නත්තල් උත්සවයේ දී කිතුනුවන් විසින් කරනු ලබන සැරසිල්ලක් නොවන්නේ,

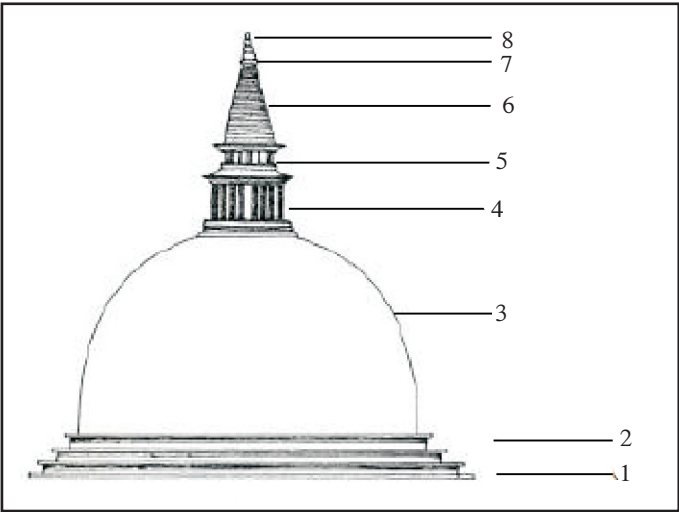
- (1) ගවලෙන් සෑදීම ය.
- (2) නත්තල් ගස් අලංකාර කිරීම ය.
- (3) විදුලි බුබුලු මගින් නිවෙස් අලංකාර කිරීම ය.
- (4) කෝලම් සැරසිලි කිරීම ය.

10. වෙසක් උත්සව සැරසිලි අංග ඇතුළත් පිළිතුර තෝරන්න.

- (1) පූර්ණ කුම්භ, කෝලම්, ගොක් රැහැන්
- (2) තොරණ, පහන් කුඩු, පහන් වැටි, කොඩි
- (3) අඹකොළ සැරසිලි, කෙසෙල් ගස් තැබීම
- (4) කොඩිවැල්, ගව ලෙන්, නත්තල් ගස

• 11 සිට 15 දක්වා ප්‍රශ්නවලට වඩාත් ගැලපෙන පිළිතුර පහත වරහන් තුළින් තෝරා හිස්තැන් පුරවන්න.
(ගොතික් / මීනාර් / ගෝපුරම් / අල්තාරය / නන්දි)

- 11. ඉස්ලාම් පල්ලියේ දෙපස ඉදිකර ඇති මුදුනේ ශිඛර හැඩ සහිත කුලුනු යනුවෙන් හඳුන්වයි.
- 12. තුඩු සහිත ආරැක්කු සහ දෙපසට දල බෑවුම් වහල සහිතව නිර්මාණය කර ඇත්තේ ක්‍රමයේ ක්‍රිස්තියානි දේවස්ථානය.
- 13. කතෝලික දේවස්ථානවල දේව මෙහෙයන් පැවැත්වීම සඳහා නිමවා ඇති කොටස පූජාසනය හෙවත් ලෙස නම් කරයි.
- 14. හින්දු කෝවිලක ප්‍රධානම ගෘහ නිර්මාණ අංගය වන්නේ දොරටුව ඉහළ ඇති නම් අලංකාර තොරණයි.
- 15. ශිව දෙවියන්ගේ වාහනය වන ගවයාගේ රුව බොහෝ හින්දු දේවාල වල දැකිය හැකිය.
- ප්‍රශ්න අංක 16 - 20 දක්වා දී ඇති වාක්‍ය වල හිස්තැන් පිරවීමට පහත රූපය භාවිත කරන්න.



16. අංක 01 මගින් පෙන්වා ඇත්තේ ය
17. වෛත්‍යයේ ධාතුන් වහන්සේ නිදන් කොට ඇත්තේ අංක 3 න් පෙන්වා ඇති
18. අංක 4 න් නිරූපනය වන හතරැස් කොටුව ඉන්දියාවේ සාංචි ස්තූපයේ දී නමින් හැඳින්වේ
19. මේ රූපසටහනේ නිරූපනය වන වෛත්‍යය හැඩයෙන් යුක්තය.
20. වෛත්‍යය මුදුනේ ම ඇති අංක 8 මගින් නිරූපණය වන්නේ ය.

II කොටස - ද්‍රව්‍ය බලා ඇදීම

- ඔබ ඉදිරියේ තබා ඇති ද්‍රව්‍ය සමූහය පැන්සලෙන් පමණක් විත්‍රනය කරන්න.
- ද්‍රව්‍යවල ස්වභාවය, එළිය ඇඳුර, පර්වායලෝකන ලක්ෂණ පෙනෙන සේ කොළයට සම්පීඩනය කර අඳින්න. (ල . 20)

III කොටස

පහත මාතෘකා වලින් එකක් තෝරාගෙන වර්ණවත් විත්‍රයක් නිර්මාණය කරන්න

1. පුංචි අපේ සෙල්ලම් ගෙදර
2. වනයේ දිය පහරකින් දියබොන සතුන් පිරිසක්
3. ආගමික වතාවත් වල යෙදෙන පිරිසක්
4. මල් හා කොල යොදාගෙන චිත්ත රෙදි මෝස්තරයක්
5. තෑගි දවටනයකට සුදුසු මෝස්තරයක් .
6. ළමා කතන්දර පොතක කවරය නිර්මාණය කරන්න
7. ඔබේ මිතුරෙකුගේ උපන් දිනයට සුභ පැතුම් පතක් (ල . 60)

දකුණු ජලාත් අධ්‍යාපන දෙපාර්තමේන්තුව

අවසාන වාර තර්කණය - 2020


06 - ශ්‍රේණිය

චිත්‍ර කලාව II කොටස

නම/විභාග අංකය :-

කාලය: පැය ½ ඔ.

- යෝජිත ද්‍රව්‍ය :- මාරි පෙට්ටියක් , වොලිබෝලයක්, ධාරකයක්
- පැත්තලෙන් පමණක් චිත්‍රනය කිරීමට සිසුන්ට උපදෙස් ලබා දෙන්න.



දකුණු පළාත් අධ්‍යාපන දෙපාර්තමේන්තුව

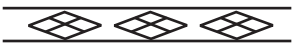
අවසාන වාර තර්කණය - 2020

06 - ශ්‍රේණිය

චිත්‍ර කලාව - පිළිතුරු

නම/විභාග අංකය :-

කාලය: පැය 02 යි.

- (01) D රූපය
- (02) C රූපය
- (03) E රූපය
- (04) A රූපය
- (05) B රූපය
- (06) 3 සමමිතික
- (07) 2 
- (08) 3 (රාමසාන් උත්සවය)
- (09) 4. (කෝලම් සැරසිලි කිරීම)
- (10) 2. (තොරණ, පහන් කුඩු, පහන් වැටි, කොඩි)
- (11) මිනාර්/ මිනරේට්ටි
- (12) ගොතික් ක්‍රමය
- (13) අල්තාරය
- (14) ගෝපුරම්
- (15) නන්දි
- (16) පාදම
- (17) ගර්භය
- (18) හර්මිකා
- (19) බුබුබුලාකාර
- (20) සිලමිණ