

දකුණු පළාත් අධ්‍යාපන දෙපාර්තමේන්තුව

පළමු වාර පරීක්ෂණය - 2020

11 - ශ්‍රේණිය

ව්‍යාපාර හා ගිණුම්කරණ අධ්‍යයනය -I, II

හම/විභාග අංකය : කාලය : පැය 03 යි.

I පත්‍රය

උපදෙස් :

- සියලු ම ප්‍රශ්න වලට පිළිතුරු සපයන්න.
- අංක 01 සිට 40 තෙක් ප්‍රශ්නවල දී (1), (2), (3), (4) පිළිතුරුවලින් නිවැරදි හෝ වඩාත් ගැලපෙන හෝ පිළිතුර තෝරන්න.
- දී ඇති පිළිතුරු පත්‍රයේ එක් එක් ප්‍රශ්නය සඳහා දී ඇති කව අතුරෙන් ඔබ තෝරාගත් පිළිතුරෙහි අංකයට සැසඳෙන කවය තුළ ' x ' ලකුණ යොදන්න.

- පහත සඳහන් සිද්ධිය ඇසුරෙන් අංක 01 සිට 03 තෙක් ප්‍රශ්නවලට පිළිතුරු සපයන්න.

කොරෝනා වෛරස තත්වය මත වෙළෙඳපොළේ මුඛ ආවරණ සඳහා අධික ඉල්ලුමක් නිර්මාණය විය. ඇතැම් ව්‍යාපාරික කොටස් ඒවායේ මිල ගණන් හිතමතයේ ඉහළ නැංවීය. මෙම තත්වය පාලනය කිරීම සඳහා සෞඛ්‍ය අමාත්‍යාංශය මුළු ආවරණ උදෙසා උපරිම මිලක් නියම කරන ලදී. තවද රජයේ ඔසුසල් මුඛ ආවරණ රජයේ අනුමත මිලට අලෙවි කිරීමට ඉදිරිපත් විය.

01. රජයේ ඔසුසල් සපුරාලනු ලබන මිනිස් අවශ්‍යතාවය කුමක් ද?

- | | |
|-------------|--------------|
| 1. ආරක්‍ෂාව | 2. ඇඳුම් |
| 3. සෞඛ්‍යය | 4. අධ්‍යාපනය |

02. අවශ්‍යතාවල දක්නට ලැබෙන ප්‍රධාන ලක්ෂණයක් වන්නේ,

- | | |
|-------------------|---------------|
| 1. අත්‍යවශ්‍ය වීම | 2 විවිධ වීම |
| 3. සංකීර්ණ වීම | 4. අසීමිත වීම |

03. සිද්ධියට අදාළ වන රාජ්‍ය ඔසුසල්හි ව්‍යාපාර අරමුණ වන්නේ,

1. භාණ්ඩ හා සේවා නිෂ්පාදනය කිරීමයි.
2. සාධාරණ මිලකට ගුණාත්මක භාණ්ඩ ලබා දීමයි.
3. ආර්ථික කටයුත්තක නියැලීමයි.
4. සේවක බඳවා ගැනීම හා අභිප්‍රේරණයයි.

04. ව්‍යාපාරයක බාහිර පරිසර සාධක පමණක් ඇතුළත් පිළිතුර තෝරන්න.

1. දේශපාලන පරිසරය, අයිතිකරුවෝ, ආර්ථික පරිසරය
2. තාක්ෂණික පරිසරය, ගනුදෙනුකරුවෝ, ගෝලීය පරිසරය
3. ආර්ථික පරිසරය, සේවකයෝ, තාක්ෂණික පරිසරය
4. ආර්ථික පරිසරය, ගෝලීය පරිසරය, කළමනාකරුවෝ

05. '2020 ජනවාරි මස සිට බැංකු ණය පොලී අනුපාතය 2% කින් පහළ දැමීමට තීරණය කර ඇත.' මේ නිසා ව්‍යාපාර වලට වන බලපෑම දැක්වෙන වඩාත් ම නිවැරදි පිළිතුර වන්නේ,

1. ව්‍යාපාරය විසින් ණය ගැනීම සීමා කිරීම.
2. භාණ්ඩ හා සේවා වල විකුණුම් මිල ඉහළ දැමීම.
3. ව්‍යාපාර විසින් ණය ගැනීමට පෙළඹවීම.
4. ව්‍යාපාර විසින් බැංකු ගිණුම්වල මුදල් තැන්පත් කිරීම ඉහළ යාම.

06. ව්‍යාපාරයකට පිළිගත් සන්නම් නාමයක් තිබීම①..... වන අතර යටිතල පහසුකම් වැඩි දියුණු වීම ව්‍යාපාරයට②..... වේ.

ඉහත ප්‍රකාශයේ ① හා ② යන ස්ථානවලට අදාළ නිවැරදි යෙදුම් පිළිවෙලින් දැක්වෙන පිළිතුර තෝරන්න.

- | | |
|------------------------|----------------------------|
| 1. අවස්ථාවක්, ශක්තියක් | 2. අවස්ථාවක්, දුර්වලතාවයක් |
| 3. ශක්තියක්, අවස්ථාවක් | 4. තර්ජනයක්, ශක්තියක් |

07. ව්‍යාපාර සංවිධානයක් තෝරා ගැනීමේ දී පදනම් වන ප්‍රධාන අරමුණු දෙක වන්නේ,

- | | |
|-------------------------------|---|
| 1. ලාභ ලැබීම, අඛණ්ඩ පැවැත්ම | 2. ලාභ ලැබීම, භාණ්ඩවල ගුණත්වය |
| 3. ලාභ ලැබීම, සමාජික සුභසාධනය | 4. ලාභ ලැබීම, මිනිස් අවශ්‍යතා ඉටු කිරීම |

08. අසේල අනාගතයේ ව්‍යාපාරිකයෙකු වීමට සිහින දකින පුද්ගලයෙකි. මොහු තනිව අවධානම් දැරීමට බියක් දක්වන අතර දැඩි නීත්‍යානුකූල බැඳීම්වලින් තොරව පහසුවෙන් ව්‍යාපාර පවත්වා ගෙන යාමට ද අදහස් කරයි. ඒ අනුව අසේලට ආරම්භ කිරීමට වඩා සුදුසු ව්‍යාපාර සංවිධාන වර්ගය වන්නේ,

- | | |
|-----------------------|-------------------|
| 1. ඒක පුද්ගල ව්‍යාපාර | 2. හවුල් ව්‍යාපාර |
| 3. සංස්ථාපිත සමාගම් | 4. සමීති සංවිධාන |

09. ඒක පුද්ගල ව්‍යාපාරයක නාමය ලියාපදිංචි කිරීම තුළින් අත්වන ප්‍රයෝජනයක් වන්නේ,

1. ව්‍යාපාරයට අඛණ්ඩ පැවැත්මක් ලැබීමයි.
2. ව්‍යාපාරයට නෛතික පුද්ගලභාවයක් ලැබීමයි.
3. බදු නිදහස ලැබීමයි.
4. ව්‍යාපාරයට අන්‍යෝන්‍යවයක් ලැබීමයි.

10. ණයපත් හා හරපත් යන විද්‍යුත් මුදල් කාඩ්පත් වල VISA යන යෙදුම් දක්නට ඇත. මෙම යෙදුම් සහිත කාඩ්පත් ක්‍රියාත්මක වන්නේ,

- | | |
|-----------------------------------|---------------------------------|
| 1. අභ්‍යන්තර ණයපත් ජාල වශයෙනි. | 2. ජාත්‍යන්තර ණයපත් ජාල වශයෙනි. |
| 3. ලංකා බැංකුවේ ණයපත් ජාල වශයෙනි. | 4. මහ බැංකුවේ ණයපත් ජාල වශයෙනි. |

11. රත්න වොකලට් නිෂ්පාදන ව්‍යාපාරයක නිරත වන අතර ඔහු තම ජංගම ගිණුම් මහජන බැංකුවේ බෙලිඅත්ත ශාඛාවේ පවත්වා ගෙන යයි. මාතලේ ලංකා බැංකුවේ ජංගම ගිණුම් පවත්වා ගෙන යන පියල්ගෙන් රු. 80 000 ක් වටිනා කොකෝවා තොගයක් මිලදී ගෙන රත්න පියල්ට වෙක්පතකින් ගෙවන ලදී. මෙම සිද්ධියට අදාළ අණලදු වන්නේ වන්නේ,

- | | |
|----------|---------------------------|
| 1. රත්න | 2. මහජන බැංකුව - බෙලිඅත්ත |
| 3. පියල් | 4. ලංකා බැංකුව - මාතලේ |

12. නුවන් සිය වෙළෙඳසැලට රක්‍ෂණ සමාගමකින් ගිනි රක්‍ෂණ ඔප්පුවක් ලබා ගන්නා ලදී. පසුව ගෑස් සමාගමක නියෝජිතයකු ලෙස ගෑස් බෙදාහැරීමේ කටයුතු ද එම ව්‍යාපාර ස්ථානයේ ම ආරම්භ කළ අතර ඒ බව රක්‍ෂණ සමාගමට දැනුම් දී නොතිබුණි. ගෑස් කාන්දුවකින් ව්‍යාපාරයේ ගින්නක් හටගත් අතර ඉන් ඇති වූ අලාභය සඳහා වන්දි ඉල්ලූ විට රක්‍ෂණ සමාගම එය ගෙවීම ප්‍රතික්ෂේප කරන ලදී. වන්දි ගෙවීම ප්‍රතික්ෂේප වීමට බලපෑ රක්‍ෂණ මූලධර්මය කුමක් ද?

- | | |
|------------------|-------------------|
| 1. රක්‍ෂණ හිමිකම | 2. උපරිම විශ්වාසය |
| 3. හානිපූරණය | 4. ආරක්‍ෂණය |

13. ව්‍යාපාරයක් නව සේවාවක් හඳුන්වා දීමේ වෙළෙඳ දැන්වීම අන්තර්ජාලයේ පල කරන ලදී. මෙය,

1. අභ්‍යන්තර විද්‍යුත් සන්නිවේදනයකි
2. අභ්‍යන්තර ලිඛිත සන්නිවේදනයකි
3. බාහිර සංඥා සන්නිවේදනයකි
4. බාහිර විද්‍යුත් සන්නිවේදනයකි

14. මත්තල ගුවන්තොටුපොල ප්‍රවාහන මූලිකාංගයක් වන වන අතර ඊට පැමිණි එම්චේට්ස් යානය ප්‍රවාහන මූලිකාංගයක් වන වේ.

- | | |
|----------------------|--------------------|
| 1. මාධ්‍යය, පර්යන්තය | 2. පර්යන්තය, බලය |
| 3. පර්යන්තය, මාධ්‍යය | 4. මාර්ගය, මාධ්‍යය |

15. පහත දැක්වෙන්නේ වෙළඳාමක් සිදු වූ අවස්ථා කිහිපයකි.

- A - කිරි ගොවියෙකු වූ සුනිමල් නැවුම් කිරි ප්‍රාදේශීය කිරි එකතු කිරීමේ මධ්‍යස්ථානයට විකිණීම.
 B - විභාගස්ථානයකට දානයක් දීම සඳහා සිරිල් මී කිරි හට්ටි 5 ක් මිලදී ගැනීම.
 C - පාසල් ශ්‍රමදානයක් සඳහා බනිස් 100 ක් මිලදී ගැනීම.

ඉහත වෙළඳාම් අතුරින් සිල්ලර වෙළඳාමට අයත් වන්නේ,

- | | |
|-----------|------------------------|
| 1. B හා C | 2. A හා B |
| 3. A හා C | 4. A B හා C යන සියල්ලම |

16. රසකැවිලි නිෂ්පාදන ආයතනයක් ඉදිරි වසරේ දී නිමවූම 20% කින් ඉහළ නැංවීම සඳහා නව ඇඹරුම් යන්ත්‍රයක් මිලදී ගැනීමට තීරණය කරන ලදී. මෙය කළමනාකරණයේ කුමන කාර්යයකට අයත් වේද?

- | | |
|----------------|--------------|
| 1. සංවිධානකරණය | 2. මෙහෙය වීම |
| 3. සැලසුම්කරණය | 4. පාලනය |

17. පහත සඳහන් කර ඇති ප්‍රකාශ අතුරෙන් නොගැලපෙන ප්‍රකාශය තෝරන්න.

1. ගිණුම්කරණයේ දී අදාළ කරගන්නේ මුදලින් මැනිය හැකි ගණුදෙනු පමණි.
2. ව්‍යාපාරයක හිමිකරුවන්, ණයහිමියන්, ගණුදෙනුකරුවන් වැනි පාර්ශව වලට ව්‍යාපාරික තොරතුරු වැදගත් වේ.
3. මූල්‍යමය තොරතුරු සැපයීමට පවතින ගිණුම්කරණය, මූල්‍ය ගිණුම්කරණය වේ.
4. ගිණුම්කරණයේ මූලධර්ම වලට පදනම වන්නේ ආදායම් හා වියදම් වේ.

18. ව්‍යාපාර අයිතිකරුවන්ගේ හිමිකම ලබා ගත හැකි වරණය තෝරන්න.

- | | |
|---------------------|---------------------|
| 1. වත්කම් + වගකීම් | 2. වත්කම් - වගකීම් |
| 3. වත්කම් - හිමිකම් | 4. වත්කම් + හිමිකම් |

19. "විවිධ ආයෝජන ආදායම් ලෙස රු. 85 000 ක් වෙක්පතකින් ලැබීම" ගණුදෙනු ගිණුම්කරණ සමීකරණයට බලපාන ආකාරය නිවැරදිව දැක්වෙන්නේ,

	වත්කම්	=	හිමිකම්	+	වගකීම්	
1.	+ 85 000	=	+ 85 000			-
2.	+ 85 000	=	- 85 000			-
3.	-	=	+ 85 000			- 85 000
4.	+ 85 000	=	-			+ 85 000

20. අමල්ගේ ව්‍යාපාරයේ හිමිකම වෙනස්වීමට බලපාන ගණුදෙනුව වන්නේ,

1. රු. 20 000 ක් වටිනා ලී බඩු මිලදී ගැනීම
2. රු. 8 000 කට කාර්යාල උපකරණ ණයට ගැනීම
3. රු. 2 000 ක් ණයගැතියන්ගෙන් මුදල් ලැබීම
4. අමල් ව්‍යාපාරයෙන් රු. 3 000 ක් පෞද්ගලික ප්‍රයෝජනයට ගැනීම

21. ලෙජරයේ ඇති ගිණුම් වර්ග නිවැරදිව දැක්වෙන පිළිතුර තෝරන්න.
1. වත්කම්, වගකීම්, ගැනිලි, ආදායම්, වියදම්
 2. ආදායම්, වියදම්, වත්කම්, වගකීම්, මුදල්
 3. වත්කම්, වගකීම්, හිමිකම්, ආදායම්, වියදම්
 4. ආදායම්, වියදම්, වත්කම්, විකුණුම්, හිමිකම්
22. ව්‍යාපාරයක ලෙජරයේ දැක්වෙන විකුණුම් ගිණුම①..... ගිණුමක් වන අතර ණයහිමි ගිණුම②..... ගිණුමක් වේ.
ඉහත ප්‍රකාශයේ ① හා ② යන ස්ථානවලට අදාළ නිවැරදි යෙදුම් පිළිවෙලින් දැක්වෙන පිළිතුර තෝරන්න.
1. ආදායම්, වගකීම්
 2. ආදායම්, හිමිකම්
 3. වගකීම්, හිමිකම්
 4. හිමිකම්, වියදම්
23. ව්‍යාපාරයක් රු. 50 000 ක බැංකු ණයක් ලබා ගැනීමට අදාළ නිවැරදි ද්විත්ව සටහන වන්නේ,
1. මුදල් ගිණුම හර රු. 50 000
 2. බැංකු ණය ගිණුම හර රු. 50 000
 3. බැංකු ගිණුම බැර රු. 50 000
 4. මුදල් ගිණුම බැර රු. 50 000
24. ලෙජරය යනුවෙන් අදහස් වන්නේ,
1. අත්පිට ගණුදෙනු පමණක් ඇතුළත් පොතයි
 2. ගිණුම් සියල්ල ඇතුළත් පොතයි
 3. පොදු ජ' නලය හඳුන්වන තවත් නමකි
 4. ණය ගණුදෙනු පමණක් ඇතුළත් කරන පොතයි
25. ජනසෙක ව්‍යාපාරය සිය ණයහිමියකු වූ රංගට වෙක්පතකින් ගෙවීම සටහන් කිරීමට අදාළ වන්නාවූ මූලික පොත වන්නේ,
1. ගැනුම් ජ' නලය වේ
 2. මුදල් ගිණුම වේ
 3. පොදු ජ' නලය වේ
 4. බැංකු ගිණුම වේ
26. ජනිදු ව්‍යාපාරයේ 2020.01.31 දිනට සුළු වියදම් වල එකතුව රු. 9 500 කි. ඉතිරි ශේෂය රු. 500 කි. පෙබරවාරි මස පළමු දින සිට අග්‍රිමය රු. 2 000 කින් වැඩි කිරීමට තීරණය කරන ලදී. ව්‍යාපාරයේ සුළු මුදල් අග්‍රිමය වනුයේ,
1. රු. 10 000 කි
 2. රු. 2 500 කි
 3. රු. 12 000 කි
 4. රු. 11 500 කි
27. “ණයගැතියෙකු වූ තුෂාරගෙන් රු. 800 ක වට්ටම් අඩු කොට රු. 8 500 ක මුදල් ලැබීම” මෙම ගණුදෙනුවට අදාළ නිවැරදි ද්විත්ව සටහන වන්නේ,
1. ණයගැති ගිණුම හර රු. 8 500
 - මුදල් පොත බැර රු. 8 500
 2. ණයගැති ගිණුම හර රු. 9 300
 - ලද වට්ටම් ගිණුම බැර රු. 800
 - මුදල් පොත බැර රු. 8500
 3. මුදල් පොත හර රු. 8500
 - දුන් වට්ටම් ගිණුම හර රු. 800
 - ණයගැති ගිණුම බැර රු. 9 300
 4. මුදල් පොත හර රු. 8500
 - ණයගැති ගිණුම බැර රු. 8 500

28. පොදු ජනලයට අදාළ මූලාශ්‍ර ලේඛනය වන්නේ,
- | | |
|------------------------|--------------------|
| 1. සුළු මුදල් වවුචරයයි | 2. ජ' නල් වවුචරයයි |
| 3. ගෙවීම් වවුචරයයි | 4. ලදුපතයි |
29. පියල් ලංකා බැංකුවේ ජංගම ගිණුමක් හිමි ව්‍යාපාරිකයෙකි. සෑම මාසයක් අවසානයේදී ම පියල්ගේ ගිණුමට බැංකුව විසින් කල හර කිරීම්, බැර කිරීම් සහ ශේෂය දැක්වෙන වාර්තාවක් පියල්ට එවනු ලැබේ. එම වාර්තාව හඳුන්වනු ලබන්නේ,
- | | |
|--------------------------|------------------------------|
| 1. සෘජු ප්‍රේෂණ නමිනි | 2. බැංකු අයිතව නමිනි |
| 3. බැංකු ප්‍රකාශනය නමිනි | 4. සංශෝධිත බැංකු ගිණුම නමිනි |
30. ඉහත වාර්තාව ලැබීමෙන් පසු බැංකු ගිණුමේ සංශෝධිත ශේෂය ලබා ගැනීමට පියල්ට අවශ්‍ය වන අයිතම ඇතුළත් පිළිතුර වන්නේ,
- | |
|--|
| 1. සෘජු ප්‍රේෂණ, නිෂ්කාශනය නොවූ වෙක්, බැංකු ගාස්තු |
| 2. ස්ථාවර නියෝග ගෙවීම්, බැංකු ගාස්තු, සෘජු ප්‍රේෂණ |
| 3. බැංකු ගාස්තු, බැංකු අයිත, සෘජු ප්‍රේෂණ |
| 4. ස්ථාවර නියෝග ගෙවීම්, සෘජු ප්‍රේෂණ, බැංකුවට ඉදිරිපත් නොවූ වෙක් |
31. රෙදිපිළි වෙලදසැලකට ගිය සහන්ට රු. 2 500 ක් ලෙස ලකුණු කරන ලද කම්සයක් මිලදී ගැනීමේ දී 10% ක වට්ටමක් ලැබුණි. මෙහි දී අඩු කරනු ලැබූ වට්ටමේ වටිනාකම හා වට්ටම් වර්ගය පිළිවෙලින් දැක්වෙන පිළිතුර වන්නේ,
- | | |
|---------------------------|---------------------------|
| 1. රු. 250, මුදල් වට්ටම් | 2. රු. 2250, මුදල් වට්ටම් |
| 3. රු. 2250, වෙළෙඳ වට්ටම් | 4. රු. 250 , වෙළෙඳ වට්ටම් |
32. ණයගැති බුද්ධිගෙන් මුදල් ලබා ගැනීමේ දී රු. 2500 ක අඩු කිරීමක් කරන ලදී. මෙය ගිණුම්ගත කිරීමට අදාළ නිවැරදි ලෙජර ගිණුම් සටහන වන්නේ,
- | | |
|--|--|
| 1. බුද්ධි ගිණුම හර රු. 2500
දුන්වට්ටම් ගිණුම බැර රු. 2500 | 2. දුන්වට්ටම් ගිණුම හර රු. 2500
බුද්ධි ගිණුම බැර රු. 2500 |
| 3. බුද්ධි ගිණුම හර රු. 2500
ලද වට්ටම් ගිණුම බැර රු. 2500 | 4. ලද වට්ටම් ගිණුම හර රු. 2500
බුද්ධි ගිණුම බැර රු. 2500 |
33. සමන් ව්‍යාපාරයේ ණයහිමියකු වූ දසුන්ට නිකුත් කළ රු. 87 000 ක වෙක්පත අගරු වී ඇත. මෙම අගරු වීමට අදාළ ව ගිණුම් ලිපිකරු විසින් ද්විත්ව සටහන් තබා ඇත. නිවැරදි ද්විත්ව සටහන වනුයේ,
- | | |
|---|---|
| 1. බැංකු ගිණුම හර රු. 87 000
මුදල් පොත බැර රු. 87 000 | 2. බැංකු ගිණුම හර රු. 87 000
ණයහිමි ගිණුම බැර රු. 87 000 |
| 3. ණයහිමි ගිණුම හර රු. 87 000
බැංකු ගිණුම බැර රු. 87 000 | 4. මුදල් ගිණුම හර රු. 87 000
ණයහිමි ගිණුම බැර රු. 87 000 |
34. 2019.03.31 දිනට ව්‍යාපාරයේ බැංකු ගිණුමේ හර ශේෂය රු. 28 500 වූ අතර එදිනට බැංකුවෙන් ලද බැංකුවෙන් ලද බැංකු ප්‍රකාශනයට අනුව ශේෂය රු. 25 000 ක් විය. මෙම වෙනසට හේතු වූ ගණුදෙනුව වනුයේ,
- | |
|--|
| 1. බැංකුවට සෘජුවම ලැබී ඇති ලාභාංශ රු. 3 500 ක් වේ |
| 2. නිකුත් කල නමුත් ගෙවීමට ඉදිරිපත් නොවූ වෙක් රු. 3 500 ක් වේ |
| 3. බැංකුවට සෘජුවම ලැබී ඇති ණයගැති ප්‍රේෂණ රු. 3 500 ක් වේ |
| 4. ස්ථාවර නියෝග මත බැංකුව විසින් ගෙවන ලද ණය වාරිකය රු. 3 500 ක් වේ |

35. කසුන්ගේ ව්‍යාපාරයේ 2020 ජනවාරි මාසය සඳහා පිළියෙළ කළ විකුණුම් ජ'නලය පහත සඳහන් වේ.

විකුණුම් ජ'නලය				
දිනය	ඉන්වොයිසි අංකය	ගැනුම්කරු	වටිනාකම රු.	ලෙ.පි
01/15	22	නිමාලි	40000	
.....①.....	②.....	40 000	

ඉහත විකුණුම් ජ'නලයේ ① හා ② යන ස්ථාන වලට අදාළ නිවැරදි යෙදුම් පිළවෙලින් දැක්වෙන පිළිතුර තෝරන්න.

- | | |
|------------------------------------|----------------------------------|
| 1. 01/15 , විකුණුම් ගිණුමට බැර කළා | 2. 01/15, නිමල්ගේ ගිණුමට බැර කළා |
| 3. 01/31, විකුණුම් ගිණුමට බැර කළා | 4. 01/31, නිමල්ගේ ගිණුමට හර කළා |

පහත සඳහන් තොරතුරු ඇසුරෙන් ප්‍රශ්න අංක 36 හා 37 ට පිළිතුරු සපයන්න.
 යතුරුපැදි අලවිකරණ ව්‍යාපාරයක් වන ශාලිකා ට්‍රේඩර්ස් හි සිදු වූ ගනුදෙනු කිහිපයක් පහත දැක්වේ.

- A) රු. 500 000 කට යතුරු පැදියක් අත්පිට මුදලට විකිණීම
- B) අයිතිකරු පාවිච්චි කළ රු. 300 000 ක් වටිනා යතුරු පැදිය නිමල්ට ණයට විකිණීම
- C) රු. 400 000 ක් වටිනා යතුරු පැදිය සඳුන්ට ණයට විකිණීම
- D) අයිතිකරුගේ පාවිච්චිය සඳහා රු. 500 000 ක් වටිනා යතුරු පැදියක් දිවුරුම් ගෙන් ණයට ගැනීම.

36. ශාලිකා ට්‍රේඩර්ස්හි ව්‍යාපාරයේ විකුණුම් ජ'නලයේ සටහන් කරන ගනුදෙනුව වන්නේ,

- | | | | |
|------|------|------|------|
| 1. A | 2. B | 3. C | 4. D |
|------|------|------|------|

37. ඉහත ගනුදෙනු අතුරෙන් D ගනුදෙනුව සටහන් කරන මූලික සටහන් පොත සහ මූලාශ්‍ර ලේඛනය පිළිවෙලින් ඇතුළත් පිළිතුර තෝරන්න.

- | | |
|-------------------------------|---------------------------------|
| 1. ගැනුම් ජ'නලය සහ ඉන්වොයිසිය | 2. ගැනුම් ජ'නලය සහ ජ'නල් වවුචරය |
| 3. මුදල් පොත සහ ගෙවීම් වවුචරය | 4. පොදු ජ'නලය සහ ජ'නල් වවුචරය |

38. ශේෂ පිරික්සුමක හර තීරුවේ ශේෂ පමණක් ඇති ගිණුම් ඇතුළත් පිළිතුර තෝරන්න.

- 1. ලී බඩු ගිණුම, විදුලි ගාස්තු ගිණුම, මුදල් ගිණුම, ණයගැති ගිණුම
- 2. ලී බඩු ගිණුම, ප්‍රාග්ධන ගිණුම, මුදල් ගිණුම, විදුලි ගාස්තු ගිණුම
- 3. මුදල් ගිණුම, ණයහිමි ගිණුම, විකුණුම් ගිණුම, රක්ෂණ ගාස්තු ගිණුම
- 4. ප්‍රාග්ධන ගිණුම, විකුණුම් ගිණුම, ලද වට්ටම් ගිණුම, ණයහිමි ගිණුම

39. ව්‍යාපාරයක් 2019/12/31 දින පිළියෙළ කළ ශේෂ පිරික්සුමේ හර තීරුවේ එකතුව රු. 900 000 ක් වූ අතර බැර තීරුවේ එකතුව රු. 910 000 කි. මෙම වෙනසට හේතු වූ ගිණුම්කරණයේ දී සිදු වූ වරද වන්නේ,

- 1. විදුලි ගාස්තු ගිණුමේ එකතුව රු. 10 000 කින් වැඩි වීමයි
- 2. ගැනුම් ගිණුමේ එකතුව රු. 10 000 කින් වැඩි වීමයි
- 3. විකුණුම් ගිණුමේ එකතුව රු. 10 000 කින් වැඩි වීමයි
- 4. ලද වට්ටම් ගිණුමේ එකතුව රු. 10 000 කින් අඩු වීමයි

40. ව්‍යාපාරය විසින් රක්ෂණ ගාස්තු ලෙස රු. 8 000 ක් ගෙවා ඇති අතර එය රක්ෂණ ගාස්තු ගිණුමේ රු. 8 800 ක් ලෙස සටහන් කර තිබුණි. එම වරද නිවැරදි කිරීමට අදාළ ද්විතීව සටහන වනුයේ,

- | | |
|--|--|
| 1. රක්ෂණ ගාස්තු ගිණුම - හර 800
අවිනිශ්චිත ගිණුම - බැර 800 | 2. අවිනිශ්චිත ගිණුම - හර 800
රක්ෂණ ගාස්තු ගිණුම - බැර 800 |
| 3. රක්ෂණ ගාස්තු ගිණුම - හර 8000
මුදල් ගිණුම - බැර 8000 | 4. රක්ෂණ ගාස්තු ගිණුම - හර 8000
අවිනිශ්චිත ගිණුම - බැර 8000 |

දකුණු පළාත් අධ්‍යාපන දෙපාර්තමේන්තුව

පළමු වාර්ෂික පරීක්ෂණය - 2020

11 - ශ්‍රේණිය

ව්‍යාපාර හා ගිණුම්කරණ අධ්‍යයනය - II

නම/විභාග අංකය :

උපදෙස් :

- පළමුවන ප්‍රශ්නය අතුළුව I කොටසින් ප්‍රශ්න දෙකක් ද, II කොටසින් ප්‍රශ්න දෙකක් ද බැගින් තෝරාගෙන ප්‍රශ්න පහකට පමණක් පිළිතුරු සපයන්න.

01. පහත සඳහන් සිද්ධිය ඇසුරෙන් අංක (i) සිට (x) දක්වා ප්‍රශ්නවලට පිළිතුරු සපයන්න.

විදේශ රටක රියදුරෙකු ලෙස සේවය කොට උපයාගත් මුදලින් තමාගේම ව්‍යාපාරයක් ආරම්භ කිරීමට සිහින දැකමින් සිටි සුරේෂ් ලංකාවට පැමිණ පාසල් සිසුන් ප්‍රවාහනය සඳහා බස් රථයක් යොදවා 2018.01.01 දින "සිහින ට්‍රාවල්ස්" ව්‍යාපාරය ආරම්භ කරන ලදී. නගරය අවට පාසල් විශාල සංඛ්‍යාවක් පැවතීම නිසා ඉතා පහසුවෙන් පාරිභෝගිකයින් සොයා ගැනීමට සුරේෂ්ට හැකි විය. එසේම මෙම රථය තුළ පාසල් දරුවන්ට විනෝදජනක කෙටි ක්‍රීඩාවල යෙදිය හැකි කුඩා උපකරණ සවිකර තිබීමත්, ආසන සංඛ්‍යාවට පමණක් සිසුන් ලබාගැනීමත්, කාරුණික සේවාවන් නිසා දැඩි ඉල්ලුමක් සිහින ට්‍රාවල්ස් වෙත ලැබුණි.

සුරේෂ් විසින් ආනයනය කළ රු. 5 000 000 ක් වටිනා බස් රථය හා ඉතිරි කරගත් රු. 2 000 000 ක මුදල 2018.01.01 ව්‍යාපාරය සඳහා යොදවන ලදී.

2018 ජනවාරි මාසය තුළ සිදු වූ ගනුදෙනු පහත දැක්වේ.

● බස් රථ ආදායම්	රු. 150 000
● රියදුරු වැටුප්	රු. 30 000
● රියදුරු සහායක වැටුප්	රු. 15 000
● විනෝදජනක ක්‍රීඩා උපකරණ සඳහා	රු. 90 000
● ඉන්ධන සඳහා	රු. 15 000

- i. අ) සහන ට්‍රාවල්ස් ආයතනය සපයන මිනිස් අවශ්‍යතාවය කුමක් ද?
 ආ) මෙම ව්‍යාපාරය කුමන ව්‍යාපාර සංවිධාන වර්ගයට අයත් ද?
- ii. මෙම ව්‍යාපාරයේ දැකිය හැකි ශක්තීන් ලියන්න.
- iii. මෙම ව්‍යාපාරයේ දැකිය හැකි ව්‍යාපාර අවස්ථාවක් ලියන්න.
- iv. මෙම ව්‍යාපාරයේ නාමය ලියාපදිංචි කිරීම සම්බන්ධව ඔබේ අදහස කුමක් ද?
- v. සිද්ධියේ සඳහන් ඇල්මැති පාර්ශව දෙකක් ලියන්න.
- vi. 2018.01.01 දිනට ගිණුම්කරණ සමීකරණය අගයන් සහිතව දක්වන්න.
- vii. සිද්ධියේ සඳහන් වන ගනුදෙනුවලට අදාළ මූලික පොත කුමක් ද?
- viii. 2018.01.01 දිනට මුදල් ශේෂය කොපමණ ද?

- ix. මෙම ව්‍යාපාරයේ දැකිය හැකි ජංගම නොවන වත්කම් අගයන් සහිතව දක්වන්න.
- x. රු. 30 000 ක රියදුරු වැටුප් ගෙවීමට අදාළ ද්විත්ව සටහන ලියන්න.

(ලකුණු 2s10=20)

I කොටස - ව්‍යාපාර අධ්‍යයනය

- 02. i. අවශ්‍යතා හා වුවමනා යන පදවල අර්ථය වෙන වෙනම පැහැදිලි කරන්න. (ලකුණු 02)
- ii. ව්‍යාපාර අභ්‍යන්තර පරිසරයේ දැකිය හැකි ශක්තීන් හා දුර්වලතා සඳහා නිදසුන් දෙක බැගින් සඳහන් කරන්න. (ලකුණු 02)

iii. පහත සඳහන් ප්‍රකාශ සත්‍ය ද අසත්‍ය ද යන්න දක්වන්න.

- අ) ඇල්මැනි පාර්ශවයක් ලෙස ගනුදෙනුකරුවන්ගේ අරමුණ වන්නේ නිෂ්පාදන සාධාරණ මිලට ලබා ගැනීම හා ගුණාත්මක නිෂ්පාදන ලබා ගැනීම වේ.
 - ආ) ව්‍යාපාරයක අභ්‍යන්තර පරිසරයට අයත් වන්නේ අයිතිකරුවන්, සැපයුම්කරුවන් හා කළමනාකරුවන්ය
 - ඇ) නිෂ්පාදනයේ දී ආධාර කර ගන්නා මිනිසා විසින් සකස් කරන ලද දෑ ප්‍රාග්ධනය ලෙස දැක්විය හැකිය.
 - ඈ) යම් රටක මුදල් ඒකකයක් තවත් රටක මුදල් ඒකක සමඟ හුවමාරුවන අනුපාතිකය පොළී අනුපාතිකය වේ.
- (ලකුණු 02)

- iv. අ) බාහිර පරිසරය අධ්‍යයනය කිරීමේ දී ව්‍යාපාර ආයතනයකට ඇති තර්ජන දෙකක් දක්වන්න.
 - ආ) ව්‍යාපාර කටයුතු පිළිබඳ උනන්දුවක් දක්වන පාර්ශවයන් දෙකක් සඳහන් කරන්න.
- (ලකුණු 02)
(මුළු ලකුණු 08)

- 03. i. අ) වෙළෙඳාම යනු කුමක් ද?
- ආ) තොග වෙළෙඳාමේ ලක්ෂණ දෙකක් ලියන්න. (ලකුණු 02)

ii. පහත සඳහන් ප්‍රකාශ සත්‍ය ද අසත්‍ය ද යන්න දක්වන්න.

- අ) ලාභ ලැබීමේ අරමුණින් ව්‍යාපාරන් පොදුවේ පවත්වාගෙන යන පුද්ගලයන් අතර පවත්නා සම්බන්ධතාව සංස්ථාපිත සමාගමක් ලෙස හැඳින්වේ.
 - ආ) වගකීම අසීමිත, අඛණ්ඩ පැවැත්මක් හා නෛතික පුද්ගලභාවයක් නොමැති පහසුවෙන් ඇරඹිය හැකි එකම ව්‍යාපාර සංවිධානය වන්නේ ඒක පුද්ගල ව්‍යාපාරයි.
 - ඉ) ශ්‍රී ලංකා වරාය අධිකාරිය රාජ්‍ය සංස්ථාවකට නිදසුනකි.
 - ඊ) වමන් පෙරේරා 'සිරිසඳ' නමින් තම ව්‍යාපාරය පවත්වා ගෙන යයි. මෙය ලියාපදිංචි කළ යුතුය.
- (ලකුණු 02)

iii. පහත දැක්වෙන්නේ ව්‍යාපාර නාම කිහිපයකි.

- A වෙනුර සහ අනුර සමාගම
 - B ලක්නද ස්ටෝර්ස්
 - C සී.ස අරලිය සමාගම
 - D ශ්‍රී ලංකා ගමනාගමන මණ්ඩලය
- ඉහත එක් එක් ව්‍යාපාරය අයත්වන ව්‍යාපාර සංවිධාන වර්ග නම් කරන්න. (ලකුණු 02)

- iv. හවුල් ව්‍යාපාරයක දක්නට ලැබෙන වාසි දෙකක් හා අවාසි දෙකක් සඳහන් කරන්න. (ලකුණු 02)

04. i. බැංකු අයිතියක් යනු කුමක් ද? (ලකුණු 02)
- ii. අ) වාණිජ බැංකුවක පවත්වාගෙන යන ගිණුම් වර්ග දෙකක් නම් කරන්න.
 ආ) වෙස් පතක් සම්බන්ධයෙන් සාමාන්‍ය රේඛනය හා විශේෂ රේඛනය අතර වෙනස දක්වන්න. (ලකුණු 02)
- iii. පහත සඳහන් ප්‍රකාශ සත්‍ය ද අසත්‍ය ද යන්න දක්වන්න.
- අ) දේපළ රක්ෂණ ඔප්පුව පැවරිය හැකිය.
- ආ) ජීවිත රක්ෂණය සඳහා හානිපූර්ණ මූලධර්ම බලපායි.
- ඉ) ආයතනය තුළ විවිධ මාධ්‍ය භාවිතා කරමින් පණිවුඩ තොරතුරු හා අදහස් හුවමාරු කර ගැනීම අභ්‍යන්තර සන්නිවේදනය වේ
- ඊ) වෙස්පත අණකරු සෑම විටම වාණිජ බැංකුවකි. (ලකුණු 02)
- iv. සුනිමල් හම්බන්තොට ප්‍රදේශයේ පැණි කොමඩු නොග වශයෙන් ගෙන බෙලිඅත්ත සිට දුම්රියක් මගින් ඒවා කොළඹට ප්‍රවාහනය කර තම ලොරි රථය මගින් කොළඹ පිහිටි පලතුරු කඩවලට බෙදාහරියි.
- අ) මෙහි සඳහන් වන ප්‍රවාහන මාර්ගයන් සහ ඊට අදාළ මාධ්‍ය සඳහන් කරන්න.
- ආ) සුනිමල් ඔහුගේ ලොරි රථ මගින් බෙලිඅත්තේ සිට කොළඹට පැණි කොමඩු ප්‍රවාහනය නොකර දුම්රිය මගින් ප්‍රවාහනය කිරීමෙන් ඔහුට අත්වන වාසියක් සහ අවාසියක් ලියන්න. (ලකුණු 02)
- (මුළු ලකුණු 08)

II කොටස - ගිණුම්කරණය

05. i. අ) ව්‍යාපාරයක වගකීම යනු කුමක් ද?
 ආ) ව්‍යාපාර අයිතිකරුගේ හිමිකම වෙනස් වීමට බලපාන කරුණු දෙකක් සඳහන් කරන්න. (ලකුණු 02)
- ii. අ) ගිණුම්කරණ තොරතුරු ප්‍රයෝජනවත් වන පාර්ශවයන් දෙකක් සඳහන් කරන්න.
 ආ) මූලාශ්‍ර ලේඛනවල අඩංගු කරුණු දෙකක් ලියන්න. (ලකුණු 02)
- iii. අ) පහත දැක්වෙන ගණුදෙනු මූලික ගිණුම් සමීකරණයට බලපාන ආකාරය දී ඇති ආකෘතිය ඇසුරෙන් දක්වන්න. (පළමු ගණුදෙනුව ඔබ වෙනුවෙන් සපයා ඇත.)
1. 2019.01.12 රු. 150 000 යොදා ව්‍යාපාරය ඇරඹීම
 2. 2019.01.15 රු. 120 000 ගෘහ උපකරණ මිලදී ගැනීම
 3. 2019.01.22 රු. 100 000 භාණ්ඩ තොගයක් ණයට ගැනීම
 4. 2019.01.26 රු. 250 000 බැංකු ණයක් ලබා ගැනීම
 5. 2019.01.30 රු. 25 000 භාණ්ඩ තොගයක් රු. 29 000 කට අත්පිට මුදලට විකිණීම
- (ලකුණු 02)

	දිනය	වත්කම් (රු.)			=	හිමිකම් (රු.)		+	වගකීම්
		ගෘහ උපකරණ	භාණ්ඩ තොග	මුදල්	හිමිකම්	ණයහිමියෝ	බැංකු ණය		
1	19.01.12	-	-	+ 150 000	+ 150 000	-	-	-	
2									
3									
4									
5									

- ආ) පහත සඳහන් මූලික සටහන් පොත්වල ගණුදෙනු සටහන් කිරීමේ දී යොදා ගන්නා මූලාශ්‍ර ලේඛන දක්වන්න.
- බැංකු ගිණුම
 - මුදල් පොත
- (ලකුණු 02)

iv. පහත සඳහන් ගනුදෙනු බැංකු ගිණුමක ඇතුළත් කරන්න.

2020/01/01	ශේෂය රු. 30 000	
2020/01/05	අත්පිට ගැනුම් සඳහා වෙක්පතක් නිකුත් කළා රු. 10 000	
2020/01/06	අත්පිට විකුණුම් රු. 8 000	
2020/01/07	බැංකුවේ මුදල් තැන්පත් කළා රු. 5 000	
2020/01/08	රක්ෂණ ගාස්තු වෙක්පතකින් ගෙව්වා රු. 4 000	
2020/01/20	ණයගිමියෙකු වූ විරාජ්ට රු. 3 000 ක් වෙක්පතකින් ගෙව්වා	(ලකුණු 04)

06. i. අ) මූලික පොත් යනු කුමක්දැයි හඳුන්වන්න. (ලකුණු 02)
 ආ) මූලික පොත් සඳහා නිදසුන් දෙකක් සපයන්න.

ii. බැංකු ප්‍රකාශනයක හර තීරුවේ ඇතුළත් වන අයිතම දෙකක් සඳහන් කරන්න. (ලකුණු 02)

iii. දිල්ෂාන් ව්‍යාපාරයේ බැංකු ගිණුමේ 2020/01431 දිනට ශේෂය රු. 25 000 ක් විය. බැංකු ප්‍රකාශනයේ ශේෂය එයට වෙනස් විය. එයට හේතු පහත දැක්වේ.

- * බැංකු ගිණුමේ සටහන් නොවූ සෘජු ජේෂණ රු. 4 000
- * ස්ථාවර නියෝග අනුව ගෙවීම් රු. 1 000
- * තැන්පත් කළ නමුත් නිෂ්කාශනය නොවූ වෙක්පත් රු. 2 500
- * නිකුත් කළ නමුත් ගෙවීමට ඉදිරිපත් නොවූ වෙක්පත්වල වටිනාකම රු. 3 000

අවශ්‍ය වන්නේ,

- අ) 2020/03/31 දිනට බැංකු ගිණුම සංශෝධනය කිරීම
- ආ) 2020/03/31 දිනට බැංකු සැසඳුම් ප්‍රකාශය

07. i. පහත දැක්වෙන්නේ ගනුදෙනු ගැනුම් ජ'නලයේ සටහන් වී ඇති ආකාරයි.

ගැනුම් ජ'නලය

දිනය	ඉ.අ	විස්තරය	ලෙ.පි	වටිනාකම රු.
01/05		නිමාලි		4 000
01/15		කමනි		2 000
01/31		ගැනුම් ගිණුමට හර කලා		6 000

මෙය ලෙජර් ගිණුම් වලට ඇතුළත් කර දක්වන්න. (ලකුණු 04)

ii. අ) ශේෂ පිරික්සුමේ සමානත්වයට බල නොපාන වැරදි වර්ග 02 ක් දක්වන්න.

ආ) පහත දැක්වෙන වැරද්ද නිවැරදි කිරීමට අදාළ ජ'නල් සටහන දක්වන්න. (ලකුණු 04)

- රු. 20 000 ක ගැනුම් ඉන්වොයිසියක් සටහන් කිරීම ගිණුම්පොත් වලින් මගහැරී තිබීම. (ලකුණු 02)

iii. 2019.12.31 දිනට කිත්සිරි ගේ ව්‍යාපාරයේ ලෙජර ගිණුම් තුළනය කර ලබාගත් ශේෂ පහත දැක්වේ.

මුදල්	30 000
ගැනුම්	150 000
විකුණුම්	225 000
2019.01.01 තොගය	40 000
ණයගැතියෝ	35 000
ණයහිමියෝ	39 000
විදුලි ගාස්තු	2 000
ලී බඩු උපකරණ	35 000
ලද වට්ටම්	6 000
දුන් වට්ටම්	3 000
මෝටර් රථ	400 000
බැංකු ණය	100 000
විවිධ ආදායම්	85 000
ප්‍රාග්ධනය	240 000

ඉහත ශේෂ ඇසුරින් 2019.12.31 දිනට ශේෂ පිරික්සුම පිළියෙල කරන්න. (ලකුණු 04)

දකුණු පළාත් අධ්‍යාපන දෙපාර්තමේන්තුව

පළමු වාර පරීක්ෂණය - 2020

ව්‍යාපාර හා ගිණුම්කරණ අධ්‍යයනය 11 ශ්‍රේණිය - පිළිතුරු

ප්‍රශ්න අංකය	පිළිතුරු අංකය	ප්‍රශ්න අංකය	පිළිතුරු අංකය	ප්‍රශ්න අංකය	පිළිතුරු අංකය	ප්‍රශ්න අංකය	පිළිතුරු අංකය
01	3	11	2	21	3	31	4
02	1	12	2	22	1	32	2
03	2	13	4	23	3	33	2
04	2	14	3	24	2	34	4
05	3	15	1	25	4	35	3
06	3	16	3	26	3	36	3
07	3	17	4	27	3	37	4
08	2	18	2	28	2	38	1
09	4	19	1	29	3	39	3
10	2	20	4	30	2	40	2

(ලකුණු 1෦40=40)

I - පත්‍රය

01. i. අ) ප්‍රවාහනය

 ආ) ඒක පුද්ගල ව්‍යාපාර (ලකුණු 1෦2=02)

ii. ශක්තින් - මූල්‍ය ශක්තිය

 පලපුරුද්ද
 සුවිශේෂී සේවය (ලකුණු 02)

iii. අවස්ථා - නගරය අවට පාසල් බහුල වීම (ලකුණු 02)

iv. ලියාපදිංචිය අනිවාර්ය වේ.

 හේතුව - තමාගේ සම්පූර්ණ නමින් හැර වෙනත් නමකින් ව්‍යාපාරය පවත්වාගෙන යන නිසා (ලකුණු 02)

v. අයිතිකරු/ සුරේෂ්

 සිසුන්/ පාරිභෝගිකයින්

 සේවකයින්

 ප්‍රජාව (ලකුණු 1෦2=02)

vi. වත්කම් = හිමිකම් + වගකීම්

 මුදල් 2 000 000 = ප්‍රාග් 2 000 000 + -

 බැරපරපය 5 000 000 = ප්‍රාග් 5 000 000 + -

7 000 000 = 7 000 000 - (ලකුණු 1෦2=02)

vii. මුදල් පොත (ලකුණු 02)

viii. මුදල් ශේෂය 2 000 000/=

(ලකුණු 02)

නැතහොත්,

මුදල් පොත

ප්‍රාග්ධන ගිණුම ආදායම් (ලකුණු 01)	2 000 000	රියදුරු වැටුප	30 000	(ලකුණු 01)
	150 000	සහායක වැටුප්	15 000	
		ක්‍රීඩා උපකරණ	90 000	
		ඉන්ධන	15 000	
		ප/ගේ/ශේෂය	2 000 000	
	21 500 000		21 500 000	(ලකුණු 02)

i. බස් රථය රු. 5 000 000
ක්‍රීඩා උපකරණ රු. 90 000

ආ. රියදුරු වැටුප් ගිණුම හර මුදල් ගිණුම බැර රු. 30 0000
රු. 30 000

(ලකුණු 02)
(ලකුණු 2:10=20)

02. i. අවශ්‍යතා - මිනිසා විසින් අනිවාර්යෙන්ම සපුරාගත යුතු දෑ (ලකුණු 01)

වුවමනා - අවශ්‍යතා සපුරා ගැනීමට යොදා ගන්නා විවිධ ආකාර හෝ ස්වරූප වේ. (ලකුණු 01)

ii.

ශක්තීන්	දුර්වලතා
01. ප්‍රමාණවත් ප්‍රාග්ධනයක් තිබීම	01. පුහුණු සේවකයන්ගේ හිගය
02. කළමනාකරුවන්ගේ අත්දැකීම්	02. තාක්ෂණික දැනුම යාවත්කාලීන නොවීම
03. සේවකයින්ගේ විශේෂිත දැනුම හා කැපවීම	03. සේවක අයහපත් ආකල්ප
04. සුවිශේෂී නිෂ්පාදන ක්‍රම	04. අයිතිකරුවන්ගේ මූල්‍ය ශක්තිය ප්‍රමාණවත් නොවීම
05. පිළිගත් සන්නම් නාමයක් තිබීම	05. ව්‍යාපාරයේ භූගෝලීය පිහිටීම නුසුදුසු වීම

(ලකුණු 1/2 : 2= ලකුණු 01)

(ලකුණු 1/2 : 2= ලකුණු 01)

iii. අ) සත්‍ය
ආ) අසත්‍ය
ඇ) සත්‍ය
ඈ) අසත්‍ය

(1/2 : 4=ලකුණු 02)

iv. අ) 1. ජාත්‍යන්තර වෙළෙඳ සම්බාධක පැනවීම
2. ස්වාභාවික ආපදා
3. තරඟකරුවන් බිහිවීම
4. තව තාක්ෂණික ක්‍රම සඳහා අනුගත වීම දුෂ්කර වීම

(කරුණු 02 ක් සඳහා ලකුණු 02)

ආ) අයිතිකරුවන් සේවකයෝ
කළමනාකරුවන් රජය
ගණුදෙනුකරුවන් ප්‍රජාව
සැපයුම්කරුවන්
තරඟකරුවන්

(පිළිගත හැකි ඕනෑම කරුණක්)

(1/2 : 2= ලකුණු 01)

(මුළු ලකුණු 08)

03. i. අ) භාණ්ඩ හා සේවා මිලට ගැනීම හා විකිණීම වෙළෙඳාම වේ. (ලකුණු 01)

ආ) නැවත විකිණීම සඳහා මිලදී ගැනීම
 විශාල ප්‍රමාණයෙන් ණයට ගැනීම හා විකිණීම
 සාපේක්ෂ ඒකක මිල අඩු වීම
 තෝරාගත් භාණ්ඩ ප්‍රමාණය සැපයීම
 බහුලව වෙළෙඳ වට්ටම් ලබා දීම (1/2 : 2= ලකුණු 01)

ii. අ) අසත්‍යයි
 ආ) අසත්‍යයි
 ඉ) සත්‍යයි
 ඊ) සත්‍යයි (1/2 : 4=ලකුණු 02)

iii. A හවුල් ව්‍යාපාර
 B ඒක පුද්ගල ව්‍යාපාර/ හවුල් ව්‍යාපාර
 C සංස්ථාපිත සමාගම්
 D රාජ්‍ය සංස්ථා (1/2 : 4=ලකුණු 02)

iv.

වාසි	අවාසි
පහසුවෙන් ආරම්භ කළ හැකි වීම වැඩි ප්‍රාග්ධනයක් රැස්කර ගත හැකි වීම හවුල්කරුවන්ගේ දක්ෂතා ප්‍රයෝජනයට ගත හැකි වීම වගකීම් බෙදී යාම සාමූහික තීරණ ගත හැකි වීම	අසීමිත වීම ලාභය බෙදී යාම අඛණ්ඩ පැවැත්මක් නැති වීම මතභේද ඇති වීම තෛතික පුද්ගලභාවයක් නොමැතිවීම

(1/2 : 2=ලකුණු 01)

(1/2 : 2=ලකුණු 01)

(මුළු ලකුණු 08)

04. i. බැංකු අයිරාවක් යනු ගිණුමේ පවතින ශේෂය ඉක්මවා වෙක්පත් නිකුත් කළ විට බැංකුව එම වෙක්පත් වලට ගෙවීම නිසා ගිණුම්හිමියා බැංකුවට ණයගැති වන අගය වේ. (ලකුණු 02)

ii. අ) ස්ථාවර තැන්පතු
 ජංගම ගිණුම්
 ඉතිරි කිරීමේ ගිණුම් (දෙකක් නම් කිරීමට ලකුණු 01)

ආ) සාමාන්‍ය රේඛණය යනු වෙක්පතක මුහුණත හරහා සරල සමාන්තර රේඛා දෙකක් ඇඳීමයි. විශේෂ රේඛනය යනු වෙක්පත මුහුණත හරහා සමාන්තර රේඛා දෙකක් ඇතිව හෝ නැතිව වාණිජ බැංකුවක නමක් යෙදීම වේ. (ලකුණු 01)

iii. අ) සත්‍ය
 ආ) අසත්‍ය
 ඉ) සත්‍ය
 ඊ) අසත්‍ය (ලකුණු 02)

iv. අ) මහාමාර්ගය - ලොරි රථ

දුම්රිය මාර්ග - දුම්රිය

(ලකුණු 01)

ආ)

වාසි -
පිරිවැය අවම වීම
භාණ්ඩ වැඩි ප්‍රමාණයක් ප්‍රවාහනය
කළ හැකි වීම

අවාසි-
ගමනාන්තය දක්වා යොදා ගත නොහැකි වීම
ඕනෑම වේලාවක දුම්රිය සේවාව ලබා ගත
නොහැකි වීම

(2x4 = ලකුණු 02)

(මුළු ලකුණු 08)

05. i. අ) අතීත ගනුදෙනුවක හෝ සිදු වීමක ප්‍රතිඵලයක් ලෙස ඇති වන ව්‍යාපාර විසින් ගෙවිය යුතු අගය වගකීම් ලෙස හඳුන්වයි. (ලකුණු 01)

ආ) අමතර ප්‍රාග්ධනය යෙදීම/ අතිරේක ප්‍රාග්ධනය යෙදීම

ගැනිලි

වියදම් දැරීම

ආදායම් ලැබීම

අලාභය හෝ ලාභය (1/2x2= ලකුණු 01)

ii. අ) • ව්‍යාපාර හිමිකරුවන් • රජය • කළමනාකරුවන්
• ණයහිමියන් • ගනුදෙනුකරුවන් (1/2x2= ලකුණු 01)

ආ) • ව්‍යාපාරයේ නාමය • ගනුදෙනුවේ මූල්‍ය වටිනාකම
• අනුක්‍රමික අගය • ගනුදෙනුවට සම්බන්ධ අනෙකුත් පාර්ශවය
• ගනුදෙනුවට සම්බන්ධ විස්තරය
• ගනුදෙනුව සම්බන්ධ වගකීම භාරගන්නා නිලධාරියාගේ අත්සන (1/2x2= ලකුණු 01)

01)

iii. අ)

	දිනය	වත්කම් (රු.)			= හිමිකම් (රු.)		+ වගකීම්	
		ගෘහ උපකරණ	භාණ්ඩ තොග	මුදල්	හිමිකම්	ණයහිමියෝ	බැංකු ණය	
1	19.01.12	-	-	+ 150 000	+ 150 000	-	-	
2	01.15	+120 000	-	- 120 000	-	-	-	
3	01.22	-	+ 100 000	-	-	+ 100 000	-	
4	01.26	-	-	+ 250 000	-	-	(ලකුණු 02) 250 000	
5	01.30	-	- 25 000	- 29 000	+ 4 000	-	-	

(1/2)

(1/2)

(1/2)

(1/2)

ආ)

- බැංකු ගිණුම - පිලිපත/ ගෙවීම් වවුචරය, බැංකු ප්‍රකාශය, තැන්පත් කිරීමේ කුවිතාන්සිය,
- අගරු වෙක් නිවේදනය
- මුදල් පොත - ලදුපත, ගෙවීම් වවුචරය

(ලකුණු 02)

iv. බැංකු ගිණුම

දිනය	විස්තරය	ස.පි	වටිනාකම (රු.)	දිනය	විස්තරය	ස.පි	වටිනාකම (රු.)
20/01/01	ශේෂය		30 000	20/01/05	ගැනුම්		10 000
20/01/07	මුදල්		(1/2) 5 000	20/01/08	රැකුණ ගාස්තු		(1/2) 4 000
			(1/2)	20/01/20	විරාජී		(1/2) 3 000
				20/01/31	ශේෂය ප/ගේ		(1/2) 18 000
20/02/01	ශේෂය ඉ/ගේ		35 000				(1/2) 35 000
			18 000				

(ආකෘතියට 1/2)

(ලකුණු 04)

(මුළු ලකුණු 12)

06. i. අ) මූලික පොත් යනු මූලාශ්‍ර ලේඛන උපයෝගී කරගෙන ගනුදෙනුවක් ප්‍රථමයෙන් සටහන් කරන පොත්ය. (ලකුණු 01)

- ආ) මුදල් පොත බැංකු ගිණුම පොදු ජ'නලය
 ගැනුම් ජ'නලය විකුණුම් ජ'නලය සුළු මුදල් පොත
 (1/2x2= ලකුණු 01)

ii. ගෙවීම් කරන ලද වෙක්පත් බැංකුවට අයකල ගාස්තු, පොළී, වෙක්පත් ගාස්තු ස්ථාවර නියෝග ගෙවීම් බැංකුව විසින් සිදුකළ වැරද්දක් (ලකුණු 02)

iii. අ) බැංකු ගිණුම

2020/01/31 ශේෂය	25 000 (01)	ස්ථාවර නියෝග ගෙවීම්	1 000 (01)
සාජු ප්‍රේෂණ	4 000 (01)	20401/31 ශේෂය ප/ගේ	28 000 (01)
	<u>29 000</u>		<u>29 000</u>
2020/02/01 ශේෂය ඉ/ගේ	28 000		

(ලකුණු 04)

ආ) දිල්ෂාන්ගේ ව්‍යාපාරය
 2020/01/31 දිනට බැංකු සැසඳුම් ප්‍රකාශය

	රු.	රු.
බැංකු ගනුමේ සංශෝධිත ශේෂය		28 000 (01)
එකතු කළා		
නිකුත් කල නමුත් ගෙවීමට ඉදිරිපත් නොවූ වෙක්	3 000	3 000 (01)
අඩු කළා		31 000
තැන්පත් කල නමුත් නිෂ්කාශනය නොවූ වෙක්පත්	2 500 (01)	2 500
2020/01/31 දිනට බැංකු ප්‍රකාශය අනුව ශේෂය		<u>28 500 (01)</u>

(ලකුණු 04)

(මුළු ලකුණු 12)

07.	i.	ගැනුම් ගිණුම	නිමාලි ගිණුම
		01/31 ණයහිමියෝ 6000 (ලකුණු 02)	01/05 ගැනුම් 4000 (ලකුණු 01)
		කමති ගිණුම	
		01/15 ගැනුම් 2000 (ලකුණු 01)	
(ලකුණු 04)			

- ii. අ) 1. ගනුදෙනුවක් සම්පූර්ණ පොත් වලින් මඟ හැරීම
 2. ගනුදෙනුවක වටිනාකම මූලික පොත්වල වැරදියට සටහන් වීම
 3. එකම ගනුදෙනුව ගිණුම් පොත්වල දෙවරක් සටහන් වීම
 4. කිසියම් ගනුදෙනුවක වටිනාකම නියමිත ගිණුමේ සටහන් නොකර වෙනත් ගිණුමක සටහන් වීම (1෧2- ලකුණු 02)
- ආ)

දිනය	ව.අ	විස්තරය	ලෙ.පි	හර (රු.)	බැර (රු.)
		ගැනුම් ගිණුම හර ණයහිමියෝ (රු. 20 000 ගැනුම් ඉන්වොයිසිය පොත්වල සටහන් නොවීමේ වරද නිවැරදි කිරීම)		20 000	20 000

(නිවැරදි ප'නල් සටහනට ලකුණු 01)

(සංඝයට ලකුණු 01)

iii.

කිත්සිරි ව්‍යාපාරය
2019.13.31 දිනට ශේෂ පිරික්සුම

විස්තරය	ස.පි	හර (රු.)	බැර (රු.)
මුදල්		30 000	
ගැනුම්		150 000	
විකුණුම්			225 000
2019.01.01 තොගය		40 000	
ණයගැතියෝ		35 000	
ණයහිමියෝ			39 000
විදුලි ගාස්තු		2 000	
ලී බඩු උපකරණ		35 000	
ලද වට්ටම්			6 000
දුන් වට්ටම්		3 000	
මෝටර් රථ		400 000	
බැංකු ණය			100 000
විවිධ ආදායම්			85 000
ප්‍රාග්ධනය			240 000
		695 000	695 000

ව්‍යාපාරයේ නම, දිනට යන වැකි ඇතුළත් නිවැරදි ආකෘතියට ලකුණු 01

නිවැරදි හර සටහන් 8/7 ට ලකුණු 01

ඊට අඩු නම් ලකුණු 1/2

නිවැරදි බැර සටහන් 6/5 ලකුණු 01


ඊට අඩු නම් ලකුණු 1/2

තුලනය කර ලබා ගත් නිවැරදි එකතුවට ලකුණු 01

(ලකුණු 04)

(මුළු ලකුණු 12)


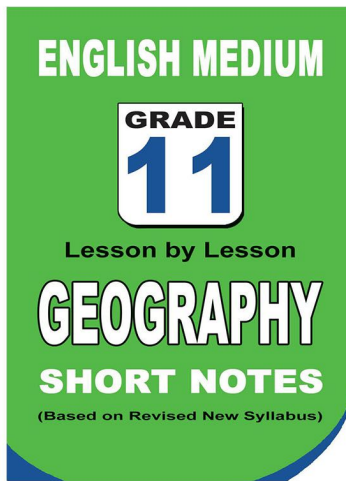
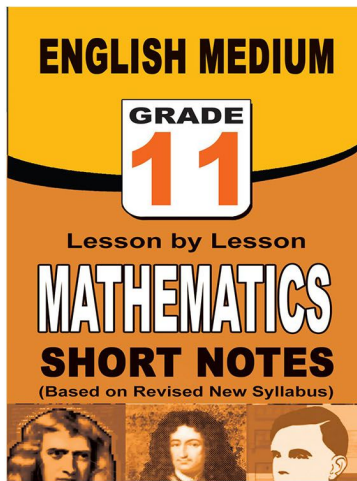
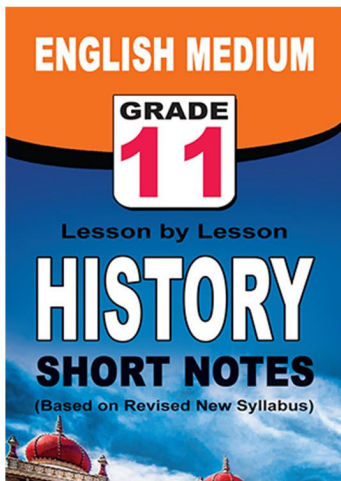
පළාත් ප්‍රශ්න පත්‍ර සහ විලිනුරු පත්‍ර පොත්



ආදර්ශ ප්‍රශ්න පත්‍ර සහ විලිනුරු පත්‍ර පොත්



කෙටි සටහන් පොත්



වට්ටම් සහිතව ගෙදරටම ගෙන්වාගැනීමට

www.lol.lk

Learn Ordinary Level

අමතන්න - 071 777 4440/0756999990/071 8540371



PAST PAPERS WIKI

ප්‍රශ්නපත්‍ර පොත්
ගෙදරටම ගෙන්ව ගන්න
ඔන්ලයින් ඔඩර් කරන්න

WWW.LOL.LK
වෙත යන්න



ONLINE BOOK STORE

An evening of fun for young readers

