

- 12 හරන නැටුම් සඳහා වාදනය කරනු ලබන ප්‍රධාන වාද්‍ය භාණ්ඩය වන්නේ,
 1 තබ්ලාව 2 එඩුක්ක 3 වෙන්ඩාව 4 මාදංගය
- 13 පිළිවෙලින් පෝරණුවට දූමිම සහ ඉල්ලම් ගැරීම දක්නට ලැබෙන කර්මාන්ත වන්නේ,
 1 මැටි හා පතල් ය 2 මැටි හා කෘෂි ය 3 කොහු හා තේ ය 4 පතල් හා මැටි ය
- 14 කුන් තිත තාල වාදනයේ දී භාවිතා වන ධ්වනි ගුණයන් වන්නේ,
 1 තිත් සහ තෙයි 2 තිත් තිත් සහ තෙයි 3 තෙයි තෙයි සහ තිත් 4 තෙයි තෙයි සහ තෙයි
- 15 ගද්‍ය හා පද්‍ය ලක්ෂණ එකතුව නිර්මාණය වී ඇති ගායනා විශේෂයකි.
 1 පැල් කවි 2 ටීකා සිපද 3 පාරු කවි 4 පතල් කවි
- 16 උඩරට සහ සබරගමුව වන්නම් රචනා විමේ අරමුණ වන්නේ,
 1 පුජාර්ථයයි 2 කළගුණ සැලකීමයි 3 සම්ප්‍රදායයි 4 විනෝදාස්වාදයයි
- 17 පහතරට වන්නම් රචනා කළ යුගය සහ ස්ථානය වන්නේ,
 1 දඹදෙණි යුගයේ දෙවුන්දර දේවාලයේදී ය 2 ගම්පොල යුගයේ සමන් දේවාලයේදී ය
 3 මහනුවර යුගයේ කවිකාර මඩුවේදී ය 4 කෝට්ටේ යුගයේ දෙවුන්දර දේවාලයේදී ය
- 18 කෝලම් මඩුවෙහි එන පේඛිවිදානේ නමින් හඳුන්වන වර්තය වන්නේ,
 1 හෙන්වස්පු ය 2 මුදලි ය 3 අණබෙරකරු ය 4 ජසයා ය
- 19 සොකරි ගැමි නාටකයෙහි දක්නට ලැබෙන රංග උපකරණයකි.
 1 අයිලය 2 වෙස්අත්ත 3 වංගෙඩිය 4 පිදේන්න
- 20 වික්‍රමේෂ නාටකයේ මහතා විසින් නිර්මාණය කරන ලද මුද්‍රා නාට්‍යයකි.
 1 තිත්ත බත 2 කරදිය 3 සත්පත්තිනි 4 ග්‍රහ අපලය

- 21 සිට 23 දක්වා අසා ඇති ප්‍රශ්නවලට පහත වගුව ඇසුරින් පිළිතුරු සපයන්න
-

කීරුව	1 පේළිය	2 පේළිය	3 පේළිය
A	විදුර	ගෝපිනාත්	බෙරහඬ
B	ශාන්තිදේවී සෝෂ්	ක්‍රිෂ්ණාට්ටම්	කුවිච් පුඩි
C	රවීන්ද්‍රනාත් තාගෝර්	උදය ශංකර්	කුමම්

- 21 කථකලී නර්තන සම්ප්‍රදාය බිහිවීමට බලපෑ ගැමි නාටකයක් ඇතුළත් වන්නේ
 1 A කීරුවෙහි 2 වන පේළියේ ය 2 B කීරුවෙහි 2 වන පේළියෙහිදී ය
 3 C කීරුවෙහි 1 වන පේළියේ ය 4 B කීරුවෙහි 3 වන පේළියේ ය
- 22 හනික වරෙව් කොල්ලනේයන නාට්‍ය ගීතය අයත්වන නාට්‍ය දෘක්වෙන්නේ
 1 B කීරුවෙහි 2 වන පේළියේ ය 2 A කීරුවෙහි 1 වන පේළියේ ය
 3 C කීරුවෙහි 2 වන පේළියේ ය 4 A කීරුවෙහි 3 වන පේළියේ ය
- 23 ශ්‍රී ලංකාවේ මුද්‍රා නාට්‍ය කලාවේ ආරම්භයට දායක වූ භාරතීය පඬිවරයකු දෘක්වෙන්නේ
 1 C කීරුවෙහි 1 වන පේළියේ ය 2 B කීරුවෙහි 1 වන පේළියේ ය
 3 C කීරුවෙහි 2 වන පේළියේ ය 4 A කීරුවෙහි 2 වන පේළියේ ය

24 කථකලී නර්තනයේ ගීත ගායනා කරනු ලබන්නේ

- 1 හින්දි සහ දෙමළ බසිනි
- 2 සංස්කෘත හා මලයාලම් බසිනි
- 3 මලයාලම් හා හින්දි බසිනි
- 4 දෙමළ හා සංස්කෘත බසිනි

25 කරුණාව නමැති ස්ථායී භාවයෙන් මනුවන රසයයි

- 1 ශාංගාර
- 2 අද්භූත
- 3 ශාන්ත
- 4 රෝද

• 26 - 28 දක්වා ප්‍රශ්න සඳහා පිළිතුරු පහත දැක්වෙන පින්තූර ඇසුරෙන් තෝරන්න



A



B



C



D

26 කරදියේ මුද්‍රා නාට්‍යයේ සිසි ගෙ හා මණ්නඩිරාල ගේ වර්ත රඟ පෑ ශිල්පිනියගේ සහ ශිල්පියාගේ ඡායාරූප දැක්වෙන අක්ෂර වන්නේ පිළිවෙලින්,

- 1 C සහ B ය
- 2 D සහ B ය
- 3 D සහ C ය
- 4 C සහ A ය

27 උඩරට නර්තනය හා වාදනය සම්බන්ධයෙන් ජාත්‍යයන්තර කීර්තියට පත් ශිල්පියා / ශිල්පිනිය දැක්වෙන අක්ෂරය වන්නේ,

- 1 C ය
- 2 A ය
- 3 B ය
- 4 D ය

28 අධ්‍යාපන ක්ෂේත්‍රය හා සම්බන්ධ ආයතනවල ප්‍රධාන තනතුරු දැරූ ශිල්පියා හා ශිල්පිනිය වන්නේ,

- 1 B සහ D ය
- 2 A සහ C ය
- 3 C සහ A ය
- 4 A සහ D ය

29 "මේරුං විරාජිත සමං" යන නමස්කාරය අයත් වන ගායනා විශේෂය වන්නේ,

- 1 ආසාත්මක
- 2 අනාසාත්මක
- 3 තාලාත්මක
- 4 සමස්ථානික

30 කුඹි කථාව මුද්‍රා නාට්‍යයේ නර්තන නිර්මාණය කරන ලද්දේ,

- 1 වජිරා චිත්‍රසේන මහත්මිය විසිනි
- 2 චිත්‍රසේන ඩයස් මහතා විසිනි
- 3 අංජලිකා චිත්‍රසේන මහත්මිය විසිනි
- 4 රවිබන්දු විද්‍යාපති මහතා විසිනි

111 කොටස - පහතරට නැටුම්

- 31 පහතරට නර්තනයේ මූලික අංගභාර සකස් කර ගැනීමට උපයෝගී වන්නේ,
 1 පාසරඹ සහ දොඹින පදය
 2 පාසරඹ සහ ගොඩ සරඹය
 3 පා සරඹ සහ ඉලංගම් සරඹය
 4 ඉලංගම් සරඹ සහ දොඹින පදය
- 32 දෙවොල් මඩු ශාන්ති කර්මයේ එන නාට්‍යමය අවස්ථා දෙකකි.
 1 අසුර යක්කම සහ රාමා මැරීම
 2 දෙවොල් ගොඩ බැසීම සහ අඹ විදමන
 3 අඹ විදමන සහ පොත් කඩේ පාලිය
 4 දෙවොල් ගොඩ බැසීම සහ අසුර යක්කම
- 33 අනුරාග දණ්ඩ තාලයට අයත් බෙර පදය දැක්වෙන වරණය තෝරන්න.
 1 තක දිත් තක දොං දොං දිං තක දොං
 2 දොම් දොම් ගදිකි ට
 3 ගුදින ගුදම් ගත
 4 දිත්තම් දිතකු දොම්
- 34 සඳ සන්දර නව මන්තර අදහාගත් ලෙසටා මෙම කවිය අයත් වනුයේ,
 1 ශද්ධ තාලයට ය
 2 නාතිලිංචි තාලයට ය
 3 අනුරාග දණ්ඩ තාලයට ය
 4 ඊශ්වරකුණ්ඩ තාලයට ය
- 35 පහතරට නර්තන කලාවේ ප්‍රවර්ධනයට දායක වූ ශිල්පියෙකි.
 1 එස් පණිභාරත මහතා
 2 අර්නෝලිස් ඉඹුල්ගොඩ මහතා
 3 ඩී වී පුංචිනිලමේ මහතා
 4 විල්සන් ඔලබොඩුව මහතා
- 36 ගුද ගති ගත වට්ටමට අයත් තාල රූපය තෝරන්න.
 1 මැදුම් තනිතිත
 2 සුළු මැදුම් දේ තිත
 3 සුළු තනි තිත
 4 මැදුම් මහ දෙතිත
- 37 පහතරට බෙරයෙහි කොටස් දෙකක් වනුයේ,
 1 බෙර පුහුල සහ වෙනිවර
 2 වෙනිවර සහ සුරත්තට්ටුව
 3 හයිතට්ටුව සහ වෙනිවර
 4 කැපුම්හම හා බෙරපුහුල
- 38 පහතරට තෙල්මේ ඇදුම් කට්ටලයට අයත් ආහරණ වනුයේ,
 1 පබළු ඉන හැඩය, පබළු කරමාලය
 2 පබළු තුල්ල, කාගුල් කුට්ටම
 3 කාගුල් කුට්ටම, පබළු කරමාලය
 4 රැලි සාය, කර මාලය
- 39 පහතරට බෙර වාදනයේ දී යොදා ගන්නා සතර බීජාක්ෂර වේ.
 1 තත්, පිත්, තොං, නං
 2 තත්, දික්, ගුං, රිම්
 3 තත් , තකට, පිත්, තකට
 4 තත්, දිත්, තොං, නං
- 40 තකදිත් තක දොං කිත්තත් කිට්තක යන ඉරට්ටිය නටනු ලබන්නේ,
 1 හනුමන්තා තාලයට ය
 2 ඊශ්වරකුණ්ඩ තාලයට ය
 3 ශද්ධ තාලයට ය
 4 අනුරාග දණ්ඩ තාලයට ය

1v කොටස - සබරගමු නැටුම්

- 31 සබරගමු නර්තන සම්ප්‍රදායේ මූලික අංගහාර සකස්කර ගැනීමට උපයෝගී වන්නේ,
 1 පා සරඹ හා ඉලංගම් සරඹ 2 ඉලංගම් සරඹ හා දොඹින පද
 3 මණ්ඩි පද සහ දොඹින පද 4 අත් සරඹ සහ දොඹින පද
- 32 පහන් මඩු ශාන්ති කර්මයේ එන නාට්‍යමය අවස්ථා දෙකකි .
 1 යක්කම් සහ අඹ විදමන 2 අසුර යක්කම සහ පොත් කඩේ පාලිය
 3 ආත් බන්ධනය සහ ගුරුගේ මාලාව 4 අසුර යක්කම සහ ගබඩා කොල්ලය
- 33 විරාඩි වන්නමට අයත් බෙරපදය දැක්වෙන වරණය තෝරන්න.
 1 පිම්න කුදා දොං 2 කුදක් තක්ක තකිට පිම්නකු
 3 පිංත කුදක් තත් තකට 4 පිංත පිම්ත්තක් තක්කිට තරිකිට
- 34 "හයිසෙන් කිව්වොත් වන්නම ඔබ්නට" මෙම කවිය අයත් වනුයේ ,
 1 විරාඩි වන්නමට ය 2 මණ්ඩුක වන්නමට ය
 3 කොවුලා වන්නමට ය 4 ආනන්ද වන්නමට ය
- 35 සබරගමුව නර්තන කලාවේ ප්‍රවර්ධනයට දායක වූ ශිල්පියෙකි.
 1 එස්.පණිහාරන මහතා 2 අරනෝලිස් ඉඹුල්ගොඩ මහතා
 3 විල්සන් ඔලබොඩුව මහතා 4 ඩී.වී.පුංචි නිලමේ මහතා
- 36 ගමන් මාත්‍රය අයත් තාල රූපය තෝරන්න.
 1 සුළු තනි තිත 2 සුළු මැදුම් දෙතිත 3 මැදුම් තන්තිත 4 මැදුම් මහා දෙතිත
- 37 දවුලෙහි කොටස් දෙකක් වන්නේ,
 1 ගැටිය සහ හැක්මය 2 මණ්ඩම සහ තට්ටුවය
 3 ගැටිය සහ තට්ටුවය 4 ගැටිය සහ පුරන්තට්ටුවය
- 38 සබරගමු පබළු ඇඳුම් කට්ටලයට අයත් ආභරණ වනුයේ,
 1 හැඩකැල්ල පබළු හැට්ටය 2 හැඩකැල්ල කාගුල
 3 අත්පොට සතර කාගුල 4 කයිමෙත්ත කාගුල
- 39 දවුල් වාදනයෙහි යොදාගන්නා සතර බීජාක්ෂරවේ.
 1 තත්, දිත්, තොං, නං 2 තත්, දිම්, තොං, පිං
 3 පිං, තකට, පිම්, තකට 4 තත්, පිත්, තොං, තං
- 40 ගත්තකු දිත් තා දොංගඩ තරිකිට පිත්තා යන අඩවිව නටනු ලබනුයේ ,
 1 ගමන් මාත්‍රයට ය 2 මණ්ඩුක වන්නමට ය 3 ශුද්ධ තාලයට ය 4 විරාඩි වන්නමට ය

දකුණු පළාත් අධ්‍යාපන දෙපාර්තමේන්තුව

පළමු වාර පරීක්ෂණය - 2020

11 - ශ්‍රේණිය

නර්තනය - II

නම/විභාග අංකය : කාලය : පැය 02 යි.

- පළමු ප්‍රශ්නය අනිවාර්ය වේ. පළමු ප්‍රශ්නය හා තවත් ප්‍රශ්න හතරක් සඳහා පිළිතුරු සපයන්න.

- (1) සියළු ප්‍රශ්නවලට සුදුසු පිළිතුර ඔබගේ පිළිතුරු පත්‍රයේ අදාළ ප්‍රශ්න අංකය යොදා ඉදිරියෙන් ලියන්න
- "තුංතුඹගෙඩි තුනයි තුනයි" යන රචනා පදය තනි තිතට වාදනය කළ හැකිය.
 - දළදා පෙරහැර අවසානයේ වස් දොස් දුරුවීම සඳහාපවත්වනු ලබයි.
 - දෙපාතෝ නමැති ගීත නාටකය මහතාගේ නිර්මාණයකි.
 - නර්තනය අනිවාර්ය විෂයක් ලෙස පාසැල් විෂය මාලාවට ඇතුළත් කරන ලද්දේ වර්ෂයේදී ය.
 - කෝළම් රඟමඩල නමින් හඳුන්වනු ලබයි.
 - නර්තන අධ්‍යාපනයේ ප්‍රවර්ධනය සඳහා දායක වූ නර්තන ශිල්පීනියක් ලෙස..... මහත්මියගේ දායකත්වය අගය කළ හැකිය.
 -සෙල් ලිපිය අනුව දේවදාසීන් සිටි බවත් ඔවුන් දෙවියන් උදෙසා පූජා නැටුම් පැවැත්වූ බවත් සඳහන් වේ.
 - නන්දිකේශවරයන්ගේ නමැති ග්‍රන්ථයෙහි ආරම්භයේදී ම ශිව දෙවියන්ට නමස්කාරයක් දක්වා ඇත.
 - කථකලී නර්තන සම්ප්‍රදායේ ප්‍රධාන ගායකයා නමින් ද සහාය ගායකයා නමින්ද හඳුන්වනු ලබයි.
 - රිටිපන්න සහ සකපෝරුව යොදා ගනු ලබන්නේ කුමන කර්මාන්ත සඳහා ද?
 - රිටිපන්න.....
 - සකපෝරුව.....
- (2) (i) පහත සඳහන් බෙරපද අතරින් ඔබ උගත් නර්තන සම්ප්‍රදායට අදාළ බෙර පදය තෝරාගෙන නියමිත තිත් රූපය අනුව ප්‍රස්ථාර කරන්න.
- දොං පිංත ගත දොංත
 - ගුං දෙගත ගත්ත ගුම්
 - පිං පිමිත් තත් තකට
- (ii) "ගාත තෙල් සඳුන් වරලස ඔමරි කොට - මුහුණ පුරා තෙල් ගාගෙන යන කලට" යන කවි පද දෙක මාත්‍රා තුනේ (3+3) තනි තිතට ප්‍රස්ථාර කරන්න.

(iii) සිංහරාජ වන්නම හෝ විරාඩි වන්නමට අයත් අඩවිවක් හෝ අනුරාග දණ්ඩ තාලයේ ඉරට්ටිය ප්‍රස්ථාර කරන්න.

(3) පහත සඳහන් මාතෘකා අතුරින් තුනක් කෙටියෙන් විස්තර කරන්න.

- (i) සතර අභිනය
- (ii) පංචතුර්ය වාදන භාණ්ඩ වර්ගීකරණය
- (iii) අංග රචනය
- (iv) සිංදු වන්නමේ
- (v) දේශීය නාට්‍ය වර්ග

(4) දේශීය සංස්කෘතික අනන්‍යතාවය පිළිබිඹු කරන කැඩපතක් ලෙස ශාන්තිකර්ම දැක්විය හැකිය.

- (i) පහන් මඩු ශාන්ති කර්මයේ එන වාරිත්‍ර විධි හතරක් නම් කරන්න.
- (ii) දෙවොල් මඩු ශාන්ති කර්මයේ ඇතුළත් නර්තන අංගයක් පිළිබඳව කෙටි විස්තරයක් කරන්න.
- (iii) කොහොඹකංකාරී ශාන්ති කර්මයේ සැරසිලි හා රංග කාණ්ඩ පිළිබඳ විස්තරයක් කරන්න.

(5) සොකරි හා කෝලම් ගැමි නාටක තුළින් ජන ජීවිතය විදහා දැක්වේ.

- (i) සොකරි නාටකයට අදාළ කවියක් ලියා දක්වන්න.
- (ii) සොකරි නාටකයට අයත් වර්ත දෙකක් පිළිබඳව හැඳින්වීමක් කරන්න.
- (iii) ගැමි කලාකරුවා සමාජය විවරණය කරයි කෝලම් නාටකය ඇසුරින් මෙම පාඨය පැහැදිලි කරන්න.

(6) පහත දැක්වෙන රූප රාමු ඇසුරෙන් අසා ඇති ප්‍රශ්නවලට පිළිතුරු සපයන්න.



A



B



C

- (i) A රූපයේ දැක්වෙන නර්තන සම්ප්‍රදාය නම් කර එම සම්ප්‍රදායට අයත් නර්තන අංග තුනක් නම් කරන්න.
- (ii) B රූපයේ දැක්වෙන නර්තන සම්ප්‍රදාය කුමක්ද? එහි වේෂ නිරූපණය පිළිබඳ කෙටි විස්තරයක් කරන්න.
- (iii) C රූපයේ දැක්වෙන නාට්‍ය නම් කර එම නාට්‍යයෙහි කලාත්මක ලක්ෂණ තිවු කිරීම සඳහා යොදාගත් ක්‍රමවේද පැහැදිලි කරන්න.

(7) ජන මාධ්‍ය අතර රූපවාහිනිය ප්‍රබල මාධ්‍යයක් ලෙස දැක්විය හැකිය.

- (i) රූපවාහිනී නාලිකාවල විකාශය වන නර්තන වැඩ සටහන් 4 ක් නම් කරන්න.
- (ii) එම වැඩ සටහන් පාසැල් දරුවන්ගේ නර්තන කුසලතා වර්ධනයට ඉවහල්වේ ද? කෙටියෙන් අදහස් දක්වන්න.
- (iii) රූපවාහිනී වැඩ සටහන්වල නර්තන අංග විවිත්‍රවත්ව ඉදිරිපත් කිරීමට යොදා ගත් උපක්‍රම දෙකක් පිළිබඳව විස්තර කරන්න.

11 ශ්‍රේණිය

පළමු වාරය

නර්තනය

1 පත්‍රය

01 - 3	11 - 3	21 - 2	31 - 3
02 - 2	12 - 4	22 - 4	32 - 2
03 - 1	13 - 1	23 - 1	33 - 1
04 - 3	14 - 2	24 - 2	34 - 2
05 - 1	15 - 2	25 - 3	35 - 4
06 - 1	16 - 4	26 - 2	36 - 3
07 - 3	17 - 1	27 - 1	37 - 3
08 - 1	18 - 4	28 - 2	38 - 1
09 - 4	19 - 3	29 - 2	39 - 4
10 - 2	20 - 2	30 - 3	40 - 4

- (01) (i) මැදුම්
 (ii) චලියක් මංගල්‍යය
 (iii) මකුලොළුව
 (iv) 1972
 (v) තානායම්පොළ
 (vi) මීර්ණා භේමලතා
 (vii) පාලමොට්ටායි
 (viii) අභිනය දර්පනය
 (ix) (අ) පොතානි
 (ආ) සිංකිච්චි/සිංගිච්චි
 (x) (අ) ධීවර කර්මාන්තය
 (ආ) මැටි කර්මාන්තය
- (2) (i) විභාග කර දැක්වීම සහ සංකේත සඳහා - ලකුණු 02
 බෙරපදය ප්‍රස්ථාර කිරීමට - ලකුණු 02
- (ii) විභාග කර දැක්වීම සහ සංකේත සඳහා - ලකුණු 02
 කවි පාද දෙක ප්‍රස්ථාර කිරීමට - ලකුණු 02
- (iii) විභාග කර දැක්වීම සහ සංකේත සඳහා - ලකුණු 02
 ඉරට්ටිය/අඩවිව ප්‍රස්ථාර කිරීමට - ලකුණු 02 මුළු ලකුණු 12
- (3) මාතෘකා තුනක් තෝරාගෙන කෙටි සටහන් ලියා තිබේ නම් ලකුණු 4 x 3 මුළු ලකුණු 12
- (4) (i) පහත් මඩුවේ සිදු කරන වාරිත වීඩි 4 ක් නම් කර තිබේ නම් - ලකුණු 04
 (ii) දෙවොල්මඩු ශාන්ති කර්මයේ නර්තන විස්තර කිරීමට -ලකුණු 04
 (iii) කොහොඹ කංකාරියේ සැරසිලි හා රංග උපකරණ පිළිබඳව කෙටියෙන් දක්වා තිබේ නම් ලකුණු 04
 මුළු ලකුණු 12
- (5) (i) සොකරි නාටකයට අදාළ කවියක් ලියා තිබේ නම් - ලකුණු 04
 (ii) සොකරි නාටකයට අදාළ වර්ත 2 හැඳින්වීමට ලකුණු 2x2 - ලකුණු 04
 (iii) කෝළම් නාටකයෙන් උදාහරණ දෙමින් සමාජ විචරණ කර තිබේ නම් - ලකුණු 04 මුළු ලකුණු 12

- (6) (i) A රූපයේ දැක්වෙන නර්තන සම්ප්‍රදාය නම් කිරීම -ලකුණු 01
නර්තන අංග 3 නම් කිරීමට -ලකුණු 03 මුළු ලකුණු 04
- (ii) B රූපයේ දැක්වෙන නර්තන සම්ප්‍රදාය ලියා තිබේ නම් -ලකුණු 01
වේෂ නිරූපණය පිළිබඳ විස්තර කිරීමට -ලකුණු 03 මුළු ලකුණු 04
- (iii) C රූපයේ දැක්වෙන නාට්‍ය නම් කිරීමට -ලකුණු 01
කලාත්මක ලක්ෂණ තිවු කිරීම සඳහා තාක්ෂණය යොදා ගත් ආකාරය සංගීතය පසුතල නිර්මාණ , රංගවස්ත්‍ර නිර්මාණය ආදී නිර්ණායකයන්ගෙන් 2ක් පැහැදිලි කර තිබේ නම් -ලකුණු 03
මුළු ලකුණු 12
- (7) (i) රූපවාහිනී නාලිකාවල විකාශය වන වැඩ සටහන් 4ක් නම් කිරීම -ලකුණු 02
- (ii) විචාරශීලීව අදහස් ඉදිරිපත් කර තිබේ නම් -ලකුණු 04
- (iii) තාක්ෂණය යොදා ගැනීම, රංග වස්ත්‍රාභරණ ,සංගීතය ආදී අංග පිළිබඳව කෙටියෙන් සඳහන් කර තිබේ නම්
ලකුණු 06
මුළු ලකුණු 12


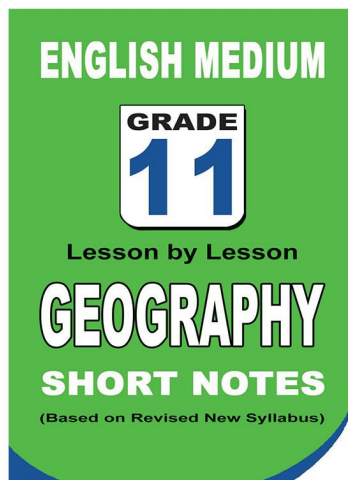
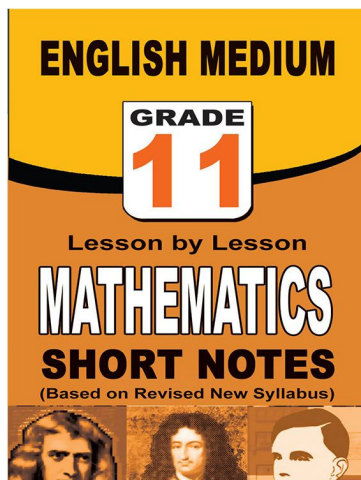
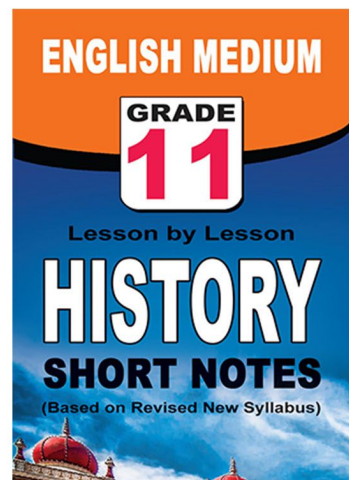
පළාත් ප්‍රශ්න පත්‍ර සහ විලිනුරු පත්‍ර පොත්



ආදර්ශ ප්‍රශ්න පත්‍ර සහ විලිනුරු පත්‍ර පොත්



තේට් සටහන් පොත්



ච්චම් කහිතම ගෙදරටම ගෙන්නාහැනිම

www.lol.lk

Learn Ordinary Level

අමතන්න - 071 777 4440/0756999990/071 8540371



PAST PAPERS WIKI

ප්‍රශ්නපත්‍ර පොත්
ගෙදරටම ගෙන්ව ගන්න
ඔන්ලයින් ඔඩර් කරන්න

WWW.LOL.LK
වෙත යන්න



ONLINE BOOK STORE

An evening of fun for young readers

