

- 10 "FGAB^b CDEF" මෙම ස්වර අයත් වන ස්කේලය (Scale) වනුයේ
 (1) G major scale ය. (2) F^bmajor scale ය. (3) C major scale ය. (4) F major scale ය.
- 11 ජැක්සන් ඇන්තනි සහ අනුලා බුලත්සිංහල රංගනයේ යෙදුනු "නෙනගේ සුදුව....." ඇතුළත් නාට්‍යය වන්නේ,
 (1) රතු හැට්ටකාරි (2) අබුද්දස්ස කෝළම (3) මධුර ජවනිකා (4) තාරාවෝ ඉගිලෙනි
- 12 යමන් රාගය ආශ්‍රිතව නිර්මාණය වූ සරල ගීතයක් නොවන්නේ,
 (1) තිලකසිරි ප්‍රනාන්දු ගයන එන්න මදනලේ.....
 (2) ස්වර්ණලතා කවිශ්වර ගයන ස්වර්ණ ප්‍රදීපාය.....
 (3) සුජාතා අත්තනායක ගයන සාදු දන්න දා.....
 (4) දයාරත්න රණතුංග ගයන සැන්දෑ අහසේ.....
- 13 කෝරල්, පැස්ටරෝල්, E^b major සිමිත නිර්මාණය කළ රොමැන්ටික් වාදී සංගීතය වන්නේ,
 (1) මෝසාර්ට් ය (2) හෙයඩන් ය (3) යානි ය (4) බීතෝවන් ය.

● අංක 14 සිට 18 දක්වා ප්‍රශ්න වලට පිළිතුරු සැපයීම සඳහා පහත බෙරපද අදාළ කර ගන්න.

- A - ජෙංත තකට / ජෙංත තකට
 B - ගුත් - - / ත - ග - / දි ත - / ගු - ගු - / දුං - -
 C - දො මි කි ත / කි ත දො මි
 D - රුත් තුං ක්‍රිට / දිත් තුං - /

- 14 ඉහත A, B, C බෙරපද අයත් නර්තන සම්ප්‍රදායන් පිළිවෙලින් දැක්වෙන පිළිතුර තෝරන්න.
 (1) උඩරට, පහතරට, සබරගමු (2) සබරගමු, පහතරට, උඩරට
 (3) පහතරට, සබරගමු, උඩරට (4) සබරගමු, උඩරට, පහතරට
- 15 තාලයක් හා වෘත්තයක් පදනම් කරගනිමින් නම් කර ඇති වන්නමක් සඳහා වාදනයට සුදුසු බෙර පදය වන්නේ,
 (1) A ය. (2) B ය. (3) C ය. (4) D ය.
- 16 D අක්ෂරයට හිමි තාල පදය වාදනය කිරීමට සුදුසු වාද්‍ය භාණ්ඩය වන්නේ,
 (1) දවුල (2) තම්මැට්ටම (3) මද්දලය (4) ගැටබෙරය
- 17 ඉහත A බෙරපදය සම්බන්ධයෙන් වැරදි ප්‍රකාශය තෝරන්න.
 (1) A බෙර පදය කෝකිල වන්නම සඳහා භාවිතා කරයි
 (2) A බෙරපදය වාදනය වන්නේ දවුලෙනි
 (3) A බෙරපදය අයත් සම්ප්‍රදායේ ඉරට්ටිය නටනු ලැබේ.
 (4) A සම්ප්‍රදායට අයත් වන්නම් සංඛ්‍යාව නාමිකව 24 කි.
- 18 පිළිවෙලින් ABC බෙර පද සඳහා වඩාත් ගැලපෙන හින්දුස්ථානී තාල වන්නේ,
 (1) ජප්, දීප්ජන්දි, ත්‍රිතාල් ය. (2) ලාවනී, ජප්, ත්‍රිතාල් ය.
 (3) බෙම්ඨො, දීප්ජන්දි, කෙහෙර්වා ය. (4) ජප්, දීප්ජන්දි, කෙහෙර්වා ය.
- 19 රන්මුතුදූව, ගැටවරයෝ විත්‍රපට වල සංගීත අධ්‍යක්ෂවරයා
 (1) ආර්. මුත්තුසාමි මහතාය (2) බී. එස්. පෙරේරා මහතාය
 (3) මොහොමඩ් ගවුස් මහතාය (4) ඩබ්. ඩී. අමරදේව මහතාය

- 20 රේඛාව චිත්‍රපටයේ ගීත දැක්වෙන පිළිතුර තෝරන්න.
- (1) රැණ ගිරා....., රැජින මමයි, සුදට සුදේ..... (2) ගලන ගඟකි, පිපී පිපී රේණු....., පාරමිතා බල
 (3) ජීවන මේ ගමන, ඉදිරියටා යමු, පෙම් කැකුළ (4) සුදු සඳ එළියේ, ඕළ නෙළුම්, වෙසක් කැකුළ
- 21 මව්පියො ආදී..... හරිම රජ සැපා....., සිරිබුද්ධගයා යන ගී නම් කළ හැකි වන්නේ,
- (1) නූර්ති ගී වශයෙනි (2) චිත්‍රපට ගී වශයෙනි
 (3) ග්‍රෑම්ෆෝන් ගී වශයෙනි (4) කණ්ඩායම් ගී වශයෙනි
- 22 ගැල්, පැල්, පතල්, පාරු ගී සම්බන්ධ නොගැළපෙන ප්‍රකාශය තෝරන්න.
- (1) අනාසානාත්මකය. (2) මෙහෙ ගී වේ.
 (3) ඒකලව ගායනා කරයි. (4) සමූහ ගායනයට සුදුසුය.
- 23 'ස' ස්වරයේ සංඛ්‍යාතය 256 කි. 'ස' සහ 'ප' අතර සංඛ්‍යාත අනුපාතය 2 : 3 ඒ කි. එසේ නම් 'ප' ස්වරයේ සංඛ්‍යාතය වන්නේ,
- (1) 340 යි (2) 384 යි (3) 388 යි (4) 426 යි
- 24 සමුද්‍රසෝෂ විරිතට අනුව ගැයෙන ගී පාදය තෝරන්න.
- (1) රූ රැසේ අදිනා ලෙසේ..... (2) රළලා උපුලා ලෙළුම් කුලායා...
 (3) පැහැසරණිය මිණි පැමිණිය..... (4) මන්මත් කරවන දන මුළු දෙරණා.....
- 25 මෝසාර්ට් නම් බටහිර සංගීතඥයාගේ සිම්ෆනියක් නොවන්නේ මින් කුමක් ද?
- (1) ජුපිටර් (2) NO 40 (3) NO 39 (4) කොරල්

● පහත රූප සටහනේ දැක්වෙන්නේ ඉන්දීය සංගීතඥයන් සිවු දෙනෙකි. ඒ ඇසුරින් 26 සිට 29 දක්වා ප්‍රශ්න වලට පිළිතුරු සපයන්න.



- 26 ඉහත A, B, C සංගීතඥයන් අතැති වාද්‍ය භාණ්ඩ, සංගීත භාණ්ඩ වර්ගීකරණය අනුව පිළිවෙලින්
- (1) සුෂිර, අවනද්ධ, තත් ගණයට අයත් ය. (2) තත්, අවනද්ධ, සුෂිර ගණයට අයත් ය
 (3) සුෂිර, සණ තත්, ගණයට අයත් ය. (4) සණ, සුෂිර, අවනද්ධ ගණයට අයත් ය
- 27 වාදනයේ දී කායදා, පල්ටා, ගත්, පරන්, තිහායි ආදී ශිල්ප ක්‍රම භාවිතා කරන සංගීතඥයා දැක්වෙන රූප සටහන වන්නේ,
- (1) A ය. (2) B ය. (3) C ය. (4) D ය.
- 28 "රෝජා" චිත්‍රපටය සඳහා සංගීතය නිර්මාණය කළ ශිල්පියා වන්නේ,
- (1) A - හරි ප්‍රසාද් චෝරසියා (2) B - ශකීර් හුසේන්
 (3) C - රව් ශංකර් (4) D - AR රහුමාන්
- 29 සත්‍යජිත් රායිගේ චිත්‍රපට සඳහා සංගීත නිර්මාණය කළ ලෝකප්‍රකට ශිල්පියා දැක්වෙන රූප සටහන වන්නේ,
- (1) A ය. (2) B ය. (3) C ය. (4) D ය.
- 30 "නොමදින් විකුම් පාලා....." යන ගී පාදය,
- (1) ප්‍රශස්ථිය කි. (2) ගැමි ගීයකි. (3) හටන් කවියකි. (4) වන්නමකි.

- 31 + නිරිත / කොණ යු / තා s මල්
මෙම ගී පාදය ආරම්භ වන්නේ,
(1) සමග්‍රහයෙනි. (2) බලියෙනි. (3) අවග්‍රහයෙනි. (4) විෂම ග්‍රහයෙනි.
- අංක 32 - 34 දක්වා පිළිතුරු සැපයීමට පහත ගී පාදය අදාළ කර ගන්න.
“දැනට වළඪ මල් මුතු වැල් මාලා පොටයි”
- 32 ඉහත ගී පාදයේ සදස්මත් හා ගී මත් ගණන පිළිවෙලින් දැක්වෙන පිළිතුර තෝරන්න.
(1) 16, 32 (2) 18, 24 (3) 19, 24 (4) 24, 24
- 33 ඉහත ගී පාදය නිර්මාණයට පදනම් වූ ජන ගීතය වන්නේ,
(1) පැල් කවි (2) නෙළුම් කවි (3) ශාන්ති කර්ම ගී (4) කමත් කවි
- 34 ජන ගී ඇසුරින් ඉහත ගීතය නිර්මාණය කරන ලද්දේ,
(1) රෝහණ බැද්දගේ මහතාය (2) රෝහණ වීරසිංහ මහතාය
(3) ලයනල් රංවල මහතාය (4) සී. ද එස්. කුලතිලක මහතාය
- 35 දයානන්ද ගුණවර්ධනයන්ගේ ජස ලොවිනා, ගජමන් පුවත, ආනන්ද ජවනිකා, මධුර ජවනිකා නාට්‍ය සඳහා සංගීතය නිර්මාණය කරනු ලැබුවේ,
(1) සී ද එස් කුලතිලක මහතා විසිනි. (2) රෝහණ බැද්දගේ මහතා විසිනි.
(3) WB මකුලොඵව මහතා විසිනි. (4) ලයනල් රන්වල මහතා විසිනි.
- 36 වංග සංගීතය ඇසුරින් නිර්මාණය කරන ලද සරල ගීතයකි.
(1) ආදරයේ උල්පත වූ අම්මා (2) බැස සිතල ගඟලේ
(3) මාරම්බරී..... කෝළ වී (4) ගුමු ගුමුව වදුලේ.....
- 37 සංගීත භාණ්ඩයක නාද උත්පාදකයේ දිග සනකම වෙනස් වන විට ඉන් නිකුත් වන නාදයේ ඇති වන වෙනස
(1) තාරතාවය යි. (2) විපුලතාවය යි. (3) රූප හේදය යි. (4) ධ්වනි ගුණය යි.

38



මෙම රූප සටහනේ දැක්වෙන්නේ

- (1) Bass clef (2) Tie notes (3) Key signature (4) Minim
- 39 ශබ්දය ගබඩා කළ මුල්ම තාක්ෂණික මෙවලම වන්නේ
(1) ග්‍රැමෆෝන් තැටිය යි. (2) CD තැටිය යි. (3) කැසට් පටය යි. (4) DVD තැටිය යි.
- 40 එක් එක් භාණ්ඩයෙන් නිකුත් වන සංගීතය වෙන් වශයෙන් පටිගතකිරීම හඳුන්වනු ලබන්නේ,
(1) Sound font ලෙසය (2) Multi - Track Recording ලෙසය
(3) Midi Music ලෙසය (4) Key Board Music ලෙසය

- (ii) එම රාග අතරින් උදය කාලයේ ගායනයට උචිත රාගයේ ආරෝහණ, අවරෝහණ වාදි සංවාදි ස්වර ලියන්න
- (iii) ii හි ලියූ තොරතුරු ප්‍රකාශ වන රාගයට අයත් සර්ගම් ගීතය ප්‍රස්තාර කරන්න.
- (iv) iii හි ප්‍රස්තාරයට අදාළ තාලය නියමිත කාල සංකේත යොදා ප්‍රස්තාර කරන්න.

04 පහත දැක්වෙන්නේ දේශීය වාද්‍ය භාණ්ඩ ලැයිස්තුවකි.

- ගැටබෙරය
- යක්බෙරය
- උඩැක්කිය
- හොරණුව
- දවුල
- තම්මැට්ටම
- ගෙජ්ජි

- (i) මෙම භාණ්ඩ දේශීය භාණ්ඩ වර්ගීකරණය අනුව වර්ග කරන්න.
- (ii) දෙතිතට අයත් බෙර පදයක් නියමිත තිත් සංඥා සහිතව ප්‍රස්ථාර කරන්න.
- (iii) ඉහත (ii) හි ප්‍රස්ථාර කරන ලද තාලය මත ගායනය කළ හැකි ගැමි ගීයක් හා සේ ගීයක පළමු පේළිය ලියන්න.
- (iv) ගැමි ගී හා සේ ගී අතර ඇති විශේෂතා කරුණු 02 බැගින් ගෙන සංසන්දනය කරන්න.

05 පහත දැක්වෙන ප්‍රකාශයන් ඇසුරෙන් පිළිතුරු සපයන්න.

- A - රකිනු ඊශ්වරා, අප ගුණ සරු සිංහල භූපති යනාදී ගීත අයත් වේ.
- B - සිංහබාහු, මනමේ නාට්‍ය නිර්මාණය සඳහා ආභාසය ලබා ඇත.
- C - ජසයා, ලොවිනා, අණබෙර ආදී වර්ත ඇත.
- D - සශ්‍රීකත්වය අරමුණු කර ගනිමින් රඟ දක්වයි.
- (i) ඉහත A, B, C, D නාට්‍ය හඳුනාගෙන නම් කරන්න.
- (ii) B නාට්‍ය සඳහා උත්තර භාරතීය සංගීත ආභාසය ලැබී තිබේ. ඒ බව තහවුරු කිරීම සඳහා කරුණු 02 ක් ඉදිරිපත් කරන්න.
- (iii) B නාට්‍ය ශෛලිය සඳහා යොදාගත් සංගීත භාණ්ඩ, තාල, ගීතයන් හි සුවිශේෂී අංග, සංගීතඥයන් ඇතුළත් වනසේ කෙටි සටහනක් ගොඩ නගන්න.
- (iv) C හා D නාට්‍ය ශෛලීන්ට අදාළ ගීත දෙකක් මුල් පේළි දෙක පද ප්‍රස්ථාර කරන්න.

06 පහත දැක්වෙන්නේ පෙරදිග ස්වර ප්‍රස්තාරයක කොටසකි.

ප	ම	රි	ග		ස	-	-	රි		ග	-	-	-	-		-	ග	ම	න
රි	ස	නි	ධ		නි	-	රි	-		ස	-	-	-	-		+	+	ම	ග

- (i) ඉහත ස්වර ප්‍රස්ථාරය මධ්‍යම භාවයට පෙරළා නැවත ලියන්න.
- (ii) මධ්‍යම භාවයට පෙරළන ලද ස්වර ප්‍රස්තාරය අපරදිග ක්‍රමයට අනුව ප්‍රස්ථාර කර දක්වන්න.
- (iii) අපරදිග සංගීත භාණ්ඩ වර්ගීකරණය දක්වා එක් එක් වර්ගයට උදාහරණ 02 බැගින් ලියන්න.

07 පහත ශීර්ෂ අතරින් 04 ක් තෝරා ගෙන කෙටි සටහන් ලියන්න.

- (i) මුල් යුගයේ ගුවන් විදුලි ගී නිර්මාණකරුවෝ
- (ii) ශ්‍රී ලංකාවේ කණ්ඩායම් සංගීතය
- (iii) සරල ගීතයක ආකෘතිය
- (iv) ප්‍රසංග වේදිකාව හා තාක්ෂණික මෙවලම්
- (v) ශ්‍රී ලංකාවේ චිත්‍රපට සංගීතය ආරම්භය හා විශේෂ ලක්ෂණ
- (vi) කපිරිඤ්ඤා ගී

11 ශ්‍රේණිය


පෙරදිග සංගීතය

පිළිතුරු පත්‍රය - I කොටස

1 - (3)	2 - (4)	3 - (1)	4 - (3)	5 - (2)	6 - (1)	7 - (4)	8 - (2)	9 - (3)	10 - (2)
11 - (3)	12 - (1)	13 - (4)	14 - (2)	15 - (2)	16 - (3)	17 - (3)	18 - (3)	19 - (4)	20 - (4)
21 - (3)	22 - (4)	23 - (2)	24 - (3)	25 - (4)	26 - (1)	27 - (2)	28 - (4)	29 - (3)	30 - (3)
31 - (3)	32 - (3)	33 - (2)	34 - (4)	35 - (2)	36 - (2)	37 - (1)	38 - (3)	39 - (1)	40 - (3)

(නිවැරදි පිළිතුරු ලකුණු 01 බැගින්)
(මුළු ලකුණු 40 යි.)

II පත්‍රය

- 01 (i) සම්පූර්ණ ජාතිය/ සධ්‍රැවය සංවාදි ස්වරය වීම / ගු, නි යෙදීම
 (ii) රාගයට අදාළ සංගති (iii) දාදරා, කෙහෙරවා, බෙම්බො ආදි තාල අතරින් එක් තාලයක යේකාව
 (iv) රි ම ධ / DFA (v) W. B. මකුලොඵව (vi) ජෝන් ද සිල්වා මහතා
 (vii) ගුණදාස කපුගේ මහතා (viii) යානි (ix) දකුණු ඉන්දියානු, මුදුප්පදය
 (x) හජන්, උතුරු ඉන්දියාවේ
 i - viii දක්වා ලකුණු 01 බැගින් ද ix, x සඳහා ලකුණු 02 බැගින් (මුළු ලකුණු 12)
- 02 (i) a) භූපාලි b) හෙරෙවි (ලකුණු 02)
 (ii) ප්‍රස්ථාරය නම් කිරීම, ස්වර සංකේත භාවිතය, සහ නිවැරදිව ප්‍රස්ථාරය (ස්වර) ඇත්නම් ලකුණු පවරන්න. (ලකුණු 06)
 (iii) තානාලංකාර දෙකට (ලකුණු 04)
- 03 (i) බ්ලාවල් - ගර්ගප - ධනිස, ස - ධපමගමරි - - -, ගපමගමරි - - -
 යමන් - නිර්ගරිස - , පමගරිනිරිස -, පර්ගරිස - (ලකුණු 03)
 (ii) බ්ලාවල් රාගයට අදාළ නිවැරදි තොරතුරු සඳහා (ලකුණු 04)
 (iii) රාගය නම් කිරීමට අදාළව නිවැරදිව පද ප්‍රස්තාර කිරීම (ලකුණු 04)
 (iv) තාලපදයේ සංකේත, නිවැරදි යේකාව ඇත්නම් (ලකුණු 03)
 (මුළු ලකුණු 12)
- 04 (i) නිවැරදි පිළිතුරුට (ලකුණු 03)
 (ii) තාලය නම් කිරීම, සංකේත භාවිතය නිවැරදි නම් (ලකුණු 03)
 (iii) කවිපද ලිවීම හා සේගී, ගැමි ගී නම් කිරීම (ලකුණු 02)
 (iv) නිවැරදි පිළිතුරුට (සංසන්දනය කළ යුතුය) (ලකුණු 04) (මුළු ලකුණු 12)
- 05 (i) A- නූර්ති B- නාඩගම් C- කෝලම් D- සොකරි (ලකුණු 02)
 (ii) සර්පිනා තබ්ලා ආදි හින්දුස්ථානි වාද්‍යභාණ්ඩ යොදා ගැනීම, නූර්ති ගීත සඳහා රාගධාරි ආභාසය ලබා තිබීම,
 ත්‍රිතාල්, දාදරා ආදි තාල යොදා ගැනීම ආදි කරුණු 03 ක් සඳහා (ලකුණු 02)
 (iii) නාඩගම් නාට්‍ය පිළිබඳ කෙටි විස්තරයක් අදාළ කරුණු අනුව සටහන් කිරීමට (ලකුණු 04)
 (iv) කෝලම් හා සොකරි ගීත පේලි දෙක බැගින් පද ප්‍රස්ථාර කිරීමට (ලකුණු 04) (මුළු ලකුණු 12)
- 06 (i) සි න්‍රි ධ ප ධ | ම - - ප | ධ - - - | - ධ න්‍රි ධ
 ප ම ග රි | ග - ප - | ම - - - | + + න්‍රි ධ | (ලකුණු 04)
 (ii)  (ලකුණු 01)
 (Key signature යොදා නැත්නම් ලකුණු 02 අඩු කරන්න.) (ලකුණු 04)
 (iii) නිවැරදි වර්ගීකරණයට සහ ප්‍රධාන බෙදීම සඳහා උදාහරණ සැපයීම (ලකුණු 06)
- 07 එක් එක් ශීර්ෂය යටතේ කරුණු අදාළව ලියා ඇත්නම් මුළු ලකුණු පවරන්න.
 (ලකුණු 03 බැගින් කරුණු 04 සඳහා මුළු ලකුණු 12)


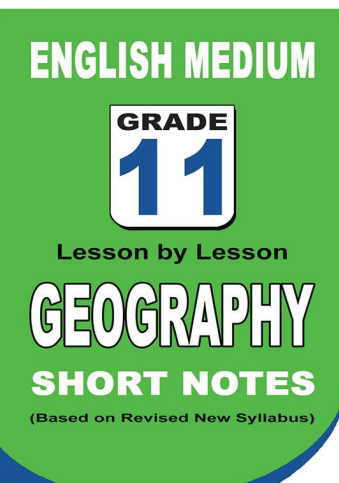
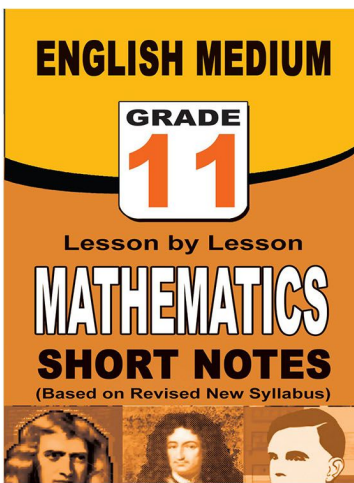
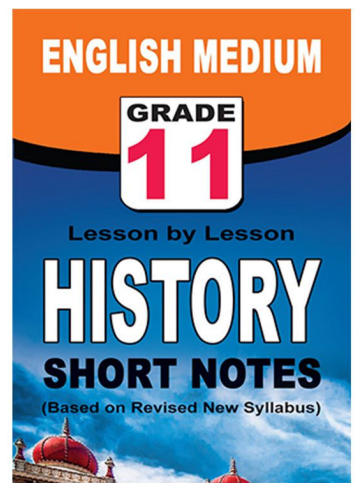
පළාත් ප්‍රශ්න පත්‍ර සහ විලිනුරු පත්‍ර පොත්



ආදර්ශ ප්‍රශ්න පත්‍ර සහ විලිනුරු පත්‍ර පොත්



කෙටි සටහන් පොත්



ච්චම් සහිතව ගෙදරටම ගෙන්වාගැනීමට

www.lol.lk

Learn Ordinary Level

දුරකථන - 071 777 4440/0756999990/071 8540371



PAST PAPERS WIKI

ප්‍රශ්නපත්‍ර පොත්
ගෙදරටම ගෙන්ව ගන්න
ඔන්ලයින් ඔඩර් කරන්න

WWW.LOL.LK
වෙත යන්න



ONLINE BOOK STORE

An evening of fun for young readers

