



වයඹ පළාත් අධ්‍යාපන දෙපාර්තමේන්තුව
දෙවන වාර පරීක්ෂණය 2019

08 ශ්‍රේණිය

ඉතිහාසය

කාලය පැය 02 යි

නම/ විභාග අංකය:

I කොටස

- සියළුම ප්‍රශ්නවලට පිළිතුරු සපයන්න.
 - අංක 01 සිට 05 දක්වා ප්‍රශ්න වල හිස්තැනට සුදුසු වචනය වරහන් තුළින් තෝරා ලියන්න.
- 01 අඹන් ගඟ හරහා වේල්ලක් බැඳ එතැන් සිට උතුරු ප්‍රදේශයට ජලය ගෙනයාමට ඇළ කරවන ලදී. (ඇළහැර / තල්වතු / මිනිපේ)
- 02 අභයගිරියේ පිහිටි ජල ස්නානය සඳහා සැදූ විශාලම පොකුණකි. (කුට්ටම් පොකුණ / නෙළුම් පොකුණ / ඇත් පොකුණ)
- 03 උඩරට රාජධානිය අතීතයේ දී නමින් ද හඳුන්වා ඇත. (ගඟසිරිපුර / කන්දෙනුවර / පුලස්තිපුර)
- 04 උඩරට රාජධානියේ නව රාජවංශයන් ආරම්භ කරමින් I වන විමලධර්මසූරිය නමින් රජවූයේ ය. (කොනප්පු බණ්ඩාර / යමසිංහ බණ්ඩාර / කරල්ලියද්දේ බණ්ඩාර)
- 05 ආසියාවෙන් යුරෝපයට ගෙන ගිය වෙළඳ ද්‍රව්‍ය විකුණු මධ්‍යස්ථානය ලෙස නගරය වැදගත් විය. (පීනිවා / ප්ලොරන්ස් / කොන්ස්තන්තිනෝපල්)
- අංක 06 - 10 දක්වා ප්‍රශ්න වල දැක්වෙන ප්‍රකාශ නිවැරදි නම් (✓) ලකුණ ද, වැරදි නම් (✗) ලකුණ ද ඉදිරියෙන් ඇති වරහන තුළ යොදන්න.
- 06 අතීතයේ දී හික්කුන් වහන්සේලාට බණ භාවනා කිරීම සඳහා සුදුසු වන ලෙස සැදූ උද්‍යාන ආරාමික උද්‍යාන වේ. ()
- 07 අනුරපුර යුගයේ මුල්භාගයේ භාවිතා කළ ගඩොල් නූතන ගඩොල් වලට වඩා ප්‍රමාණයෙන් විශාල වේ. ()
- 08 I වන විමලධර්මසූරිය රජු දන්තවෙර සටනින් පෘතුගීසීන් පරාජයට පත් කරන ලදී. ()
- 09 නායක්කාර් පෙළපතේ ආරම්භක රජු කීර්ති ශ්‍රී රාජසිංහ රජුය. ()
- 10 ප්ලොරන්ස් නගරය ඉතාලියේ බිහි වූ වැදගත් වෙළඳ නගරයකි. ()

● අංක 11 - 15 දක්වා ප්‍රශ්නවලට නිවැරදි පිළිතුර කෝරා යටින් ඉරක් අඳින්න.

11 ස්වභාවිකව සුළං බලය යොදාගෙන යකඩ නිස්සාරණය කිරීම පිළිබඳ හොඳම සාක්ෂිය හමුවන ස්ථානය වන්නේ මින් කුමක් ද?

- (1) සීගිරියේ දෙහිගහ ඇළකන්ද
- (2) බලංගොඩ සමනල වැව ප්‍රදේශය
- (3) මධ්‍යම නුවරගම් පළාතේ ගල්කඩවල
- (4) අම්පාර රජගල ප්‍රදේශය

12 පොළොන්නරු අවධියේ සඳකඩ පහනින් ගව රූපය ඉවත් කිරීමට බල පෑ ආගමික හේතුව කුමක් ද?

- (1) හින්දු ආගමික බලපෑම්
- (2) ඉස්ලාම් ආගමික බලපෑම්
- (3) බෞද්ධාගමික බලපෑම්
- (4) බ්‍රාහ්මණ ආගමික බලපෑම්

13 අනුරපුර යුගයේ දී අගනගරයෙන් බැහැර ප්‍රදේශ වල බිහි වූ දාගැබක් පිළිබඳව දැක්විය හැකි හොඳම උදාහරණය වන්නේ මින් කුමක් ද?

- (1) ථූපාරාමය
- (2) අභයගිරිය
- (3) සේරුවාවිල
- (5) මහාථූපය

14 දෙවන රාජසිංහ රජු සමඟ ගන්නෝරුවේදී ඇති වූ සටනේ දී පෘතුගීසි සේනාවට නායකත්වය ලබා දුන් සෙන්පතිවරයා කවුද?

- (1) පේරෝලෝපේස් ද සුසා
- (2) කොන්ස්තන්තීනුද සා
- (3) දියෝගුදමේලෝ කැස්ත්‍රෝ
- (4) අපොන්සු පෙරෙයි‍රා ද ලසර්දා

15 ක්‍රිස්තුස් වහන්සේගේ අන්තිම රාත්‍රි භෝජනය නම් වූ විශිෂ්ට සිතුවම කාගේ නිමැවුමක් ද?

- (1) මයිකල් ආන්ජලෝ
- (2) ලියනාඩෝ ඩාවින්චි
- (3) ඩොනට්ලෝ
- (4) රෆායෙල්

● අංක 16 - 20 දක්වා ප්‍රශ්න වලට හිස්තැනට සුදුසු පිළිතුර කුමක් දැයි ලියා දක්වන්න.

16 ප්‍රමාණයෙන් කුඩා දාගැබ් ආවරණයට සැදූ ගෘහය ලෙස හැඳින්වේ.

17 රජරට ශිෂ්ටාචාරයට අයත් කලාත්මක බෝධිඝරය වූ නිල්ලක්කගම බෝධිඝරය පිහිටා ඇත්තේ දිස්ත්‍රික්කයේය.

18 අතීත රාජධානි ආශ්‍රිතව කැසිකිලියෙන් බැහැර වන අප ජලය සෘජුව පොළවට මුදා නොහැර පෙරීමෙන් පසුව පිරිසිදු කර මුදාහැරීම සඳහා පොළොව තුළ මුට්ටි සවි කර තිබුණි.

19 මහනුවර යුගයේ දී බුදු දහමේ හරය මහජනතාවට ගෙනයාමේ මාධ්‍ය ලෙස කලාව යොදා ගෙන තිබුණි.

20 ජලෝරත්ස් නගරයේ පිහිටා ඇති ප්‍රතිමාව ඩොනට්ලෝගේ විශිෂ්ටතම නිමැවුමකි.

(ල. 02 x 20 = 40)

08 ශ්‍රේණිය

ඉතිහාසය - II කොටස

- පළමු ප්‍රශ්නය ඇතුළුව ප්‍රශ්න පහකට පිළිතුරු සපයන්න.

01. (i) A අක්‍ෂරයෙන් දැක්වෙන්නේ ශ්‍රී ලංකාවේ අවසාන රාජධානියයි. එය කුමක් ද? (ල. 02)

(ii) B අක්‍ෂරයෙන් දැක්වෙන්නේ මහනුවර නගරයට ආරක්‍ෂාව සැපයූ ගංඟාවකි. එය කුමක් ද? (ල. 02)

(iii) A පින්තූරයෙන් දැක්වෙන්නේ උඩරට රාජධානියේ අවසාන පාලකයාය. ඔහු නම් කරන්න. (ල. 02)

(iv) උඩරට රාජධානිය සම්බන්ධයෙන් ඔහුගෙන් ඉටු වූ සේවාවන් 02 ක් ලියන්න. (ල. 02)

(v) B පින්තූරයෙන් දැක්වෙන ගොඩනැගිල්ල කුමක් ද? (ල. 02)


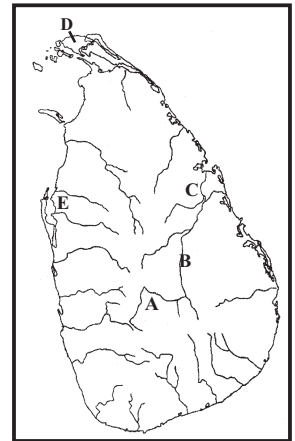
(vi) මෙය කුමන යුගයකට අයත් ඉදිකිරීමක් ද? (ල. 02)

(vii) C පින්තූරයේ දැක්වෙන උපකරණය කුමක් ද? එය නිපදවූ තැනැත්තා කවුද? (ල. 02)

(viii) මෙම උපකරණය මගින් හඳුනාගත් නව සොයාගැනීම් 02 ක් නම් කරන්න. (ල. 02)

02 (i) උඩරට රාජධානියට ස්වභාවිකව ආරක්‍ෂාව සැපයූ පිහිටීම් 03 ක් පහත තේමා යටතේ දැක්වන්න.

A ගංඟාවක් B කඳු වැටියක් C දුර්ග මාර්ගයක් (ල. 03)



(ii) උඩරට රජවරු හා ඔවුන්ගේ කාර්යයන් සම්බන්ධ පහත දැක්වෙන වගුව වරහන් තුළ දී ඇති තොරතුරු ඇසුරින් සම්පූර්ණ කරන්න.

රජතුමා	කළ කාර්යන්
(1) II රාජසිංහ	බලන සටනේ දී පෘතුගීසීන් පරාජය කිරීම (2)
(3)	වැලිවිට සඟරජ හිමිගෙන් අධ්‍යාපනය ලැබීම
(4)	ඉංග්‍රීසීන් ලංකාවේ මුහුදුබඩ ප්‍රදේශ අල්ලා ගැනීම

(ල. 04)

(I විමලධර්මසූරිය / 1638 ගිවිසුම / 1766 ගිවිසුම අත්සන් කිරීම / කීර්ති ශ්‍රී රාජසිංහ / රාජාධිරාජසිංහ)

(iii) උඩරට රාජ්‍ය සමයේ වෙළඳාම සිදුවූ ආකාර දෙක කෙටියෙන් පැහැදිලි කරන්න. (ල. 04)

03. (i) උඩරට ගෘහනිර්මාණ ශිල්පයේ දී වැදගත් තැනක් ලැබුනේ ආගමික ගොඩනැගිලි නිර්මාණයටයි. එලෙස ඉදිකළ ආගමික ගොඩනැගිලි 03 ක් නම් කරන්න. (ල. 03)

(ii) උඩරට සමාජයේ විවාහයන් සිදු වූ ආකාරය එහි පැවති විවාහ ක්‍රම දෙක ඇසුරින් කෙටියෙන් පැහැදිලි කරන්න.

විවාහය	සිදු වූ ආකාරය
(1)
(2)

(ල. 04)

(iii) (අ) උඩරට චිත්‍ර ඇඳීමට තේමා කරගත් ජාතක කතා 02 ක් නම් කරන්න. (ල. 02)

(ආ) මහනුවර යුගයේ චිත්‍ර දක්නට ලැබෙන ස්ථාන 02 ක් නම් කරන්න. (ල. 02)

04. (i) මධ්‍යතන යුගය අවසානයේ යුරෝපයේ බිහි වූ විශ්ව විද්‍යාල ඇසුරින් පහත වගුව පුරවන්න.

රට	විශ්ව විද්‍යාලය
A
B
C

(ල. 03)

(ii) පහත සඳහන් ප්‍රකාශ අතරින් පුනරුද සමයේ කලා ශිල්ප වල දක්නට ලැබෙන ලක්ෂණ 04 ක් තෝරා ලියන්න.

- A - ආගමික මුහුණුවරක් ගැනීම
- B - ලෞකිකත්වයට මුල් තැන දීම
- C - ස්වාධීනව නිර්මාණ කිරීමට ඉඩක් නොවීම
- D - විවිධ ධනවතුන් අනුග්‍රහ දැක්වීම
- E - පල්ලිය පමණක් කලා නිර්මාණ වලට අනුග්‍රහ දැක්වීම
- F - නිර්මාණය කර්තෘගේ නමින් ම එළි දැක්වීම
- G - ආගමික භක්තිය ජනිත කිරීම මූලික අරමුණ වීම
- H - රසවින්දනය ඇති කිරීම මූලික පරමාර්ථය වීම

(ල. 04)

(iii) ක්‍රි. ව. දොළොස්වන සියවසේ සිට යුරෝපයේ ඇති වූ වෙළඳාමේ දියුණුව පුනරුදයට බලපෑ ආකාරය කරුණු 02 ක් ඇසුරින් පැහැදිලි කරන්න. (ල. 04)

05 (i) පහත සඳහන් වන්නේ මානවවාදී ගත්කතුවරු බිහි වූ රටවල් තුනකි. එම රටවලින් බිහි වූ ගත් කතුවරු නම් කරන්න.

- ★ ඉතාලිය A
- ★ එංගලන්තය B
- ★ ප්‍රංශය C

(ල. 03)

(ii) දේවවරම් වාදය හා මානව වාදය යනුවෙන් හඳුන්වන්නේ කුමක්දැයි සරලව ලියන්න. (ල. 04)

(iii) පුනරුද සමයේ කලා නිර්මාණ ඇසුරින් පහත වගුව සම්පූර්ණ කරන්න.

නිර්මාණයේ නම	නිර්මාණශිල්පියාගේ නම
A මොනාලිසා	(1).....
B ඩේවිඩ්ගේ ප්‍රතිමාව	(2)
C ශාන්ත ජෝන්ගේ ප්‍රතිමා	(3)
D අවසාන විනිශ්චය	(4)

(ල. 04)

06 (i) පුනරුද යුගයේ ඉදිවූ ගෘහ නිර්මාණවල දැකිය හැකි රෝම ගෘහ නිර්මාණ ශිල්පයට අයත් ලක්ෂණ 03 ක් නම් කරන්න. (ල. 03)

(ii) පහත සඳහන් වන්නේ විශ්වය පිළිබඳ විවිධ මත ඉදිරිපත් කළ විද්‍යාඥයින් දෙදෙනෙකුය. ඔවුන් ඉදිරිපත් කළ මත ඊට ඉදිරියෙන් ලියන්න. (ල. 04)

- A - නිකලස් කොපර් නිකස්
- B - ජොහැන්නස් කෙප්ලර්

(iii) වෛද්‍ය විද්‍යාව සම්බන්ධයෙන් පහත සඳහන් විද්‍යාඥයින් විසින් කළ සොයාගැනීම් සඳහන් කරන්න.

- A - විලියම් හාවේ
- B - වෛද්‍ය පැරසල්සස්

(ල. 04)

07 (i) පහත සඳහන් පුද්ගලයින් අතරින් ආගමික ප්‍රතිසංස්කරණ වලට සම්බන්ධව පල්ලියේ කටයුතු විවේචනය කළ පුද්ගලයින් තිදෙනකු තෝරන්න.

- A - ලියනාඩෝ ඩාවින්චි
- B - ඉරාස්මස්
- C - ඩොනෙටෙලෝ
- D - මාටින් ලූතර්
- E - ඩාන්ටේ
- F - ජෝන් කැල්වින්

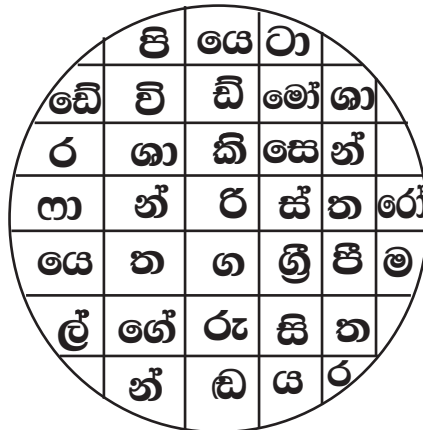
(ල. 03)

(ii) පල්ලියේ බලයට එරෙහිව නැගී සිටි කණ්ඩායම් හැඳින්වීමට භාවිතා කළ නම් 02 ක් ලියන්න.

(ල. 02)

(iii) පහතින් දක්වා ඇති වචන සටහන උදව් කරගෙන පිළිතුරු සපයන්න.

- (1) පුනරුද සමයේ ප්‍රතිමා නෙළීමට භාවිත කළ අමුද්‍රව්‍යයක් සටහනින් තෝරන්න. (ල. 01)
- (2) ශ්‍රීක රෝම ගෘහනිර්මාණ ශිල්පය පෙන්නුම් කරන ගොඩනැගිල්ලකි. (ල. 01)
- (3) දක්ෂ ගෘහ නිර්මාණ ශිල්පියෙකි. (ල. 01)
- (4) මයිකල් ආන්ජිලෝගේ අග්‍රගන්‍ය ප්‍රතිමා තුනක් දක්වන්න. (ල. 03)



පිළිතුරු පත්‍රය - I කොටස

- 01. ඇළහැර 02. ඇත්පොකුණ 03. කන්දේ නුවර 04. කොනස්පුබණ්ඩාර 05. කොන්සන්නිනෝපල්
- 06. (✓) 07. (✓) 08. (✓) 09. (✗) 10. (✓) 11. (2) 12. (1) 13. (3)
- 14. (3) 15. (2) 16. වටදාගෙය 17. කුරුණෑගල 18. පෙරහන් මුවිටි 19. චිත්‍ර 20. ශාන්ත ජෝන්ගේ

(2 x 20 = ල. 40)

II කොටස

- 01. (i) මහනුවර (ල. 02) (ii) මහවැලි ගඟ (ල. 02) (iii) ශ්‍රී වික්‍රම රාජසිංහ රජු (ල. 02)
- (iv) දළදා මාලිගයට පත්කිරීමේදී ඉදි කිරීම බෝගම්බර වැව ප්‍රතිසංස්කරණ කිරීම
- (v) මැදවෙල ටැම්පිට විහාරය (vi) මහනුවර යුගයට
- (vii) දුරේක්‍ෂය - ගැලිලියෝ ගැලිලි (viii) වන්ද්‍ය ආවාට හා කඳු, සූර්ය ලප
බ්‍රහස්පති ග්‍රහයාගේ උපග්‍රහයන් (ල. 2 x 8 = 16)
- 02. (i) A - මහවැලි නදිය B - හන්තාන, උඩවත්ත C - බලන, හුන්නස්ගිරිය (ල. 03)
- (ii) 1 - I වන විමලධර්මසූරිය රජු 2 - 1638 ගිවිසුම 3 - කීර්ති ශ්‍රී රාජසිංහ රජතුමා
4 - රාජාධි රාජසිංහ රජතුමා (ල. 04)
- (iii) දේශීය වෙළඳාම :- මුහුදු බඩ ප්‍රදේශවල නිෂ්පාදන උඩරට අලෙවි කිරීම / උඩරට නිෂ්පාදන මුහුදු බඩ ප්‍රදේශ
වල අලෙවිකිරීම / වෙළඳාමේදී කාසි භාවිතය / උඩරට පහත රට කඩවත් හරහා වෙළඳාම
සිදුවීම.
විදේශීය වෙළඳාම :- ★ රජුගේ ඒකාධිකාරිය යටතේ සිදුවීම
★ මුහුදුබඩ යුරෝපීයන් සමඟ වෙළඳ සම්බන්ධතා පැවැත්වීම. (ල. 04)
- 03. (i) ● දළදා මාලිගය ● ඇම්බැක්කේ දේවාලය ● ලංකා තිලක විහාරය ● හින්දු දේවාල - තුනක් දැක්වීමට (ල. 03)
- (ii) දිග විවාහය :- මනාලිය මනාලයාගේ නිවසට කැන්දාගෙන ගොස් එහි ජීවත් වීම.
බින්න විවාහය :- මනාලයා මනාලියගේ නිවසේ පදිංචි වීම. (ල. 04)
- (iii) (අ) වෙස්සන්තර ජාතකය, දහම්සොඬ ජාතකය, තේලපත්ත ජාතකය
(ආ) දඹුල්ල, දෙගල්දොරුව, දළදා මාලිගය, මුල්ගිරිගල (ල. 04)
- 04. (i) ඉතාලිය - බොලොක්කො, පාදුවා ප්‍රංශය - පැරිස් එංගලන්තය - ඔක්ස්පර්ඩ්, කේම්බ්‍රිජ් (ල. 03)
- (ii) B, D, F, H (ල. 04)
- (iii) වෙළඳාම නිසා ඉතාලියේ වෙළඳ නගර බිහිවීම
එම නගරවල ධනවතුන් බිහිවීම, එම ධනවතුන්ට ධනයන් විවේකයන් තිබූ නිසා කලාත්මක කටයුතු වලට නිරත
වීමට ඉඩකඩ ලැබීම. මෙය පුනරුදයට වෙළඳාමට බලපෑ ආකාරයයි. (ල. 04)
- 05. (i) A - ඩාන්ටේ B - විලියම් ශේක්ස්පියර් C - ඉරාස්මස් (ල. 03)
- (ii) ★ සියල්ලටම වඩා දෙවියන් උසස් යැයි සැලකීම දේවවරම්වාදය වේ. මෙය පුනරුදයට පෙර පැවති සංකල්පයකි.
★ සියල්ලටම වඩා මානවයාගේ කටයුතු උතුම් යැයි යන සංකල්පය ප්‍රබල වීම මානව වාදය වේ. (ල. 04)
- (iii) A - ලියනාඩෝ ඩාවින්චි C - ඩොනෙට්ටෝ
B - මයිකල් ඇන්ජිලෝ D - මයිකල් ඇන්ජිලෝ (ල. 04)
- 06. (i) වටකුරු ආරුක්කු / උස් කුලුණු / අර්ධගෝලාකාර ශිඛර (ල. 03)
- (ii) A - නිකලස් කොපර්නිකස් :- පෘථිවියගෝලාකාර බව
පෘථිවිය හා අනෙක් ග්‍රහ වස්තු සූර්යයා වටා ගමන් කරන බව
B - ජොහැන්නස් කෙප්ලර් :- සෞරග්‍රහ මණ්ඩලයේ සියලු වස්තු සූර්යයා වටා ඉලිප්සාකාරව යන බව (ල. 04)
- (iii) A - විලියම් හාවේ :- මිනිස් සිරුරේ රුධිර සංසරණය පිළිබඳව
B - වෛද්‍ය පැරසල්සස් :- ලෙඩරෝග සැදීමට තුඩුදෙන හේතු හා ඒවාට ප්‍රතිකර්ම (ල. 04)
- 07. (i) ඉරාස්මස්, මාටින් ලූතර්, ජෝන් කැල්වින් (ල. 03)
- (ii) අ: රෙපරමාදුවාදීන්, ප්‍රොතෙස්තන්තුවාදීන් (ල. 02)
- (iii) (1) කිරිගරුඬ (2) ශාන්ත පීතර (3) රෆායෙල්
(4) ★ පියොටා ★ ඩේවිඩ් ★ මෝසෙස් (ල. 03)