

තෙවන වාර පරීක්ෂණය - 9 ශ්‍රේණිය - 2019

Third Term Test - Grade 9 - 2019

නම : තොරතුරු හා සන්නිවේදන තාක්ෂණය කාලය : පැය 01 මි.30යි.

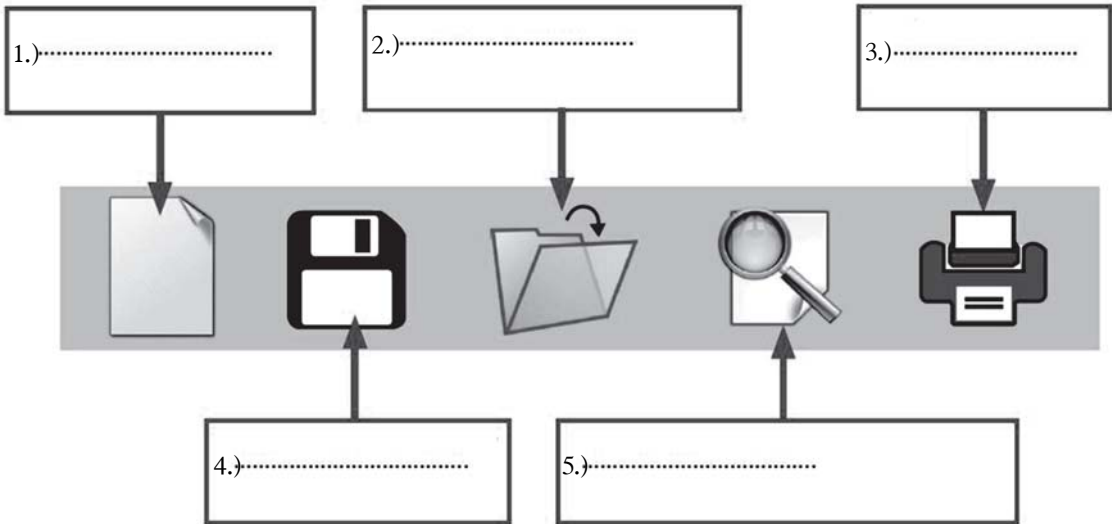
I ප්‍රශ්න සියල්ලටම පිළිතුරු සපයන්න.

01. සුදුසු පරිදි යා කරන්න.

- 01. ක්‍රමලේඛක
- 02. ඡාල පරිපාලක
- 03. පද්ධති විශ්ලේෂක
- 04. වෙබ් සංවර්ධක
- 05. පරිගණක යෙදුම් සහායක

- A වෙබ් අඩවි සැලසුම් කිරීම සහ සංවර්ධනය
- B තොරතුරු පද්ධති සැලසුම් කිරීම
- C යතුරු ලියනය, පරිගණක ආශ්‍රිත නිර්මාණ සහ සංස්කරණය
- D පරිගණක ක්‍රමලේඛ සංවර්ධනය
- E පරිගණක ඡාල පරිපාලනය සහ නඩත්තුව

02. පහත දක්වා ඇති රූපයේ හිස්තැන්වලට අදාළ නිවැරදි ලේඛලය තෝරා ඊට අදාළ ඉංග්‍රීසි අක්ෂරය හිස්තැන මත ලියන්න.



- (A) - ලේඛන මුද්‍රණය කර ගැනීම (Print)
- (B) - ලේඛනයක් තැන්පත් කිරීමට (Save)
- (C) - තැන්පත් කළ ලේඛනයක් විවෘත කිරීමට (Open)
- (D) - ලේඛනයක මුද්‍රණ පෙර දසුන බලා ගැනීමට (Print Preview)
- (E) - නව වැඩපතක් ලබා ගැනීම (New)

03. පහත අසා ඇති ප්‍රශ්න සඳහා සුදුසු පිළිතුරු ලියන්න.

(i) තොරතුරු හා සන්නිවේදන තාක්ෂණයේ දියුණුව නිසා සමාජීය වශයෙන් වෙනස්කම් සිදු වී ඇති ක්ෂේත්‍ර දෙකක් ලියන්න.

(1) (2)

(ii) තාක්ෂණයේ දියුණුවත් සමග සෞඛ්‍ය අංශයේ රෝග හඳුනා ගැනීම සඳහා භාවිතා කරන ඔබ දන්නා උපකරණ දෙකක් ලියන්න.

(1) (2)

(iii) 3R ක්‍රමවේදය හරහා විද්‍යුත් අපද්‍රව්‍ය අවම කළ හැකිය. 3R ක්‍රමවේදයේ කියවෙන සංකල්ප 03 මොනවාද?

(1)
 (2)
 (3)

04. පහත දැක්වෙනුයේ එක්තරා පාසලක සිසුන් පස්දෙනෙකු සතියක කාලයක් තුළ තම මුදල් වියදම් සටහන් කර ඇති පැතුරුම්පත් මාදුකාංගයක කොටසකි. ඒ ඇසුරින් අසා ඇති ප්‍රශ්නවලට පිළිතුරු සපයන්න.

	A	B	C	D	E	F	G	H	I	J
1	අංකය	නම	සඳුදා	අඟරුවාදා	බදාදා	බ්‍රහස්පතින්දා	සිකුරාදා	මුළු වියදම්	සාමාන්‍ය	අවම මුදල
2	1	රනිදු	රු. 25.00	රු. 32.00	රු. 18.00	රු. 20.00	රු. 15.00			
3	2	කවින්	රු. 12.00	රු. 15.00	රු. 20.00	රු. 13.00	රු. 14.00			
4	3	කිසරි	රු. 35.00	රු. 30.00	රු. 15.00	රු. 14.00	රු. 18.00			
5	4	සුමිදු	රු. 41.00	රු. 24.00	රු. 11.00	රු. 16.00	රු. 20.00			
6	5	දසුන්	රු. 21.00	රු. 16.00	රු. 13.00	රු. 20.00	රු. 18.00			
7										

(i) රනිදු සතියේ දින පහ තුළ වියදම් කළ මුළු මුදල H2 කෝෂයට ලබා ගැනීම සඳහා භාවිත කළ යුතු ශ්‍රිතය ලියා දක්වන්න.

(ii) රනිදුගේ මුළු වියදමෙහි සාමාන්‍යය I2 කෝෂයට ලබා ගැනීම සඳහා භාවිත කළ යුතු ශ්‍රිතය ලියා දක්වන්න.

(iii) රනිදු වියදම් කර ඇති අවම මුදල J2 කෝෂයට ලබා ගැනීම සඳහා භාවිත කළ යුතු ශ්‍රිතය ලියා දක්වන්න.

(iv) A7 කෝෂයෙහි = COUNT (A1:A6) යන ශ්‍රිතය ඇතුළත් කළහොත් එහි දිස්වෙන අගය කුමක් ද?


(v) සිසුන් සියලු දෙනා දින පහ තුළ වියදම් කළ මුදල් අගයන් දැක්වීමට සුදුසු ප්‍රස්තාර වර්ග දෙකක් නම් කරන්න.

05. (i) ඔබ දන්නා සංවේදක සහ ක්ෂුද්‍ර පාලක සහිත උපකරණ 3ක් ලියා දක්වන්න.

.....

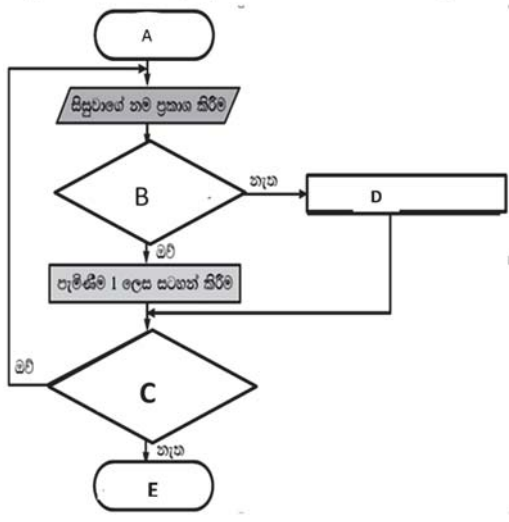
(ii) පහත රූපයේ ඇතුළත් ක්ෂුද්‍ර පාලක පුවරුවේ කොටස් නම් කරන්න. ඒ සඳහා දී ඇති පද ලැයිස්තුවට යොදා ඇති අංකය භාවිත කරන්න.

- | | |
|---------------------|-------------------|
| 1. ATMEGA 328p | 4. විදුලි කුඩු |
| 2. MINI USB | 5. විදුලි නියාමකය |
| 3. DC විදුලි සැපයුම | |



06. ශිෂ්‍ය නාම ලේඛනය ලකුණු කිරීම සලකන්න. මෙහි දී සිසුවා පැමිණ සිටී නම් නාමලේඛනය 1 ලෙසද, පැමිණ නොසිටී නම් 0 ලෙසද, සටහන් කිරීමට අදාළ අසම්පූර්ණ ගැලීම් සටහන පහත වරහන් තුළ දී ඇති පද අතරින් තෝරා හිස්තැන් පුරවන්න.

(අවසානය, ප්‍රකාශ කිරීමට තවත් නම් තිබේද?, ආරම්භය, පැමිණීම 0 ලෙස සටහන් කිරීම, සිසුවා පැමිණ සිටී ද?)



- A
- B
- C
- D
- E

07. පහත A තීරුවේ දක්වා ඇති ප්‍රකාශයන්ට වඩාත් ගැලපෙන රූපය B තීරුවෙන් තෝරා යා කරන්න.

A

B

(i) මහසුරුව (Router)



(ii) ස්විචය (Switch)



(iii) RJ 45 කේබලය



(iv) සේවාදායකය (Server)



(v) ජාලකරණ අතුරු මුහුණත් කාඩ්පත (NIC)



08. දී ඇති පද අතරින් සුදුසුම පද භාවිත කර හිස්තැන් පුරවන්න.

දෘඪ තැටිය, වගකීම, ද්විතීක මතකය, වේගය, පරිගණක තිරය, ධාරිතාවය, කෙවෙති

- (i) සකසනයේ මනිනු ලබන්නේ තත්පරයකට ක්‍රියාත්මක කෙරෙන උපදෙස් සංඛ්‍යාව මගිනි.
- (ii) පරිගණකයේ ප්‍රධානතම ප්‍රතිදාන උපාංගය වේ.
- (iii) ප්‍රධාන මතකයේ මෙගා බයිට් (MB) හෝ ගිගා බයිට් (GB) යන ඒකකවලින් දක්වනු ලැබේ.
- (iv) පරිගණක යන්ත්‍රයක් මිලදී ගන්නා විට ලබා දෙන සලකා බැලිය යුතු වැදගත් සාධකයකි.
- (v) පරිගණකයකට පර්යන්ත උපාංග සම්බන්ධ කිරීම හරහා සිදුවේ.

