


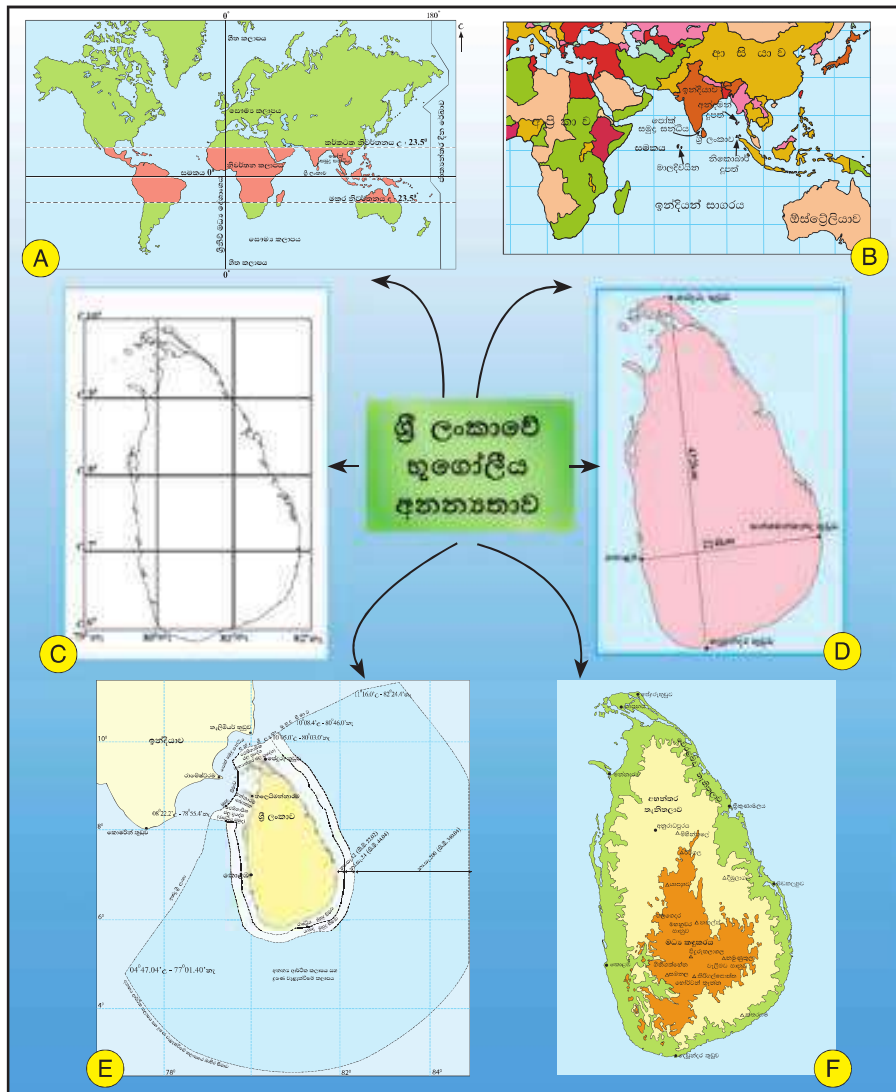
# 02 ශ්‍රී ලංකාවේ අනන්‍යතාව

ශ්‍රී ලංකාවේ භූගෝලීය හා සමාජයීය අනන්‍යතාව  
පිළිබඳ ව අධ්‍යයනය කිරීම මෙම පරිච්ඡේදයේ අරමුණ වේ.





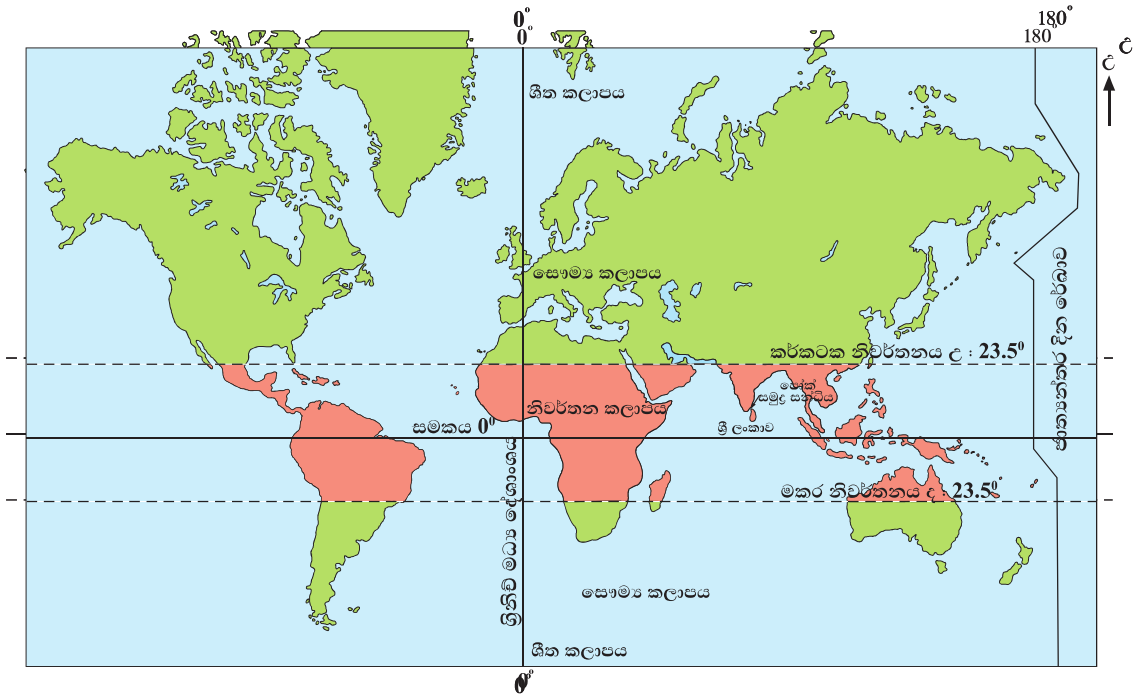
ඕනෑම පුද්ගලයකුට තමාගේ දේහ ලක්ෂණ හා චරිත ලක්ෂණ අනුව සුවිශේෂ වූ අන්‍යන්‍යතාවක් පවතී. එම අන්‍යන්‍යතාව අනුව සමූහයක් අතුරෙන් පුද්ගලයකු වෙන් කර හඳුනාගැනීමේ හැකියාව ඇත. ඒ අයුරින් ම රටකට ද සුවිශේෂ වූ අන්‍යන්‍යතාවක් පවතී.



2.1 රූපය - ශ්‍රී ලංකාවේ භූගෝලීය අන්‍යන්‍යතාව

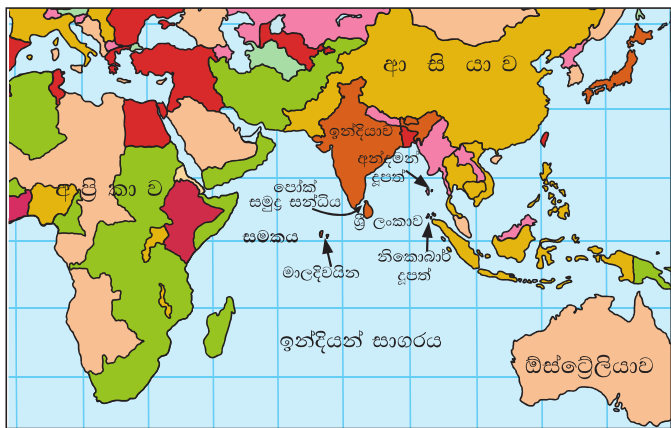
### භූගෝලීය අන්‍යෝන්‍යතාව

2.1 රූපය අධ්‍යයනය කිරීමෙන් ශ්‍රී ලංකාවේ භූගෝලීය අන්‍යෝන්‍යතාව පැහැදිලි වේ. 2.1 A සිතියමෙහි දක්වා ඇති පරිදි ශ්‍රී ලංකාව, කර්කටක නිවර්තනයත් මකර නිවර්තනයත් අතර නිවර්තන කලාපයෙහි සමකයට ආසන්න ව පිහිටා ඇත. ශ්‍රී ලංකාව ඉන්දියාවෙන් වෙන් වන්නේ ඉතා පටු නොගැඹුරු මුහුදු තීරයකිනි. එය පෝක් සමුද්‍ර සන්ධිය ලෙස හැඳින්වේ.



2.1 A සිතියම - ශ්‍රී ලංකාවේ පිහිටීම

ආසන්න වටපිටාවෙහි ඇති ගොඩබිම්, සාගර යනාදිය පදනම් කර ගෙන යම්කිසි රටක පිහිටීම දැක්වීම, සාපේක්ෂ පිහිටීම ලෙස හැඳින්වේ. 2.1 B සිතියම නිරීක්ෂණය කොට ශ්‍රී ලංකාවේ සාපේක්ෂ පිහිටීම හඳුනාගන්න. දූපතක් වූ ශ්‍රී ලංකාව, ඉන්දියන් සාගරයේ ඉන්දිය උප මහාද්වීපයට ආසන්න ව, ඉන්දියාවෙන් වෙන් ව පිහිටා ඇත. ශ්‍රී ලංකාව හැරුණු විට ඉන්දියන් සාගරය තුළ පිහිටා ඇති තවත් දූපත් ලෙස මාලදිවයින, අන්දමන් දූපත්, නිකොබාර් දූපත්, ලක්ෂද්වීප දූපත් ආදිය දැක්විය හැකි ය.



2.1 B සිතියම - ශ්‍රී ලංකාවේ සාපේක්ෂ පිහිටීම

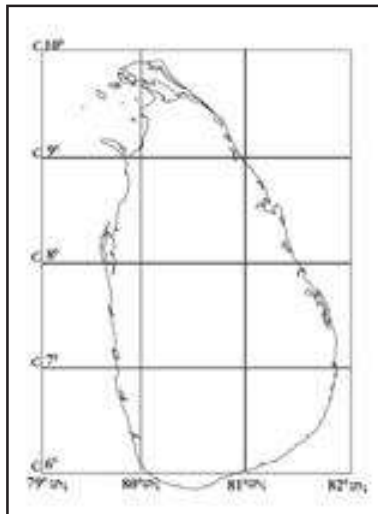


### ක්‍රියාකාරකම්



හිස්තැන් සම්පූර්ණ කරන්න.

01. ශ්‍රී ලංකාවට උතුරින් ..... මහාද්වීපය ද, දකුණින් ..... සාගරය ද, නැගෙනහිරින් ..... රටවල් ද, බටහිරින් ..... මහාද්වීපය ද පිහිටා ඇත.
02. ශ්‍රී ලංකාවේ වයඹ දිශාවේ පිහිටි දූපත් තුනක් නම් කර ඒවා ශ්‍රී ලංකා ආකෘති සිතියමක ලකුණු කරන්න.
03. ශ්‍රී ලංකාව ඉන්දියාවට ආසන්න ව පිහිටීම නිසා ලැබී ඇති වාසි තුනක් ලියන්න.



2.1 C සිතියම - ශ්‍රී ලංකාවේ නිරපේක්ෂ පිහිටීම  
 මූලාශ්‍රය : [global.britannica.com](http://global.britannica.com) 2015/03/13

අක්ෂාංශ හා දේශාංශ අනුව රටක පිහිටීම දැක්වීම නිරපේක්ෂ පිහිටීම ලෙස හැඳින්වේ. 2.1 C සිතියම මගින් ශ්‍රී ලංකාවේ නිරපේක්ෂ පිහිටීම දැක්වේ. ඒ අනුව ශ්‍රී ලංකාව උතුරු අක්ෂාංශ 5°55' - 9°51' අතර ද, නැගෙනහිර දේශාංශ 79°41' - 81°53' අතර ද පිහිටා ඇත. ([global.britannica.com](http://global.britannica.com) 2015/03/13)

**ශ්‍රී ලංකාවේ මුළු භූමියෙහි වර්ග ප්‍රමාණය 65610km<sup>2</sup>කි.**



2.1 D සිතියම - ශ්‍රී ලංකාවේ විශාලත්වය  
 මූලාශ්‍රය : [global.britannica.com](http://global.britannica.com) 2015/03/13

### ක්‍රියාකාරකම්



ශ්‍රී ලංකාවේ විශාලත්වය දැක්වෙන 2.1.D සිතියම නිරීක්ෂණය කොට හිස්තැන් සම්පූර්ණ කරන්න.

ශ්‍රී ලංකාවේ දෙවුන්දර තුඩුවේ සිට ..... තුඩුව දක්වා දිග ..... කි. .... සිට සංගමන්කන්ද තුඩුව දක්වා පළල .....කි.



2.1 E සිතියම - ශ්‍රී ලංකාවේ මුහුදු සීමා කලාප

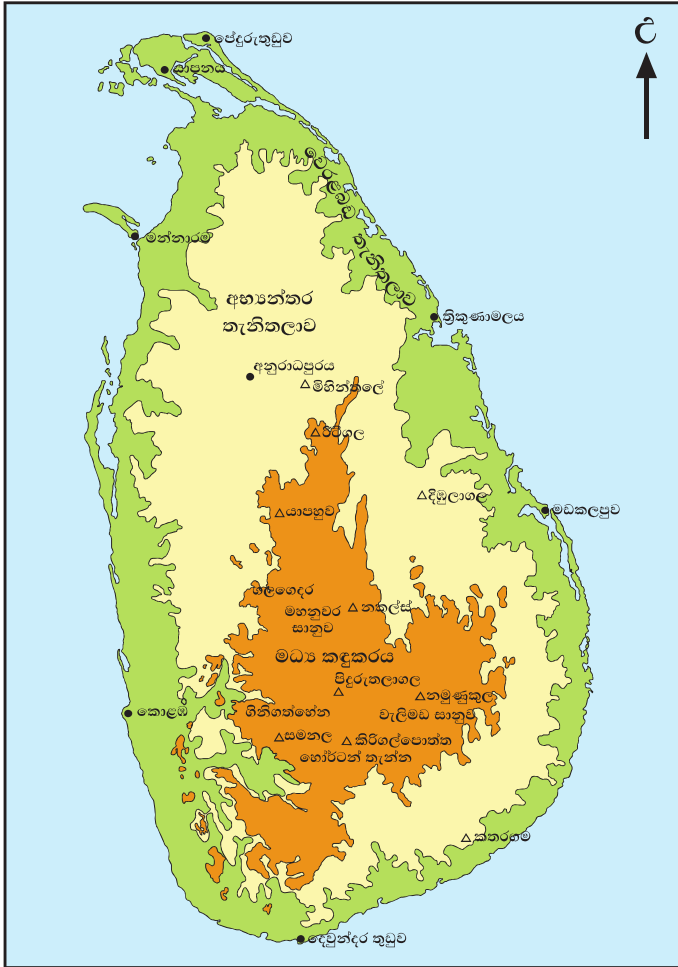
ශ්‍රී ලංකාවට අන්‍යන්තර වූ දේශ සීමාවක් සහ මුහුදු සීමාවක් ද පවතී. 1994 නොවැම්බර් මස 16 වන දින සිට ක්‍රියාත්මක වූ අන්තර්ජාතික සාගර නීතියට අනුව ලෝකයේ සෑම වෙරළබඩ රාජ්‍යයකට ම වෙරළ මායිමේ සිට නාවික සැතපුම් 12 සීමාවක අයිතිය උරුම කර දෙන ලදී. එය "රාජ්‍යයේ මුහුදු සීමාව" ලෙස හැඳින්වේ. ඊට පිටතින් යාබද මුහුදු හා අන්‍යන්තර ආර්ථික කලාපය පිහිටා ඇත (2.1 E සිතියම).

ශ්‍රී ලංකාව, කුඩා දූපතක් වුව ද ඉතා සුවිශේෂී

වූ භූ විෂමතාවකින් යුක්ත ය. රට මධ්‍යයේ පිහිටි කඳුකරය, ඒ වටා පිහිටි අභ්‍යන්තර තැනිතලාව හා වෙරළබඩ තැනිතලාව, දිවයිනේ ප්‍රධාන භූ විෂමතා කලාප තුනකි. මේ එකිනෙක කලාපවල එකිනෙකට වෙනස් වූ සංකීර්ණ විෂමතා ලක්ෂණ දක්නට ලැබේ.

2.1 වගුව - භූ විෂමතා ලක්ෂණ

මධ්‍ය කඳුකරය (උස මීටර 300ට වැඩි)	අභ්‍යන්තර තැනිතලාව (මීටර 30-300 දක්වා)	වෙරළබඩ තැනිතලාව (මීටර 30ට අඩු)
කඳුවැටි	ශේෂ කඳු	පුළුල් තැනිතලා
සානු	හෙල්වැටි	බොකු
නිම්න	තැනිතලා	කලපු
දියඇලි		තුඩු
කපොලු		දූපත්



2.1 F සිතියම - ශ්‍රී ලංකාවේ ප්‍රධාන භූ විෂමතා කලාප

මෙවැනි භූ විෂමතාවකින් සමන්විත ශ්‍රී ලංකාවේ ස්වාභාවික සෞන්දර්ය සහ හිතකර දේශගුණය, අප රටෙහි භූගෝලීය අනන්‍යතාව තවදුරටත් තහවුරු වීමට හේතු වී තිබේ. ශ්‍රී ලංකාවේ පවතින භූ විෂමතාව හා දේශගුණික විවිධත්වය සංචාරක ආකර්ෂණය දිනා ගැනීමට ද සමත් වී ඇත. 2.1 F සිතියමෙන් ශ්‍රී ලංකාවේ ප්‍රධාන භූ විෂමතා කලාප දැක්වේ.

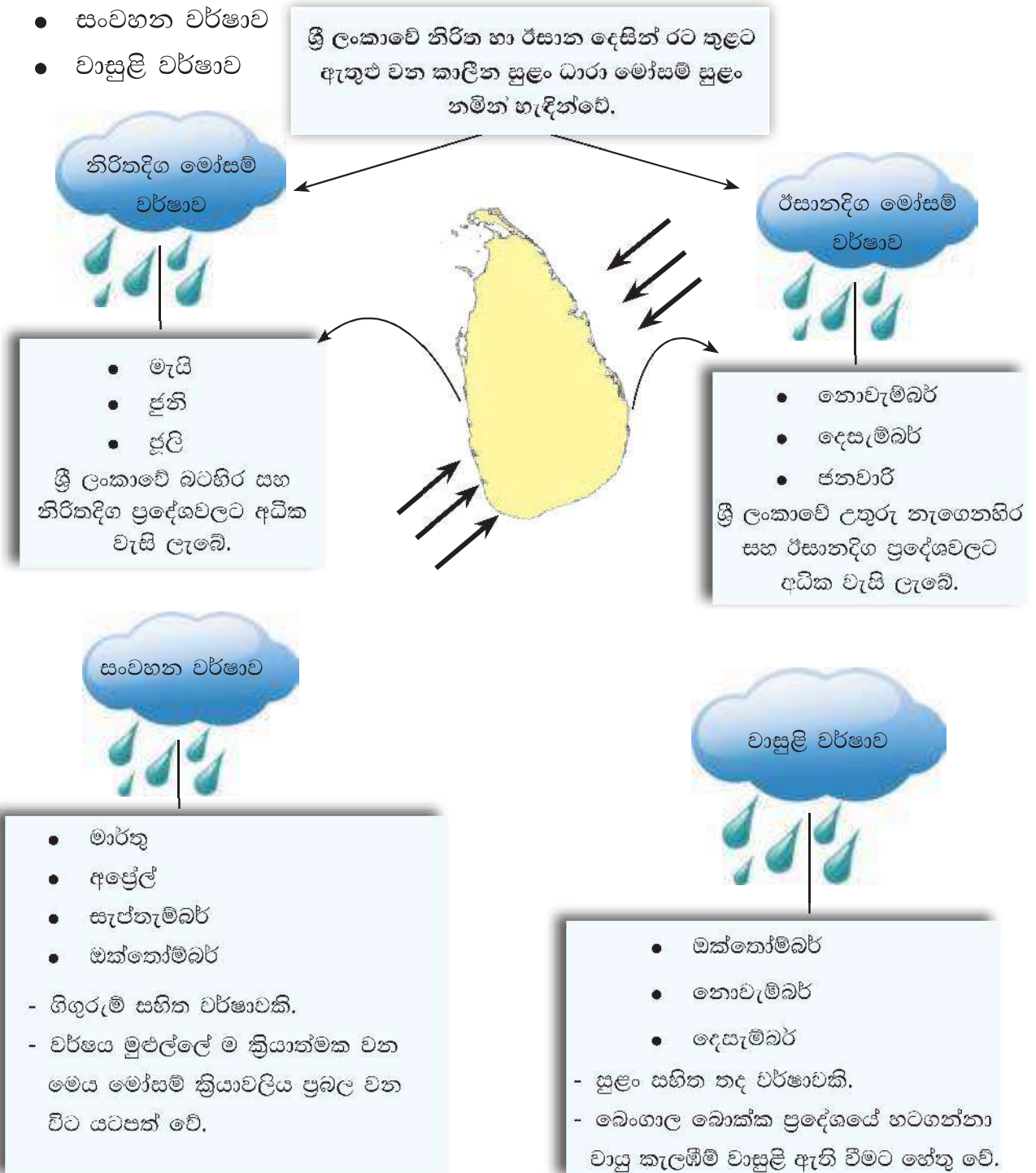
### ක්‍රියාකාරකම්



01. I. ශ්‍රී ලංකා ආකෘති සිතියමක ප්‍රධාන භූ විෂමතා කලාප තුන ඇඳ නම් කරන්න.
- II. සිතියම් පොතක් අධ්‍යයනය කර, මධ්‍ය කඳුකරයේ පිහිටි ප්‍රධාන කඳු පද්ධති, සානු, දියඇලි දෙක බැගින් ඔබ අදින ලද සිතියමෙහි ලකුණු කර නම් කරන්න.
- III. අභ්‍යන්තර තැනිතලාවේ පිහිටි ශේෂ කඳු තුනක් සහ වෙරළබඩ තැනිතලාවේ පිහිටි පේදුරු තුඩුව, දෙවුන්දර තුඩුව, කොළඹ, ත්‍රිකුණාමලය, මඩකලපුව යන ස්ථාන ද ලකුණු කර නම් කරන්න.
02. දිවයිනේ ස්වාභාවික සෞන්දර්ය විදහා දක්වන භූ විෂමතා ලක්ෂණ තුනක් නම් කරන්න.

ශ්‍රී ලංකාව, නිවර්තන කලාපයෙහි පිහිටි රටකි. එබැවින් වාර්ෂික ව 27°C-30°C පමණ ඉහළ උෂ්ණත්වයක් පවතී. ශීත සෘතුවක් දක්නට නොලැබේ. දූපතක් වූ ශ්‍රී ලංකාවට වර්ෂය මුළුල්ලේ ම පැතිරුණු වර්ෂාපතනයක් ලැබේ. වර්ෂාපතනය ලැබෙන ප්‍රධාන ක්‍රම තුනකි. එනම්,


- මෝසම් වර්ෂාව
- සංවහන වර්ෂාව
- වාසුළු වර්ෂාව





පෙබරවාරි සහ අගෝස්තු මාසවල දී ශ්‍රී ලංකාවට සාමාන්‍යයෙන් වියළි කාලගුණයක් පවතී. කුඹුරුවල වී අස්වනු නෙළීම සිදු වන්නේ මේ කාලයේ දී ය.

වර්ෂය පුරා පැතිර පවත්නා අධික වර්ෂාපතනය හා උෂ්ණත්වය හේතුවෙන් ගෙන දිවයිනේ තෙත් ප්‍රදේශවල වනාන්තර ආශ්‍රිත ව උසින් වැඩි ශාක ව්‍යාප්ත ව පවතී. වර්ෂාපතනය, උෂ්ණත්වය මෙන් ම උච්චත්වයේ වෙනස්කම් හේතුවෙන් ගෙන කඳුකර ප්‍රදේශවල උසින් අඩු ශාක ද, සානු ප්‍රදේශ ආශ්‍රිත ව පතන හා තෘණ තලාවන් ද දැකිය හැකි ය. වියළි දේශගුණයක් පවතින වියළි හා අර්ධ ශුෂ්ක ප්‍රදේශවල කටු පඳුරු සහිත වන ලැහැබ් ද වෙරළාශ්‍රිත කලපු සහ ගංගා මෝයවල කඩොලාන ශාක ද දක්නට ලැබේ.



2.2 රූපය - ශ්‍රී ලංකාවේ විවිධ ප්‍රදේශවල වැවෙන ශාකවල ස්වභාවය

ශ්‍රී ලංකාවේ වෙරළාශ්‍රිත ප්‍රදේශයක සිට රට තුළට ගමන් කරන සංචාරකයකුට 70kmක් වැනි කෙටි දුරක දී භූ විෂමතාව, දේශගුණය හා වන වැස්මේ විවිධත්වය දැකගත හැකි වනවා මෙන් ම එහි සුන්දරත්වය ද අත්විඳිය හැකි ය.

### ක්‍රියාකාරකම




හිස්තැන් සම්පූර්ණ කරන්න.

ශ්‍රී ලංකාව ..... කලාපයේ පිහිටි රටකි. එබැවින් ..... ක පමණ ඉහළ උෂ්ණත්වයක් පවතී. වර්ෂය මුළුල්ලේ ම වාගේ ....., ..... සහ ..... යන ක්‍රමවලින් වර්ෂාපතනය ලැබීම ද විශේෂත්වයකි. වර්ෂාපතනය ..... හා ..... වෙනස්කම් නිසා එක් එක් ප්‍රදේශවල දක්නට ලැබෙන ශාකවල විවිධත්වයක් පවතී.



### සමාජයීය අන්‍යන්‍යතාව



2.3 රූපය - ශ්‍රී ලංකාවේ සමාජයීය අන්‍යන්‍යතාව

### ජන සමාජය

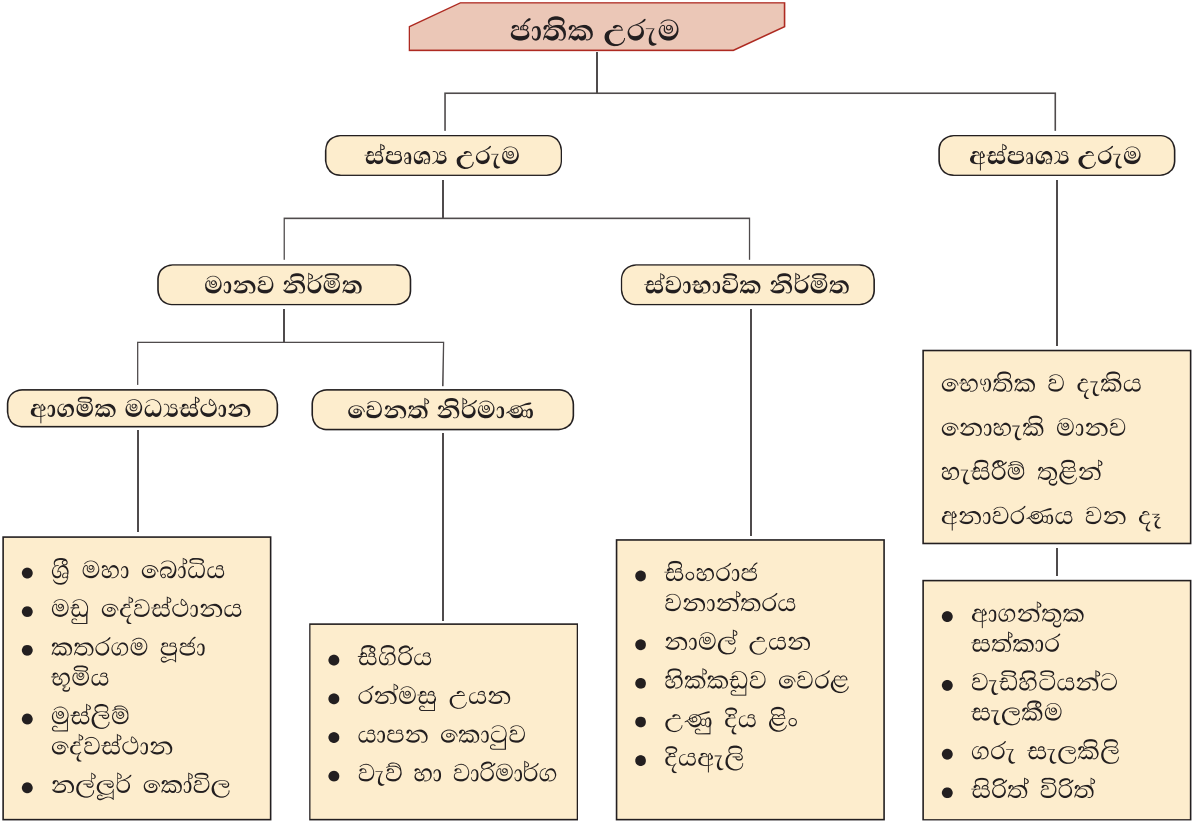
ශ්‍රී ලංකාවේ ජන සමාජය, සිංහල, දෙමළ, මුස්ලිම්, බර්ගර් වැනි විවිධ ජන වර්ගවලින් ද බෞද්ධ, හින්දු, ඉස්ලාම්, ක්‍රිස්තියානි වැනි විවිධ ආගම් අදහන අයගෙන් ද සමන්විත ය. එබැවින් බහු වාර්ගික සහ බහු ආගමික සංස්කෘතියක් ඇති රටක් ලෙස ශ්‍රී ලංකාව හැඳින්වේ. ඔවුනොවුන් විසින් උරුම කර ගත් සම්ප්‍රදායන්, සිරිත් විරිත්, ඇඳහිලි, පුද සිරිත්, ඇඳුම් පැළඳුම් හා භාෂාව අනුව සමාජයීය අන්‍යන්‍යතාවක් ගොඩනගා ගෙන ඇත.

නොමිලේ බෙදා හැරීම සඳහා ය

ශ්‍රී ලංකාව තුළ ජීවත් වන බහු වාර්ගික හා බහු ආගමික පිරිසක් වන අපි සියලු දෙනා ම ලක්වැසියෝ වෙමු.

**ජාතික උරුම**

බහු වාර්ගික හා බහු ආගමික ජන සමාජයක් ලෙස පැවත එන ශ්‍රී ලංකාවේ, විවිධ ජාතික උරුම මෙන් ම විවිධ සංස්කෘතිකාංග ද දක්නට ලැබේ. ජාතික උරුම මගින් ද රටක අනන්‍යතාව විදහා දැක්වේ. ජාතික උරුම පහත දැක්වෙන පරිදි වෙන් කර හඳුනාගත හැකි ය.



අනු අතීතයේ සිට ම ලක්වැසි ජනතාව ආගන්තුක සත්කාරයට කැමති ජාතියක් බව පෙර අපර දෙදිග රටවල් අතර ප්‍රසිද්ධ ය.

2.2 සිතියමෙන් ශ්‍රී ලංකාවේ ජාතික උරුම දැක්වේ.





2.2 සිතියම - ශ්‍රී ලංකාවේ ජාතික උරුම



### ලෝක උරුම

ශ්‍රී ලංකාව සතු ජාතික උරුමයන්ගේ සුවිශේෂී බව නිසා ඇතැම් ජාතික උරුම, ජාත්‍යන්තර වශයෙන් ලෝක උරුම ලෙස පිළිගෙන ඇත. එබැවින් ගෝලීය වශයෙන් ද සුවිශේෂ වූ අන්‍යන්‍යතාවක් ශ්‍රී ලංකාවට හිමි ව තිබේ. විදේශීය සංචාරක ආකර්ෂණය දිනාගෙන ඇති ශ්‍රී ලංකාව, පෙරදිග රටවල් අතර සංචාරක කේන්ද්‍රයක් මෙන් ම ගමනාන්තයක් බවට ද පත් ව ඇත. මෙම ලෝක උරුම මානව නිර්මිත හා ස්වාභාවික නිර්මිත වශයෙන් බෙදා දැක්විය හැකි ය.



### ආදිවාසී ජනතාව

- ශ්‍රී ලංකාවේ සමාජයීය අන්‍යන්‍යතාව පිළිබඳ ව සලකා බැලීමේ දී විවිධ ප්‍රදේශවල ජීවත්වන ආදිවාසීන් ද අප රටට සුවිශේෂත්වයක් ගෙන දේ. මහියංගනය, දඹාන, හෙන්නානිගල වැනි ප්‍රදේශවල වාසය කරන ඔවුහු තමන්ට ආවේණික වූ භාෂාව, සිරිත් විරිත්, ඇඳුම් පැළඳුම්, මෙවලම් හා සංස්කෘතික අංග යනාදිය රැක ගනිමින් දිවි ගෙවති. පරිසරයට අනුවර්තනය වෙමින් කරනු ලබන හෝග වගාව, දඩයම් කිරීම සහ වනඳුවා එක්රැස් කිරීම ඔවුන්ගේ ජීවනෝපාය මාර්ග වේ.
- වියළි කලාපය සංවර්ධන ක්‍රියාවලියේ දී මහවැලි ගොවි ජනපදයක් වන හෙන්නානිගල ආශ්‍රිත ව පදිංචි කරන ලද ආදිවාසී ජනතාව, මේ වන විට විධිමත් පාසල් අධ්‍යාපනයේ නිරත වන, උසස් අධ්‍යාපනයට ප්‍රවේශ වන හා නවීන විද්‍යුත් මෙවලම් භාවිත කරමින් නූතන ජන සමාජයට අනුවර්තනය වන ජන කොටසක් බවට පත් ව ඇත. එසේ වුවද පැරණි සංස්කෘතික උරුම ආරක්ෂා කිරීමට මෙන් ම පරිසර සංරක්ෂණයට ද ඔවුන් ලබා දෙන දායකත්වය අගය කළ යුතු ය.

### සංස්කෘතිකාංග සහ උත්සව

- ශ්‍රී ලාංකික ජන සමාජයේ විවිධ ජාතීන්, ආගම් සහ ජන ගෝත්‍රවලින් උරුම වූ විවිධ සංස්කෘතිකාංග සහ විවිධ උත්සව යනාදියෙහි ද, අන්‍යෝන්‍යතාවක් පවතී. එවැනි අන්‍යෝන්‍යතාවක් සහිත සංස්කෘතික උත්සව සහ සංස්කෘතිකාංග කිහිපයක් පහත දැක්වේ.

වෙසක්/ පොසොන් උත්සවය

මහනුවර දළඳා පෙරහැර

මඩු මංගල්‍ය උත්සවය

සිංහල දෙමළ අලුත් අවුරුදු උත්සවය

දීපාවලි උත්සවය

නත්තල් උත්සවය

රාමසාන් උත්සවය

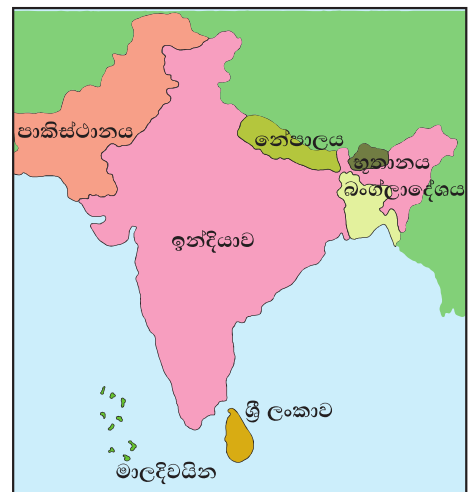
### ක්‍රියාකාරකම්



01. ශ්‍රී ලාංකිකයන් සතු ස්පෘශ්‍ය උරුම අතරින් මානව නිර්මිත හා ස්වාභාවික නිර්මිත පහ බැගින් ලියා දක්වන්න.
02. ශ්‍රී ලංකාවේ ජාත්‍යන්තර පිළිගැනීමට පත් ලෝක උරුම ඇතුළත් කරමින් පින්තූර පුවරුවක් සකස් කර ඔබේ පන්ති කාමරයෙහි ප්‍රදර්ශනය කරන්න.
03. විවිධ ජාතික හා ආගමික උත්සව ඇතුළත් පින්තූර පොතක් සකස් කරන්න.

### සමාජ සංවර්ධනය

ශ්‍රී ලංකාව, දකුණු ආසියානු කලාපයට අයත් රටකි. (2.3 සිතියම) මෙම කලාපයේ රටවල් අතර ඉහළ සමාජයීය සංවර්ධනයක් ඇති රටක් ලෙස ශ්‍රී ලංකාව හඳුනාගත හැකි ය.



2.3 සිතියම - දකුණු ආසියානු කලාපය

විවිධ මිනුම් හා නිර්ණායක පදනම් කර ගනිමින් රටවල සමාජ සංවර්ධන මට්ටම් හඳුනාගෙන ඇත. 2.2 වගුවේ දැක්වෙන්නේ දකුණු ආසියානු කලාපීය රටවල්වල ක්ෂේත්‍ර කිහිපයක සමාජ සංවර්ධනය සසඳා බැලිය හැකි දත්ත සමූහයකි.

2.2 වගුව - දකුණු ආසියාතික රටවල සමාජ සංවර්ධන දත්ත

රට සමාජ සංවර්ධන දත්ත	ඉන්දියාව	පාකිස්තානය	බංග්ලාදේශය	නේපාලය	ශ්‍රී ලංකාව	භූතානය	මාලදිවයින
ආයු අපේක්ෂාව (අවු) (2012)	65.8	65.7	69.2	69.1	75.1	67.6	77.1
සාක්ෂරතාව % අවු.15 සහ ඉහළ (2010)	(2006) 63	(2009) 54.5	56.75	60.65	92	ෆැබ් නැත	(2006) 98
උපත් අනුපාතිකය 1000ට (2010)	22.2	27.3	20.3	24.1	17.6	20.4	16.8
ළදරු මරණ අනුපාතිකය සජීවී උපත් 1000ට (2010)	48	70	38	41	14	44	14
මාතෘ මරණ අනුපාතිකය 1000 ට (2010)	200	260	240	170	35	180	60

මූලාශ්‍රය : ශ්‍රී ලංකා සමාජ ආර්ථික දත්ත - 2014

ශ්‍රී ලංකාවේ සාක්ෂරතාව 92% කි. එය සෙසු දකුණු ආසියානු රටවල් අතුරෙන් දෙවැනි වන්නේ මාලදිවයිනට පමණි.

ශ්‍රී ලංකාව ආර්ථික වශයෙන් සංවර්ධනය වන රටක් වුව ද සමාජයීය සංවර්ධනය අතින් ඉහළ මට්ටමක් හිමි කර ගෙන ඇත. ඊට බලපා ඇති සාධක කිහිපයක් මතු දැක්වේ.



පෝෂ්‍යදායී  
ආහාර වේලක් ලබා ගත  
හැකි වීම



- ලෙඩ රෝගවලට ඔරොත්තු දීමේ ශක්තිය වැඩි වීම
- කායික හා මානසික පෝෂණය වැඩි වීම.
- ආයු අපේක්ෂාව වැඩිදියුණු වීම.

වෛද්‍ය හා සෞඛ්‍ය  
ක්ෂේත්‍රයේ පහසුකම්  
වැඩිදියුණු වීම



- ආයු අපේක්ෂාව වැඩි වීම
- ළදරු මරණ අඩු වීම
- මාතෘ මරණ අඩු වීම

අධ්‍යාපන පහසුකම්  
වැඩිදියුණු වීම



- සාක්ෂරතාව වැඩිදියුණු වීම
- ජීවන මට්ටම් ඉහළ යාම
- හොඳ රැකියා අවස්ථා ඇති වීම
- සෞඛ්‍ය සම්පන්න ජීවිතයක් ගත කිරීමට පෙළඹීම
- යහපත් ආකල්ප ඇති වීම

ශ්‍රී ලංකාවේ සමාජ සංවර්ධනය උසස් මට්ටමක පැවතීම කෙරෙහි ඉහත දැක්වෙන සාධක මෙන් ම අධ්‍යාපන හා සෞඛ්‍ය පහසුකම් නොමිලේ ලබා දීම වැනි රාජ්‍ය සුභසාධන ප්‍රතිපත්ති ද බලපා ඇත.



**ක්‍රියාකාරකම්**

01. දේශපාලන බෙදීම් සහිත සිතියමකින් දකුණු ආසියානු කලාපයට අයත් රටවල් ලකුණු කර කපා වෙන් කරන්න. එම කැබලි කඩදාසියක නිවැරදි ව අලවා විවිධ වර්ණවලින් පාට කර දකුණු ආසියානු කලාපීය රටවල් නම් කර දක්වන්න.

- 02. එම සිතියම අධ්‍යයනය කොට ශ්‍රී ලංකාවේ පිහිටීම පිළිබඳ ව වාක්‍ය තුනක් ලියන්න.
- 03. 2.2 වගුවට අනුව සාක්ෂරතාව ඉහළ මට්ටමක ඇති රටවල් දෙකක් නම් කරන්න.
- 04. ශ්‍රී ලංකාවේ සාක්ෂරතාව ඉහළ අගයක් ගැනීම කෙරෙහි බලපා ඇති කරුණු තුනක් ලියන්න.
- 05. ජනතාවගේ සාක්ෂරතාව ඉහළ මට්ටමක පැවතීම නිසා රටකට ලබාගත හැකි වාසි තුනක් ලියන්න.
- 06. ශ්‍රී ලංකාවේ ආයු අපේක්ෂාව ඉහළ මට්ටමක පැවතීමට බලපා ඇති හේතු දෙකක් ලියන්න.

පැවරුම



- 01. i. ගුරු උපදෙස් අනුව ශ්‍රී ලංකාවේ ප්‍රධාන භූ විෂමතා කලාප ආවරණය වන පරිදි වාරිකාවක් සැලසුම් කර ගෙන අධ්‍යාපන වාරිකාවක යෙදෙන්න.
- ii. වාරිකාවේ දී ඔබ දුටු භූ විෂමතා ලක්ෂණ, දේශගුණික හා පාරිසරික විවිධත්වය පිළිබඳ ව රචනාවක් ලියන්න.
- iii. ඔබ ලබාගත් අත්දැකීම් පදනම් කර ගෙන ශ්‍රී ලංකාවේ භූගෝලීය අනන්‍යතාව කෙරෙහි බලපා ඇති ස්වාභාවික සෞන්දර්ය අගය කරන්න.
- 02. ඔබ ප්‍රදේශයට වර්ෂාපතනය ලැබෙන ක්‍රම, කාල සීමාව හා එම වර්ෂාවෙහි විශේෂ ලක්ෂණ හඳුනා ගෙන ඒ පිළිබඳ ව වාක්‍ය පහක් ලියන්න.
- 03. ගුරු උපදෙස් ලබා ගනිමින් ඔබ ප්‍රදේශයට ආවේණික ව පවතින ජාතික උරුම සහ සංස්කෘතිකාංග පිළිබඳ තොරතුරු රැස් කර ගොනුවක් සකස් කරන්න.
- 04. සාක්ෂරතාව සහ ආයු අපේක්ෂාව වැඩි කර ගැනීම සඳහා මහජනතාව දැනුවත් කළ හැකි ආකාරයේ පත්‍රිකාවක් සකස් කරන්න.

### ආශ්‍රිත ග්‍රන්ථ සහ මූලාශ්‍ර

- ශ්‍රී ලංකා සමාජ ආර්ථික දත්ත (2014), මහ බැංකු වාර්තාව.
- [global.britannica.com/EB checked/topic/561906/Sri-Lanka](http://global.britannica.com/EBchecked/topic/561906/Sri-Lanka)
- [www.wikipedia.lk](http://www.wikipedia.lk)

### පාරිභාෂික වචන

අන්‍යතාව	Identity	තනිத்துවම
භූගෝලීය අන්‍යතාව	Geographical identity	පுவිධියල් තනිத்துවම
සමාජීය අන්‍යතාව	Social identity	සමූහත් තනිத்துවම
සමුද්‍ර සන්ධිය	Strait	සමුත්තිර නීරිභේ
සාපේක්ෂ පිහිටීම	Relative location	සාර්පු අමෙව්ඩම
නිරපේක්ෂ පිහිටීම	Specific location	තනි අමෙව්ඩම
නාවික සැතපුම්	Nautical miles	කදල් මෙමල්
අන්‍ය ආර්ථික කලාපය	Exclusive Economic Zone	පිරත්තියෙක පෙරුභාතාර වලයම
රාජ්‍යීය මුහුදු සීමාව	Territorial sea limit	ඉභ්පුල කදල් ංල්ලේ
ස්වාභාවික සෞන්දර්ය	Natural beauty	ඹයර්කේ අමුරු
දේශගුණික විවිධත්වය	Climatic diversity	කාලනිලේප් පල්වකේමේ
සංචාරක ආකර්ෂණය	Tourist attraction	සර්ණුලාක් කවර්සි
අභ්‍යන්තර තැනිතලාව	Intermediate plain	ඉභ්භක සමවෙභි
ශීත සෘතුව	Winter	මාරි
වර්ෂාපතනය	Rainfall	මමේවීම්ප්පි
මෝසම් වර්ෂාව	Monsoon rain	පරුවකකාර්ණු මමේ
සංවහන වර්ෂාව	Convictional rain	මේර්කාචුකේ මමේ
වාසුළිය	Cyclone	ඉරාවභිකභ්



වායු කැලඹීම	Air disturbance	වளி අඝ්‍රමය
සදාහරිත වනාන්තර	Evergreen forests	என்றும் பசுமையான காடுகள்
උන්නතාංශය	Altitude	குத்துயரம்
ශුෂ්ක ප්‍රදේශ	Arid areas	வரண்ட பகுதிகள்
බහු වාර්ගික	Multi-racial	பல்லின
බහු ආගමික	Multi-religious	பல்சமய
සංස්කෘතික උරුම	Cultural heritages	கலாசார மரபுரிமைகள்
ලෝක උරුම	World heritages	உலக மரபுரிமைகள்
ස්පෘශ්‍ය උරුම	Tangible heritages	காணக்கூடிய மரபுரிமைகள்
අස්පෘශ්‍ය උරුම	Intangible heritages	காணமுடியாத மரபுரிமைகள்
සංචාරක කේන්ද්‍රය	Tourist hub	சுற்றுலா மையம்
ගමනාන්තය	Destination	அடைகை
ආදිවාසී ජනතාව	Indigenous people	ஆதிவாசி மக்கள்
දකුණු ආසියානු කලාපය	South Asian region	தென் ஆசியப்பிரதேசம்
ආයු අපේක්ෂාව	Life expectancy	ஆயுள் எதிர்பார்ப்பு
සාක්ෂරතාව	Literacy	எழுத்தறிவு
උපන් අනුපාතිකය	Birth rate	பிறப்பு விகிதம்
ලදරු මරණ අනුපාතිකය	Infant mortality rate	சிசு மரண விகிதம்
මාතෘ මරණ අනුපාතිකය	Maternal mortality rate	பிரவச மரண விகிதம்
සජීවී උපන්	Live births	உயிர் பிறப்புகள்