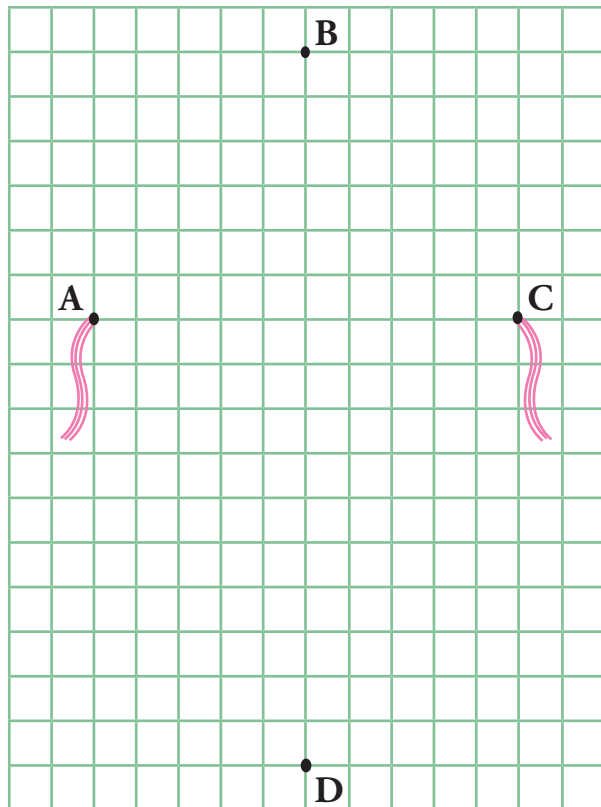


1 කින් යා කරමින් සරල රේඛා අඳින්න.

- (1) A හා B
- (2) B හා C
- (3) C හා D
- (4) D හා A
- (5) A හා C
- (6) B හා D



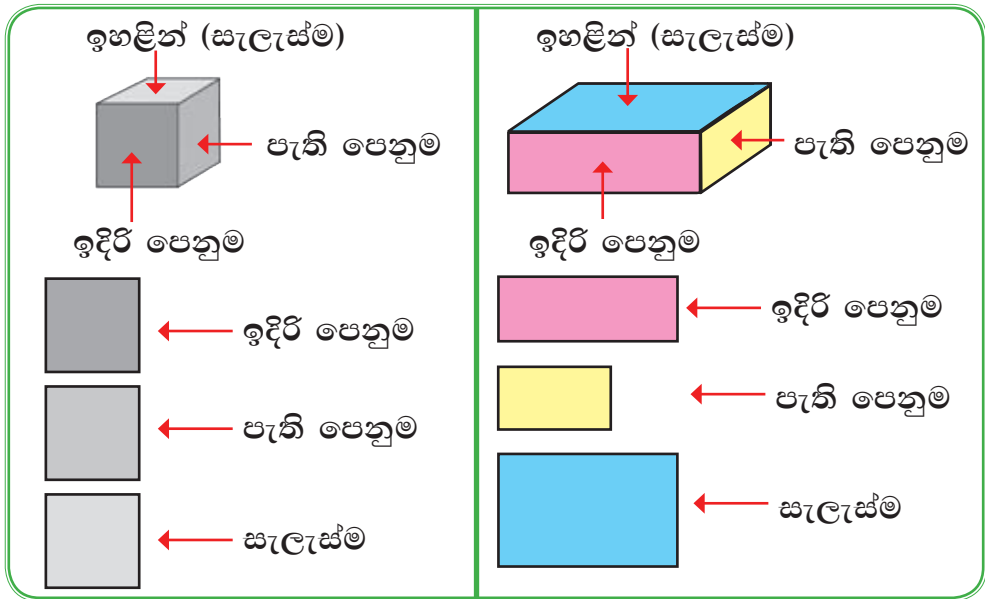
2 කොටු ගණන් කර හැඩ අඳින්න.

- (1) කොටු 4ක් දිග කොටු 4ක් පළල සමචතුරස්‍රයක් අඳින්න.
- (2) කොටු 8ක් දිග කොටු 5ක් පළල සෘජුකෝණාස්‍රයක් අඳින්න.

කොටු ගණන් කරලා හැඩ අඳිමු.

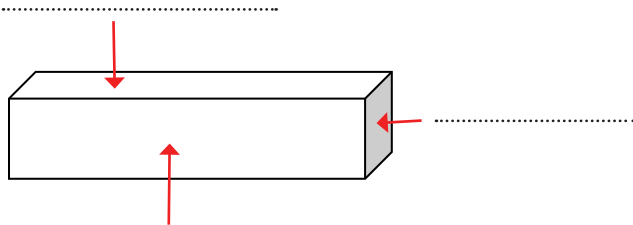


සහ වස්තුවල ඉදිරි පෙනුම, පැති පෙනුම සහ සැලැස්ම හඳුනා ගනිමු.

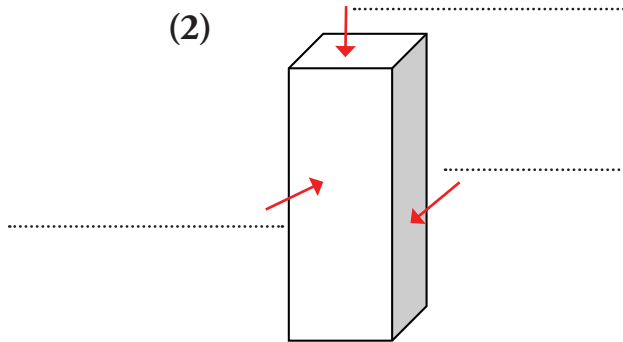


3 පහත සහ වස්තුවල ඉදිරි පෙනුම, පැති පෙනුම සහ සැලැස්ම ඊකලවලට අදාළ හිස්තැන්වල නිවැරදිව ලියන්න.

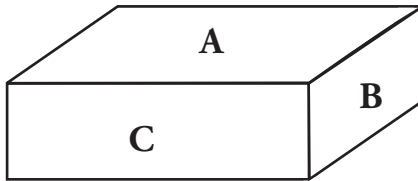
(1)



(2)



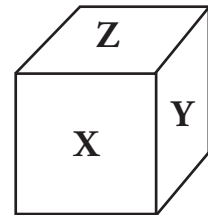
4 රූප බලා ඉදිරි පෙනුම, පැති පෙනුම හා සැලැස්ම දැක්වීමට අදාළ ඉංග්‍රීසි අකුරු වගුවේ ලියන්න.



(1)



(2)



(3)

රූපය	සැලැස්ම	පැති පෙනුම	ඉදිරි පෙනුම
(1)	A		
(2)			
(3)			