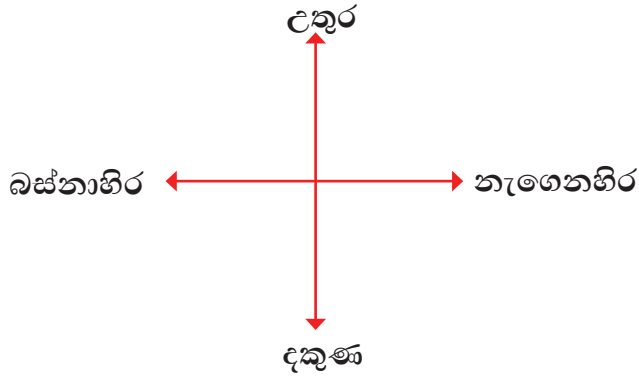
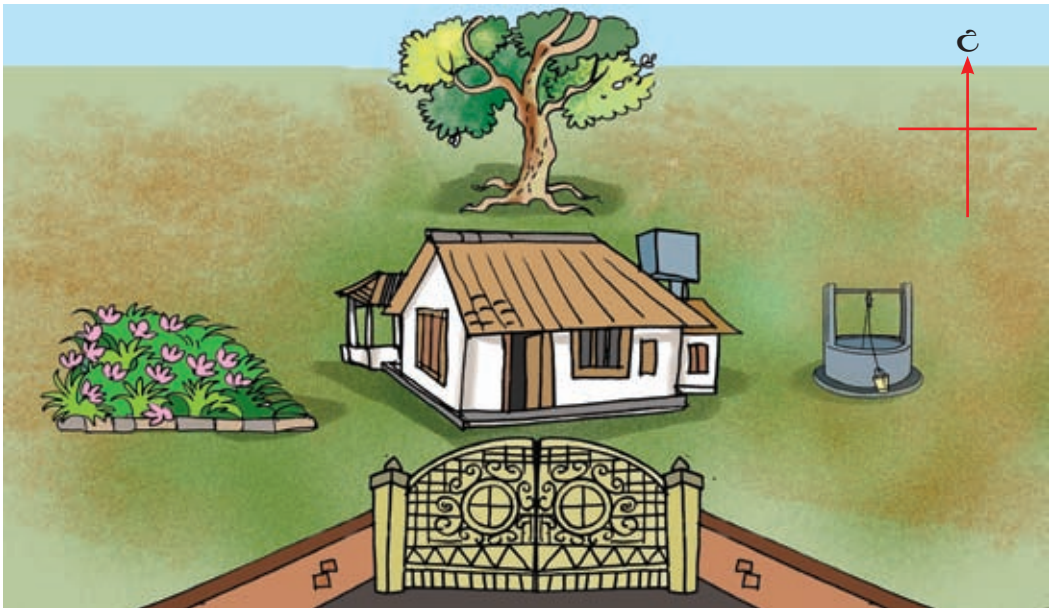


ප්‍රධාන දිශා හඳුනා ගනිමු.



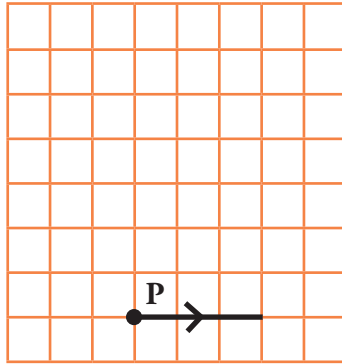
1 පහත රූපය දෙස බලා ප්‍රශ්නවලට පිළිතුරු සපයන්න.



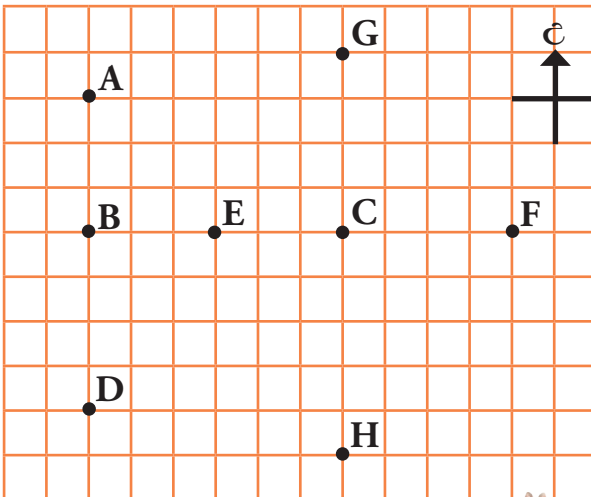
- (1) නිවසට උතුරු දිශාවෙන් පිහිටා ඇත්තේ කුමක් ද?
- (2) නිවසට දකුණු දෙසින් පිහිටා ඇත්තේ කුමක් ද?
- (3) නිවසට නැගෙනහිර දිශාවෙන් පිහිටා ඇත්තේ කුමක් ද?
- (4) මල් පාත්තියට නැගෙනහිර දිශාවෙන් පිහිටා ඇත්තේ මොනවා ද?
- (5) ගේට්ටුවට උතුරු දිශාවෙන් පිහිටා ඇත්තේ මොනවා ද?
- (6) ප්‍රීඳට බස්නාහිර දිශාවෙන් පිහිටා ඇත්තේ මොනවා ද?

2 පහත දැක්වෙන්නේ කුඹියෙකුගේ ගමන් මාර්ගය පිළිබඳ විස්තරයකි. අදාළ ගමන් මාර්ගය අඳින්න.

- (1) P ස්ථානයේ සිට කොටු 3ක් නැගෙනහිරට ගමන් කරයි.
- (2) එතැන් සිට උතුරු දිශාවට කොටු 5ක් ගමන් කරයි.
- (3) එතැන් සිට බස්නාහිර දිශාවට කොටු 3ක් ගමන් කරයි. කුඹියා දැන් සිටින්නේ ආරම්භක ස්ථානයට කුමන දිශාවෙන් ද?
- (4) එතැන් සිට කුඹියා කොටු 5ක් දකුණු දිශාවට පැමිණේ. දැන් කුඹියා සිටින්නේ කොතැන ද?






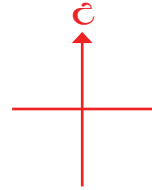

3 රූපයේ දැක්වෙන්නේ නගර කිහිපයක පිහිටීම දැක්වෙන සැලැස්මකි. ඒ ඇසුරෙන් අසා ඇති ප්‍රශ්නවලට පිළිතුරු සපයන්න.



- (1) C නගරයට උතුරින් පිහිටා ඇති නගරය කුමක් ද?
- (2) E නගරයට නැගෙනහිරින් පිහිටා ඇති නගර මොනවා ද?
- (3) B නගරයට දකුණින් පිහිටි නගරය කුමක් ද?
- (4) C නගරයට බටහිරින් පිහිටි නගර මොනවා ද?

4

පහත දී ඇති උපදෙස්වලට අනුව ගැලපෙන රූපය කොටුව තුළ අඳින්න.



- (1) ගසට උතුරෙන් කුරුල්ලෙකු අඳින්න.
- (2) ගසට නැගෙනහිරින් සමනලයෙකු අඳින්න.
- (3) කුරුල්ලාට දකුණෙන් ළමයෙකු අඳින්න.
- (4) සමනලයාට බස්නාහිරෙන් භාවෙකු අඳින්න.