

1 එකතු කරන්න.

	(1)		(2)		(3)		(4)
	1 5 2 7		2 0 5 9		2 6 2 4		3 0 6 2
	+ 2 4 3 9		+ 7 7 6 0		+ 3 5 4 3		+ 5 0 9 3
	=====		=====		=====		=====
	(5)		(6)		(7)		(8)
	4 2 2 2		2 4 7 4		1 5 2 4		5 0 4 2
	+ 3 8 4 6		+ 3 2 4 5		+ 2 3 0 6		+ 1 8 9 5
	=====		=====		=====		=====

2 එකතු කරන්න.

(1) $1546 + 2823$

(3) $1289 + 3509$

(2) $3426 + 3268$

(4) $5382 + 3295$

3 ගැටලු විසඳන්න.

- (1) ගමක පිරිමි 3439ක් ද ගැහැනු 3548ක් ද සිටිති. ගමේ සිටින මුළු පිරිස කොපමණ ද?
- (2) මල් වත්තක රෝස පැළ 3722ක් සිටුවා තිබුණි. එහි තවත් රෝස පැළ 1194ක් සිටුවන ලදී. දැන් මල් වත්තේ ඇති මුළු රෝස පැළ ගණන කීය ද?
- (3) ප්‍රදර්ශනයක් නැරඹීමට උදේ වරුවේ 3825ක් ද සවස් වරුවේ 3093ක් ද පැමිණියහ. එම දිනය තුළ ප්‍රදර්ශනය නැරඹූ මුළු පිරිස කොපමණ ද?






4 පිළිතුරු සපයන්න.

	(1)		(2)		(3)		(4)
	1 5 3 1		1 3 4 9		4 3 6 8		1 7 6 5
	2 8 3 4		7 1 1 9		1 2 2 1		3 0 2
+	1 2 0	+	1 1 2 4	+	3 1 9 0	+	3 0 1 2
<hr/>							
	(5)		(6)		(7)		(8)
	1 8 1 5		5 0		2 3 0 0		1 4 3 2
	1 3 5 1		1 0 7 0		1 4 2 8		0 4
+	2 4 2 2	+	8 1 6	+	5 0 4 9	+	3 0
<hr/>							
							7 2 5 7

5 එකතු කරන්න.

- | | |
|--------------------------|--------------------------|
| (1) $1032 + 1637 + 1214$ | (3) $1562 + 2011 + 1075$ |
| (2) $2324 + 1401 + 320$ | (4) $2036 + 52 + 808$ |

6 කැට කිහිපයක ඇති මුදල් ප්‍රමාණ පහත දැක්වේ.

A	B	C	D	E
				
රුපියල් 1312	රුපියල් 595	රුපියල් 2020	රුපියල් 1200	රුපියල් 4380

- (1) A හා B කැට දෙකේ ඇති මුදල් ප්‍රමාණවල එකතුව සොයන්න.
- (2) C, D හා E කැට තුනෙහි ම ඇති මුදල් ප්‍රමාණවල එකතුව සොයන්න.
- (3) ඉහත (1) හා (2) පිළිතුරු ඇසුරෙන් කැට සියල්ලේ ම ඇති මුදල් ප්‍රමාණවල එකතුව සොයන්න.

7

A, B, C, D හා E ආයතන පහ එක් දිනයක දී නිෂ්පාදනය කරන ලද ටොෆි පිළිබඳ තොරතුරු පහත වගුවේ දැක්වේ.

ටොෆි (රස වර්ගය)	නිෂ්පාදන ආයතන				
	A	B	C	D	E
කෝපි	1387	3426	1271	1141	1244
සියඹලා	2081	2058	2916	2196	3080
දොඩම්	3250	1209	3902	3591	4292
මුළු ටොෆි ගණන					

- (1) එක් එක් නිෂ්පාදන ආයතනය, දිනය තුළ නිපදවන ලද මුළු ටොෆි ගණන හිස් කොටුව තුළ ලියන්න.
- (2) එම දිනය තුළ වැඩි ම ටොෆි ප්‍රමාණයක් නිෂ්පාදනය කර ඇති නිෂ්පාදන ආයතනය කුමක් ද?
- (3) එදින ටොෆි 6928ක් නිෂ්පාදනය කර ඇත්තේ කුමන ආයතනය ද?