





ගනු දෙනු කරමු.

			
රුපියල් 128.50	රුපියල් 350.00	රුපියල් 455.00	රුපියල් 105.00
			
	රුපියල් 240.50	රුපියල් 125.00	



1 පහත එක් එක් අවස්ථාව සඳහා ගෙවිය යුතු මුදල සොයන්න.

උදාහරණය :-



	රුපියල්	සක	(1)
	350	00	
	+ 128	50	
	<u>478</u>	<u>50</u>	

	රුපියල්	සක	
	.....	.....	
	+ .....	.....	
	<u>          </u>	<u>          </u>	


(2)

	රුපියල්	සක	
	.....	.....	
	+ .....	.....	
	<u>          </u>	<u>          </u>	

(3)


	රුපියල්	සක	
	.....	.....	
	+ .....	.....	
	<u>          </u>	<u>          </u>	

(4)



රුපියල්	සත
.....	.....
.....	.....
+ .....	.....
<hr/>	
<hr/>	

(5)



රුපියල්	සත
.....	.....
.....	.....
+ .....	.....
<hr/>	
<hr/>	

ඉතුරු සොයමු. හරි ද බලමු.

2

පහත ද්‍රව්‍ය මිල දී ගත් විට ඉතුරුවන මුදල සොයන්න.

			
රුපියල් 300.00	රුපියල් 35.00	රුපියල් 280.00	රුපියල් 270.00

**උදාහරණය :-** රුපියල් 500 නෝට්ටුවක් දී අන්නාසි ගෙඩියක් මිල දී ගැනීම

රුපියල්	සත
500	00
- 280	00
<hr/>	
<b>220</b>	<b>00</b>
<hr/>	

- (1) රුපියල් 500ක් දී මිදි පොකුරක් මිලට ගැනීම
- (2) රුපියල් 100ක් දී ඇපල් ගෙඩි 2ක් මිලට ගැනීම
- (3) රුපියල් 500 නෝට්ටුවක් හා රුපියල් 100 නෝට්ටුවක් දී අන්නාසි ගෙඩි 2ක් මිලට ගැනීම
- (4) රුපියල් 1000 නෝට්ටුවක් දී දුරියන් ගෙඩි දෙකක් මිලට ගැනීම

### 3 ඉතුරු මුදල සොයන්න.

භාණ්ඩය	මිල		දුන් මුදල		ඉතුරු මුදල	
	රුපියල්	සක	රුපියල්	සක	රුපියල්	සක
පැන්සල	10	50	20	00		
කෑම පෙට්ටිය	28	00	30	00		
බෑගය	110	00	200	00		
බෝතලය	257	00	300	00		
පොත	12	75	20	00		

### 4 මිල දර්ශනය බලා බිල්පත සම්පූර්ණ කරන්න.

එළවළු වර්ගය	ප්‍රමාණය	මිල
		රුපියල් සක
කැරට්	1 kg	90 00
බීට්	1 kg	60 00
ගෝවා	1 kg	70 00
රාබු	1 kg	80 00
අළු කෙසෙල්	1 kg	110 00

එළවළු වර්ගය	ප්‍රමාණය	1 kg ක මිල		වටිනාකම	
		රුපියල්	සක	රුපියල්	සක
කැරට්	500 g	90	00	45	00
බීට්	500 g				
ගෝවා	250 g				
මුළු මුදල					

5 දී ඇති මිල හා ප්‍රමාණ අනුව බිල්පත් සම්පූර්ණ කරන්න.

ද්‍රව්‍යය	ප්‍රමාණය	මිල	
		රුපියල්	සත
සීනි	1 kg	100	00
කිරි පිටි	200 g	200	00
තේ කොළ	100 g	75	00
අල	1 kg	80	00
සහල්	1 kg	98	00
මාළු	250 g	110	00

(1)

ද්‍රව්‍යය	ප්‍රමාණය	මිල	
		රුපියල්	සත
සීනි	500 g		
කිරි පිටි	1 kg		
තේ කොළ	200 g		
ගෙවිය යුතු මුළු මුදල			

(2)

ද්‍රව්‍යය	ප්‍රමාණය	මිල	
		රුපියල්	සත
සහල්	5 kg		
අල	500 g		
මාළු	500 g		
ගෙවිය යුතු මුළු මුදල			