

මධ්‍ය වාර පරීක්ෂණය 2015

පරීසරය






කාලය පැය 1 ඔ වී. 30 ඔ.

1 ශ්‍රේණිය

මගේ නම :


● සියලුම ප්‍රශ්නවලට පිළිතුරු ලියන්න.

01 රූපයට අදාළ වචනය යාකරන්න.

(1)		● පොත
(2)		● පුවුව
(3)		● පැන්සල
(4)		● ඉදල
(5)		● කළු ලෑල්ල






(1 x 5 = 05)

02 ඔබේ පන්ති කාමරය හැඩකර ගැනීමට ගන්නා දෙවල් පමණක් පාට කරන්න.



(ල. 05 ඔ.)

03 පහත සඳහන් සතුන් මිනිසාට කරන උදවු මොනවා ද යන්න බලා ගැලපෙන සේ යාකරන්න.

(1)		● පෙරහැරේ ගෙනයනවා
(2)		● බර ඇද දෙනවා
(3)		● බිත්තර ලබාදෙනවා
(4)		● මීයන් අල්ලනවා
(5)		● ගෙදර ආරක්ෂා කරනවා

(2 x 5 = 10)

04 වැකි කියවා හරි වැරදි යොදන්න.

- (1) පාසල ආරම්භ කිරීම සඳහා සිනුව නාද කරනවා. ()
- (2) තාත්තාගේ තාත්තා මගේ බාප්පාය. ()
- (3) ගඟවාගේ හොට රතු පාටයි. ()
- (4) ලුණු ජලයේ පාවෙනවා. ()
- (5) අවුරුදු කාලයට එරඹදු මල් පිපෙනවා. ()
- (6) දහවල් අහසේ තරු පායලා තිබෙනවා. ()
- (7) බෝංචි කරල් වර්ගයකි. ()

(2 x 10 = 20)

(8) වැස්සට පෙර විදුලි කොටනවා. ()


(9) යහළුවාට කරදර කරනවාට මම කැමතියි. ()

(10) හාවා පැන පැන යන සතෙකි' ()


05 ගැලපෙන පිළිතුර යටින් ඉරක් අඳින්න.

(1) පෝයදාට අහසේ හඳ


(රන් තැටියක් සේ පෙනේ / සඳු භාගයක් පෙනේ) $(2 \times 5 = 10)$




ගිරවෙක්




දොරට දමන ඉබ්බෙක්



උදුල්ලක්



ඉදලක්



ජල බඹරයක්

$(2 \times 5 = 10)$

- (2) ජලයේ ගිලෙන දෙයකි. (ඇණය / මල් පෙති)
- (3) උදේ කාලයේ අපේ හෙවනැල්ල (දිගය / කොටය)
- (4) පන්තිය කිලිට්වනවාට අපි (කැමතියි / අකැමැතියි)
- (5) අපේ ප්‍රධාන ආහාරය (ආපේප / බත්)

06 පහත සඳහන් රූප අඳින්න.

07 උත්තර ලියන්න.

(1) රාත්‍රී අහසේ තිබෙන දේවල් 2 ක් අඳින්න.

(2) අහසේ පාකිරීම සඳහා අපි සාදන දේවල් 2 ක් අඳින්න.

(3) පන්තියේ භාවිතා කරන උපකරණ 2 ක් අඳින්න.

(4) ගෙදර සුරතලයට ඇතිකරන සතුන් 2 ක් අඳින්න.