

මධ්‍ය චාර පරීක්ෂණය 2015

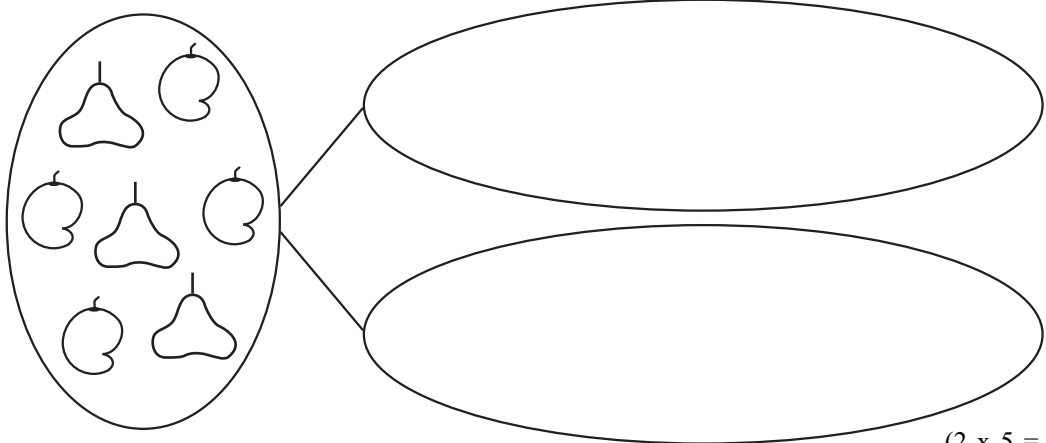
1 ශ්‍රේණිය

ගණිතය

කාලය පැය 1 ඊ. වි. 30 ඊ.

මගේ නම: _____

01 රවුම තුළ ඇති රූප වෙන්කර ඇඳ පාට කරන්න.



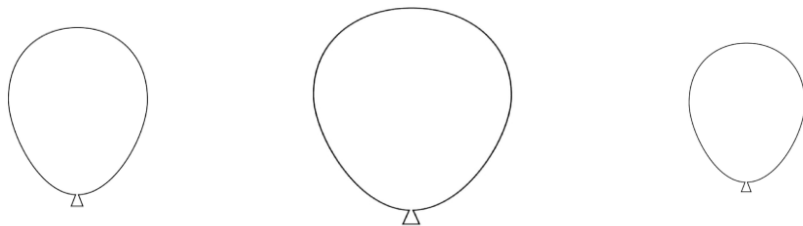
(2 x 5 = 10)

02 දී ඇති ප්‍රශ්න කියවා උත්තර ලියන්න.


(1) කුඩාම රූපය තෝරා පාට කරන්න.




(2) විශාලම රූපය තෝරා පාට කරන්න.



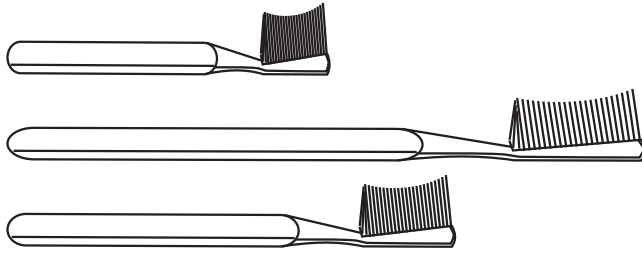
(3) මිටිම රූපය පාට කරන්න.



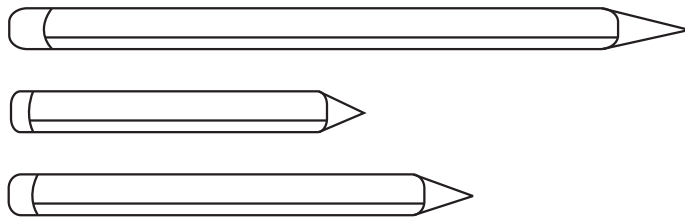
(4) උසම රූපය පාට කරන්න.




(5) දිගම රූපය තෝරා පාට කරන්න.




(6) දිග අඩුම රූපය පාට කරන්න.



(7) මැද රූපය පාට කරන්න.



(8) අන්තිමට තිබෙන රූපය පාට කරන්න.



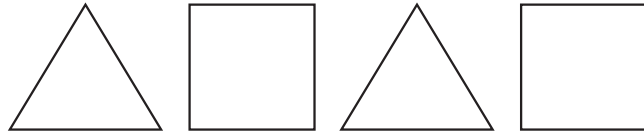
(9) ඉදිරියෙන් තිබෙන රූපය පාට කරන්න.




(10) වෙනස් රූපය පාට කරන්න.




(11) ඊළඟට එන රටාව අඳින්න.



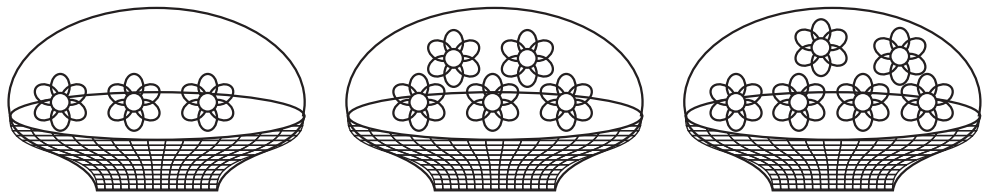
(12) ජලය වැඩිපුර අල්ලන භාජනය නිල් පාටින් පාට කරන්න.



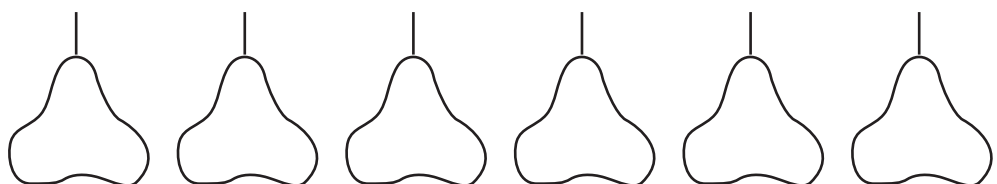
(13) රූප අතින් සමාන රූප පාට කරන්න.



(14) මල් අඩුවෙන්ම ඇති කුඩය පාට කරන්න.

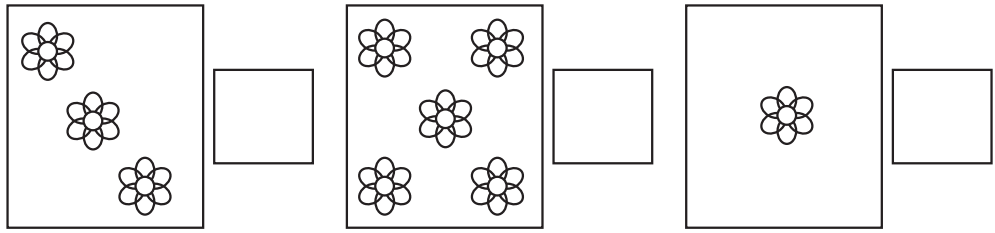


(15) පහත දී ඇති රූප වලින් 3 ක් පාට කරන්න.

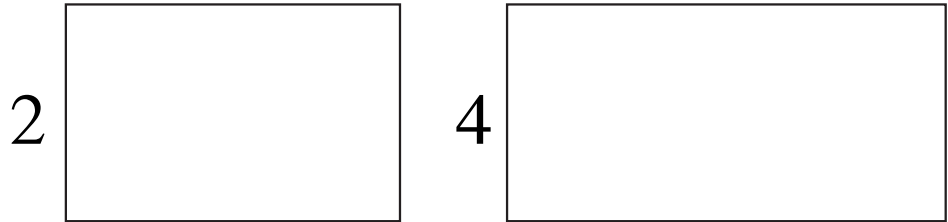


(3 x 15 = 45)

03 (1) රූප ගණන්කර කොටුවේ ලියන්න.



(2) දී ඇති සංඛ්‍යාව අනුව රූප අඳින්න.



04 හිස් තැන් පුරවන්න.

(3 x 5 = 15)

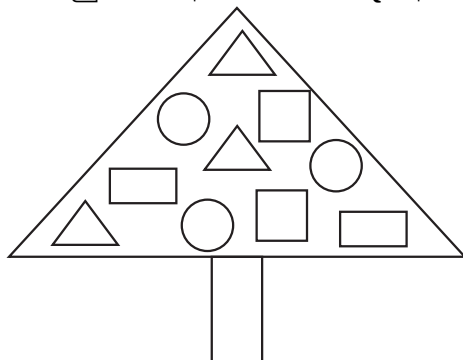
සංඛ්‍යාංකය	සංඛ්‍යා නාමය
1	
	දෙක
3	
	හතර
5	

05 රූපයට අදාළ සංඛ්‍යා යා කරන්න.

(2 x 5 = 10)

- (1) **1**
- (2) **2**
- (3) **3**
- (4) **4**
- (5) **5** (2 x 5 = 10)

06 කොටුවේ ඇති රූප දී ඇති පාට අනුව පාට කරන්න.



- රතු පාට
- කහ පාට
- නිල් පාට
- කොළ පාට (2 x 5 = 10)