

## தரம் 5 புலமைப்பரிசில் பரீட்சைக்கான இலக்குவழி மாநிரல் பரீட்சை - 02


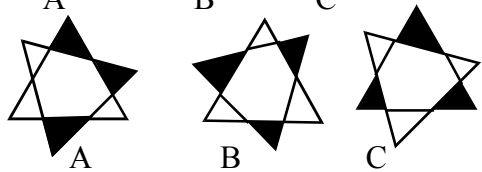
**ஆசிரியர் :** P.அம்பிகைபாகன்  
**இடம் :** ACA, ஆசிரியர்ன் வீட்டில்  
குழு வகுப்புகளில்

பாடலை வாசித்து வினாக்களுக்குரிய சரியான விடையைத் தெரிவு செய்து அதன் கீழ்க் கீறடுக.

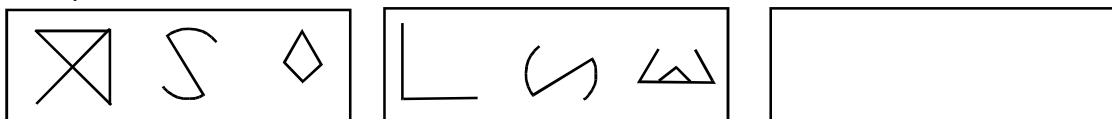
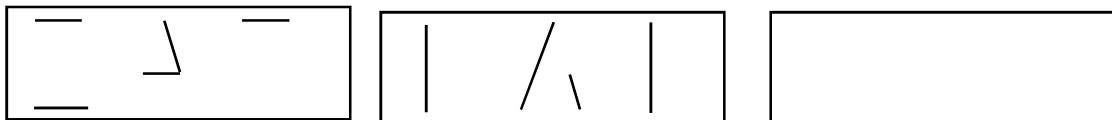
**மீனிளம் ஓடிப் பறக்குதம்மா - ஊடே**  
**வெள்ளி ஓடமொன்று செல்லுதம்மா**  
**வானும் கடலாக மாறுதம்மா - இந்த**  
**மாட்சியிலுள்ளம் முழுகுதம்மா**

- (1) இப்பாடலில் வர்ணிக்கப்படும் காட்சி.
- 1) கடற்கரைக்காட்சி
  - 2) நட்சத்திரங்களின் ஊடே சந்திரன் பவனி வரும் காட்சி
  - 3) ஆகாயம் கடலாக மாறும் காட்சி
  - 4) வெள்ளிக்கிழமைகளில் மீனவர்கள் மீன் பிடிக்கச் செல்லும் காட்சி
- (2) ஆகாயத்தை எதற்கு உவமையாக கூறப்படுகின்றது.
- 1) மீனிளத்திற்கு
  - 2) ஓடத்திற்கு
  - 3) கடலிற்கு
  - 4) வானத்திற்கு
- (3) கீழே தரப்படும் சொற்களுக்குச் பொருத்தமான ஒத்த கருத்துச் சொற்களை பாடலிலிருந்து தெரிவு செய்து எழுதுக.
- 1) வள்ளம் - .....
  - 2) ஆகாயம் - .....
  - 3) ஆழி - .....
  - 4) பெருமை - .....
  - 5) அமிழுதம்மா - .....

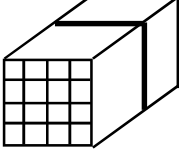
வினாக்களில் தரப்பட்டுள்ள உருக்களில் இரண்டு உருக்கள் ஏதொவொரு வகையில் ஒத்தவை. அவ்வருக்களைக் குறிக்கும் ஆங்கில எழுத்துக்களைப் புள்ளிக் கோட்டில் எழுதுக.

- (4)  (.....)
- (5)  (.....)

அடைப்புக்குள் இருக்கும் இரு கோலங்களையும் ஒன்றன்மீதொன்றாக வைக்கும்போது கிடைக்கும் உருவை வெற்றுக் கூட்டுக்குள் வரைக.

- (6) 
- (7) 

- (8) உருவில் உள்ள இரண்டாக்கப்பட்ட பெரிய ஒரு சதுரமுகியின் ஒரு முகத்தில் அடையாளம் இடப்பட்டுள்ள புள்ளிகள் வழியே வெட்டும்போது கிடைக்கும் கனவுருக்களின் எண்ணிக்கையைப் புள்ளிக் கோட்டில் எழுதுக.



(.....)

- (9) தரப்பட்டுள்ள கவிதையின் நான்கு வரிகளின் சரியான ஒழுங்குமுறையைக் குறிக்கும் ஆங்கில எழுத்துக்களை புள்ளிக்கோட்டில் எழுதுக.

- a) செக்கச் சிவந்து தெரிவதுண்டு  
b) வேறுங் கடிகாரம் வேண்டுமோடி  
c) சேவற் கோழியுண்டு காகமுண்டு வானம்  
d) மேவும் பெண்ணே அதிகாலை தெரிந்திட

(.....)

கீழுள்ள வினாக்களுக்கு அடைப்புக்குள் உள்ள பொருத்தமான விடையைத் தெரிவு செய்து அதனைப் புள்ளிக்கோட்டில் எழுதுக.

- (10) மனித உடலிற்குத் தேவையான உணவில் பெரும்பங்கு வகிப்பது.  
(மீன்கள், இறைச்சிகள், தாவரங்கள்)
- (11) தற்காலத்தில் தொடர்பாடலுக்கு பயன்படுவதில் பெரும்பங்கு வகிப்பது.  
(கைத்தொலைபேசிகள், நிலத்தடி இணைப்புத் தொலைபேசிகள், தெருவோர தொலைபேசிக் கூண்டுகள்)
- (12) கொழும்பிலிருந்து அம்பாந்தோட்டை செல்லும் பாதையில் இருக்கக்கூடிய ஒரு நகரம்.  
(கண்டி, காலி, புத்தளம்)

(.....)

- (13) தரப்பட்டுள்ள உருவில்  $\frac{4}{10}$  ஐ நிழற்றுக.



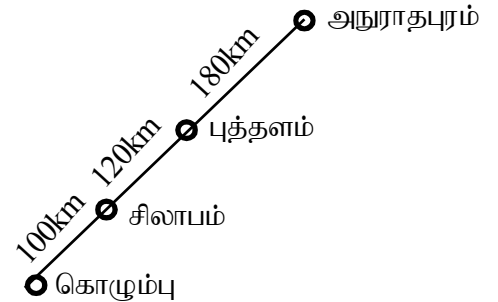
(.....)

- (14) அதில் நிழற்றப்படாமல் எஞ்சியுள்ள பகுதியை பின்னமாக எழுதுக.

(.....)

உருவில் உள்ள தகவல்களுக்கேற்ப அட்டவணையிலுள்ள வெற்றிடங்களை நிரப்புக.

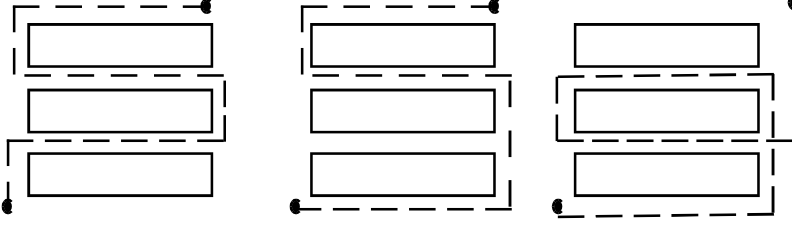
இருந்து	வரைக்கும்	தூரம் km இல்
(15) கொழும்பு	சிலாபம்	.....
(16) சிலாபம்	புத்தளம்	.....
(17) .....	அநுராதபுரம்	300



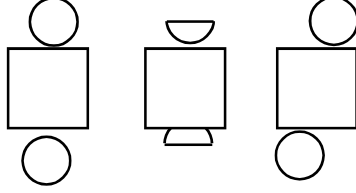
- (18) உருவில் உள்ள தகவல்களைப் பயன்படுத்தி கீழுள்ள இலகு தூரம் காட்டி அட்டவணையைப் பூர்த்தி செய்க.

அநுராதபுரம்		
	புத்தளம்	
சிலாபம்		
கொழும்பு		

- (19) முறிந்த கோடுகளினால் காட்டப்பட்டுள்ள மூன்று பாதைகளில் நீளம் கூடிய பாதையைத் தெரிவு செய்து அதன் கீழ்க் கீறிடுக.



- (20) உருளை ஒன்றை உருவாக்க முடியாத அட்டைக் கீலத்தை தெரிவு செய்க.



கீழுள்ள வினாக்கள் ஒவ்வொன்றிலும் மூன்று வாக்கியங்கள் உள்ளன. அதில் ஒன்று கருத்து வேற்றுமை ஆனது. அதனைத் தெரிவு செய்து அதன் கீழ்க் கீறிடுக.

- (21) 1) குமார் சகபாடியைச் சந்தித்தான்.  
2) குமார் இணைந்து பாடியவனைச் சந்தித்தான்.  
3) குமார் தன்னுடன் பாடசாலையில் ஒன்றாகப் படித்தவனைச் சந்தித்தான்.
- (22) 1) நாடக மன்றத்தினர் தமது நாடகத்தை மற்றைய நாடகங்களுடன் ஒத்து உள்ளதாவெனப் பார்த்தார்கள்.  
2) நாடக மன்றத்தினர் நாடகம் மேடையேற்றுவதற்கு முன் நடித்துப் பார்த்தார்கள்.  
3) நாடக மன்றத்தினர் நாடகத்தை ஒத்திகை பார்த்தார்கள்.

**23 ஆம் 24 ஆம் வினாக்களில் தரப்பட்டுள்ள பழமொழிகளின் கருத்தை நன்கு விபரிக்கும் விடையைத் தெரிவுசெய்க.**

- (23) தொட்டிப்பழக்கம் சுடுகாடு வரைக்கும்.  
1) தொட்டிலில் பழகிய பழக்கங்கள் மரணம்வரை தொடர்ந்து இருக்கும்.  
2) தொட்டிலில் பழகிய பழக்கங்கள் மயானத்தில் விளையாடும்போதும் இருக்கும்.  
3) தொட்டிலில் பழகிய பழக்கங்கள் மைதானத்தில் விளையாடும்போது இருக்கும்.
- (24) ஆறின கஞ்சி பழங்கஞ்சி.  
1) பழங்கள் கொண்டு தயாரிக்கப்பட்ட கஞ்சி விரைவில் ஆறிவிடும்.  
2) கஞ்சியை குடிக்காது நீண்ட நேரம் வைத்திருந்தால் ஆறிவிடும்.  
3) பிற்போடப்பட்ட காரியம் ஒருபோதும் நிறைவேறாது.

**சரியான விடையைப் புள்ளிக்கோட்டில் எழுதுக.**

- (25) பனை, தென்னையின் இளங்காய் குரும்பை என்பது போல மா, பலாவின் இளங்காயைக் குறிக்கும் சொல் யாது?  
(.....)
- (26) பயறு, உழுந்து முதலியவற்றின் உள்ளீடு பருப்பு என்பது போல் பலாப்பழத்தின் உள்ளீட்டுப் பொருள் யாது?  
(.....)

