

ජීව විද්‍යාව I

කාලය : පැය 1

සියලුම ප්‍රශ්න සඳහා පිළිතුරු සපයන්න.

(1) පහත ප්‍රකාශවලට අදාළව පිළිගත් ලාක්ෂණික ලක්ෂණ පිළිවෙලින් දක්වා ඇත්තේ,

- (a) ප්‍රවේණික ද්‍රව්‍යවල සිදුවන විකරණයන්ට අනුකූලව කාලයන් සමග පිළිගත් වෙනස්වීමට ඇති හැකියාව.
- (b) ඛානිත සහ අන්‍යන්තර පරිසරවලින් ලැබෙන උත්තේජවලට ප්‍රතිචාර දැක්වීමේ හැකියාව.
- (c) පිළිගත් විශේෂිත ලක්ෂණ පාලනය කරන ජාන පරම්පරාවෙන් පරම්පරාවට සම්ප්‍රේෂණය
 - 1) පරිණාමය, සමායෝජනය, ආවේණිය
 - 2) ආවේණිය, උද්දීප්‍යතාවය, පරිණාමය
 - 3) පරිණාමය, චලනය, ආවේණිය
 - 4) පරිණාමය, උද්දීප්‍යතාවය, ආවේණිය
 - 5) ආවේණිය, චලනය, පරිණාමය

(2) ජෛව සංවිධානයේ ධුරාවලි මට්ටම් කිහිපයක් අනුපිළිවෙලින් සකසා ඇති පිළිතුර තෝරන්න.

- 1) අණු, ඉන්ද්‍රියකා, සෛල, ඉන්ද්‍රිය, ඉන්ද්‍රිය පද්ධති ×
- 2) ඉන්ද්‍රිය, ඉන්ද්‍රිය පද්ධති, පිළිගත්, ගහන, ප්‍රජා ✓
- 3) සෛල, පටක, ඉන්ද්‍රිය, ඉන්ද්‍රිය පද්ධති, පිළිගත්, විශේෂ
- 4) පිළිගත්, විශේෂ, ගහන, ප්‍රජා, පරිසර පද්ධති, ජෛව ගෝලය
- 5) අණු, ඉන්ද්‍රියකා, සෛල, පටක, ඉන්ද්‍රිය පද්ධති ×

(3) "ලයිසෝසෝම් ජලයේ දියවීම" මේ සම්බන්ධයෙන් වැදගත් වන ජලය සතු මූලික ගුණාංගය වන්නේ,

- 1) ඉහළ පෘෂ්ඨික ආතතිය
- 2) ජල අණු එක් එක් ද්‍රාව්‍ය අණු වටකරමින් ඒවා සමග හයිඩ්‍රජන් බන්ධන සෑදීම.
- 3) ජලයේ අයනික ස්වභාවය.
- 4) ජල අණු අතර ඇති සංසක්තිය
- 5) ද්‍රාවකයක් ලෙස ඇති සර්ව නිපුණත්වය

(4) විද්‍යාගාරයේ දී කාබනික සංයෝග හඳුනාගැනීමට අදාළ පරීක්ෂණ කිහිපයක තොරතුරු පහත දැක්වේ.

| පරීක්ෂණය | A ද්‍රාවණය | B ද්‍රාවණය | C ද්‍රාවණය |
|--------------------|----------------|------------|--------------------|
| බෙනඩික් පරීක්ෂාව | නිල් පැහැය | නිල් | ගඩොල් රතු අවක්ෂේපය |
| අයඩින් පරීක්ෂාව | දීප්තිමත් නිල් | කහ, දුඹුරු | කහ, දුඹුරු |
| බයිසූර්ට් පරීක්ෂාව | නිල් | දම් පැහැය | නිල් |

A, B, C ද්‍රාවණවල පිළිවෙලින් අඩංගු විය හැක්කේ,

- 1) පිෂ්ඨය, සුක්‍රෝස්, ඇල්බියුමින්
- 2) පිෂ්ඨය, ඇල්බියුමින්, සුක්‍රෝස්
- 3) සුක්‍රෝස්, ග්ලූකෝස්, ඇල්බියුමින් ×
- 4) පිෂ්ඨය, ඇල්බියුමින්, ග්ලූකෝස්
- 5) පිෂ්ඨය, පොල්තෙල්, ග්ලූකෝස්

(5) නියුක්ලියෝටයිඩ සම්බන්ධයෙන් අසත්‍ය ප්‍රකාශය වන්නේ,

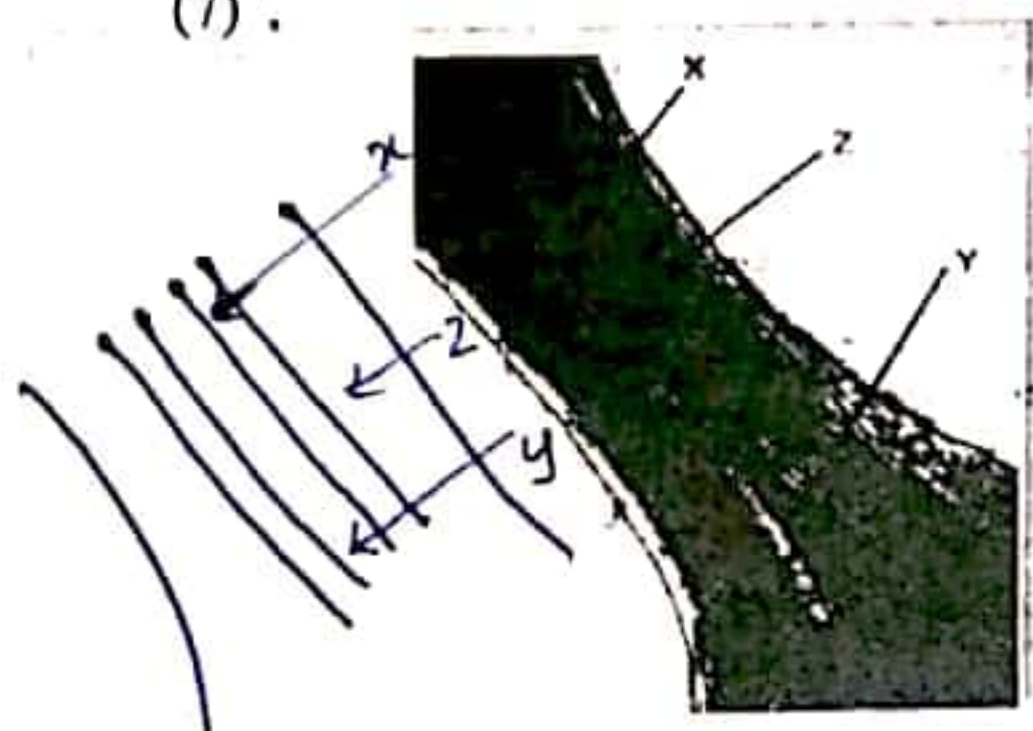
- 1) NAD, FAD සහ NADP⁺ සහ එන්සයිම ලෙස ක්‍රියාකරයි. ✓
- 2) FAD ස්වසනයේ දී ඔක්සිකාරකයක් ලෙස ක්‍රියා කරයි. ×
- 3) ATP සාර්වත්‍ර ශක්ති වාහකයකි. ✓
- 4) DNA වල ඒකක අණුව ඩිඔක්සිරයිබොනියුක්ලියෝටයිඩය ✓
- 5) NADP⁺ ඉලෙක්ට්‍රෝන වාහකයක් ලෙස ක්‍රියා කරයි. ✓

(6) පහතින් දැක්වෙන්නේ උප සෛලීය සංඝටක කිහිපයක් සහ ඒවායේ කෘත්‍යයන් කිහිපයකි. නොගැලපෙන පිළිතුර තෝරන්න.

- | | |
|-----------------------------------|----------------------------------------|
| A - ගොල්ගි සංකීර්ණය | P - පටල පොස්පොලිපිඩ සංස්ලේෂණය |
| B - රුචි අන්ත: ප්ලාස්මිස ජාලිකා | Q - Ca^{2+} අයන සංචිත කිරීම |
| C - ඩිහිස් සෛලීය පුරකය | R - සෛල පෘෂ්ඨය මත ආරක්ෂක ස්ථරයක් සෑදීම |
| D - සිනිඳු අන්ත: ප්ලාස්මිස ජාලිකා | S - ලයිසොසෝම නිපදවීම |
| E - පක්ෂම | T - පටකය මතුපිට තරල චලනය |

- 4) A-S, B-P 2) C-R, B-Q 3) B-P, E-T 4) A-S, E-T 5) A-S, D-Q

(7)



මෙම රූපයේ දැක්වෙන්නේ ශාක සෛලයක බිත්තියක ආකෘතියකි. එහි x, y, z පිළිවෙලින්,

- 1) ප්‍රාථමික සෛල බිත්තිය, ද්විතියික සෛල බිත්තිය, ප්ලාස්ම පටලය
- 2) ද්විතියික සෛල බිත්තිය, මධ්‍ය සුස්තරය, ප්‍රාථමික සෛල බිත්තිය
- 3) ප්‍රාථමික සෛල බිත්තිය, මධ්‍ය සුස්තරය, ද්විතියික සෛල බිත්තිය
- 4) ප්ලාස්ම පටලය, ද්විතියික සෛල බිත්තිය, ප්‍රාථමික සෛල බිත්තිය
- 5) මධ්‍ය සුස්තරය, ප්‍රාථමික සෛල බිත්තිය, ද්විතියික සෛල බිත්තිය

(8) අනුනයේ ප්‍රාක් කලාවේ දී සිදු නොවන්නේ,

- 1) න්‍යෂ්ටිකාව අතුරුදහන් වීම. ✓
- 2) වර්ණදේහ සනචිත සහ කෙටිවීම. ✓
- 3) සහෝදර වර්ණදේහාංශවල බාහු කොහෙයින්වලින් සම්බන්ධ වී තිබීම. ✓
- 4) අනුනය තර්කාව සෑදීම ආරම්භ වීම. ✓
- 5) කේන්ද්‍ර දේහ සෛලයේ ධ්‍රැව දෙසට චලනය

(9) පහත රූපයේ දැක්වෙන්නේ උානන විභාජනයේ එක් අවධියකි. එම අවධියට ප්‍රථම සෛලයක විභාජන අවධිය වන්නේ,

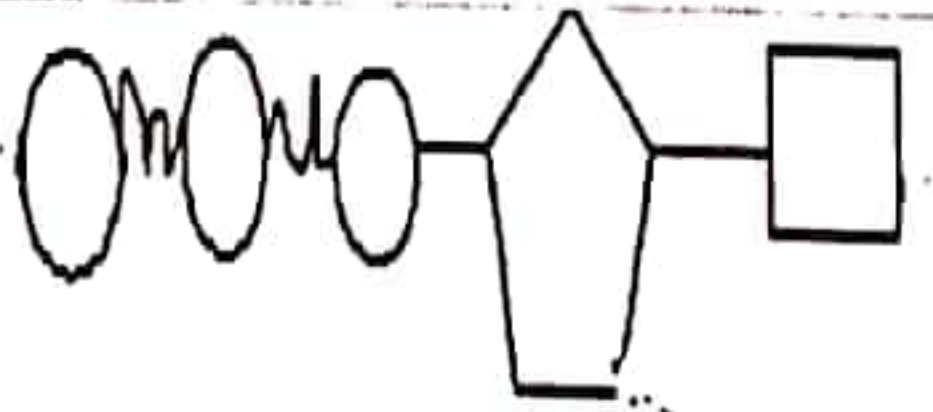


- 1) යෝග කලාව II
- 2) වියෝග කලාව I
- 3) වියෝග කලාව II
- 4) ප්‍රාක් කලාව II
- 5) යෝග කලාව I

(10) පිලිකා සම්බන්ධයෙන් අසත්‍ය ප්‍රකාශය තෝරන්න.

- 1) මේවා දේහයේ පාලන සාන්ත්‍රණවලට ප්‍රතිචාර නොදක්වයි. ✓
- 2) අසාමාන්‍ය සෛල චක්‍ර පාලන පද්ධතියක් ඇත. ✓
- 3) නිරූපද්‍රව අර්බුද සියල්ල ශල්‍යකර්ම මගින් ඉවත් කළ හැක. ✓
- 4) පිලිකා සෛල ස්ථානාන්තරණය පෙන්නවයි. ✓
- 5) සෛල චක්‍රය සාමන්‍ය කරන සාමාන්‍ය සංඥා පිලිකා සෛල නොසලකයි. ✓

(11)



මෙම රූපයේ දැක්වා ඇත්තේ,
 A - පියුරීන හේමයක් අඩංගු අණුවකි. ✓
 B - ප්‍රභා පොස්පොරයිලීකරණයේ දී පලවිච්ඡේදනය වන අණුවකි. ✓
 C - පටල හරහා අක්‍රීයව ද්‍රව්‍ය පරිවහනයේ දී ශක්තිය සපයන අණුවකි.

ඉහත ප්‍රකාශ අතරින් නිවැරදි වන්නේ,

- 1) A පමණි 2) B පමණි 3) C පමණි 4) A හා B පමණි 5) B හා C පමණි

(12) ප්‍රේරිත සිතූම් ශාන්තුණය මගින් පැහැදිලි කරන්නේ ,

- 1) එන්සයිම මගින් උත්ප්‍රේරිත ප්‍රතික්‍රියාවක ශාන්තුණයයි.
- 2) එන්සයිමවල උපස්ථර විශේෂඛතාවයයි.
- 3) සක්‍රීය ස්ථානයේ සිදුවන වෙනසක් නිසා එය උපස්ථරයට අනුපූරක වන බවයි.
- 4) උපස්ථර එල බවට පරිවර්තනවන ආකාරයයි.
- 5) ඉහත සියල්ලම.

(13) තරඟකාරී නොවන නියෝධක, තරඟකාරී නියෝධක වලින් වෙනස් වන්නේ ඒවා,

- 1) උපස්තරය සඳහා ඇති සක්‍රීය ස්ථාන ගනන අඩු කිරීමට දායක වන නිසාය. x
- 2) එන්සයිම ප්‍රතික්‍රියාවේ සීඝ්‍රතාව අඩු කරන නිසාය. x
- 3) එන්සයිමයට බැඳෙන නිසාය.
- 4) එන්සයිමයේ සක්‍රීය ස්ථානයේ හැඩය වෙනස්කරන නිසාය. ✓
- 5) උපස්ථරය සමඟ තරඟකරන නිසාය. x

(14) ප්‍රභාසංස්ලේෂණයේ දී ,

- 1) CO₂ ඔක්සිකරණය සඳහා ඔක්සිජන් භාවිතා වේ. x
- 2) භෞමික ශාකවල CO₂ නිර කිරීමේ දී සෑදෙන පළමු ස්ථායී එලයේ C පරමාණු ගණන 6 කි. x
- 3) දෘශ්‍ය ආලෝකයේ 400-500 nm අතර තරංග ආයාම වැඩිපුරම අවශෝෂණය කරන්නේ ක්ලෝරෝෆිල් b මගිනි.
- 4) ආලෝක ප්‍රතික්‍රියාවේ දී ආලෝකය ග්‍රහණය කරන ප්‍රධාන වර්ණකය වන්නේ ක්ලෝරෝෆිල් b ය. x
- 5) නිපදවන ජලය වාෂ්පලෙස බැහැර වේ. x

(15) P₆₈₀ උද්දීපනය වීම නිසා සිදුවිය හැක්කේ පහත ඒවා අතරින් කුමක් ද?

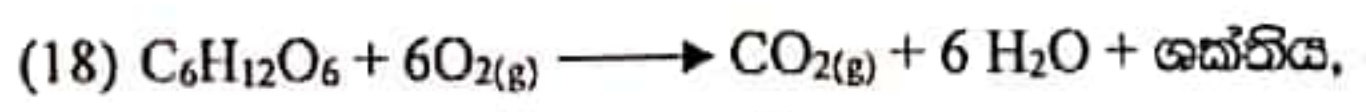
- 1) ATP හා NADPH නිපදවීම.
- 2) 680 nm තරංග ආයාමයේ ආලෝකය එලදායීව අවශෝෂනය කිරීම.
- 3) එය අධිශක්ති මට්ටමකට ගමන් කිරීම.
- 4) වක්‍රීය පථයක් ඔස්සේ ඉලෙක්ට්‍රෝන ගමන් කිරීම.
- 5) ඔක්සිකරණය වූ අණුව, එන්සයිම උත්ප්‍රේරිත ප්‍රතික්‍රියාවක දී නිදහස්වන ඉලෙක්ට්‍රෝන ලබා ගැනීම.

(16) කැල්වින් චක්‍රයේ ඔක්සිකරණය පියවරේ අන්තඵලය මින් කුමක් ද?

- 1) 3-PGA 2) 1, 3 - බිස්පොස්පොන්ලිසරේට් 3) G3P 4) RuBP 5) ග්ලූකෝස්

(17) C₄ ශාක පත්‍රයක කලාපකොපු සෛල පිලිබඳව සත්‍ය ප්‍රකාශය මින් කුමක් ද?

- 1) පටලවලින් ආස්තරණය වූ සෛල ජලාස්මයෙන් පිරුණු නාලිකාමගින් පත්‍ර මධ්‍ය සෛල සමඟ සම්බන්ධය.
- 2) පත්‍රයේ ඇති අනෙකුත් ප්‍රභාසංස්ලේෂක සෛලවලට පිටතින් පිහිටයි. x
- 3) සෛලම හා ෆ්ලෝයම අතර පිහිටා ඇත. ✓
- 4) ඔක්සලෝ ඇසිටේට් සංස්ලේෂණය සිදු කරයි. x
- 5) මැලේට් ඉවතට විසරණය සිදු කරයි. ✓



ඉහත ක්‍රියාවලිය අතරතුර දී ඇති නොවන්නේ මින් කුමක් ද?

- 1) පයිරුවේට් 2) ඇසිටයිල් සහඑන්සයිම් A 3) G3P 4) NADPH 5) ඔක්සලෝ ඇසිටේට්

(19) ඔක්සිකරණය වූ සහඑන්සයිම වලින් නිදහස් වූ ශක්තිය යොදා ගනිමින් පොස්පොරයිලීකරණය සිදු වන ස්ථාන සඳහන් කිරීමේ පිළිතුර කුමක් ද?

- A) සෛටොසෝමයේ ය
- B) මයිටොකොන්ඩ්‍රියා පූරකයේ ය ?
- C) මයිටොකොන්ඩ්‍රියා ඇතුළු පටලයේ මියර හරහා ය ✓

- 1) A පමණි 2) B පමණි 3) C පමණි 4) A හා B ය 5) B හා C ය

(20) එහිල් මධ්‍යසාර පැසීමේ දී,

- 1) පළමු පියවරේදී එක් ග්ලූකෝස් අණුවකින් 3C සංයෝග අණු සෑදේ. ✓
- 2) පළමු පියවරේදී නිපදවන ATP සියල්ල ඒ සඳහාම වැය වේ.
- 3) කාබොක්සිල්හරණයක් සිදු නොවේ.
- 4) අවසාන හයිඩ්‍රජන් ප්‍රතිග්‍රාහකයා පයිරුවේට්යි. ✓
- 5) පයිරුවේට් සාප්‍රථම එහිල් මධ්‍යසාර බවට පරිවර්තනය වේ.

• (41) සිට (50) දක්වා උපදෙස්

| 1 | 2 | 3 | 4 | 5 |
|-------------------------|-------------------------|----------------------|----------------------|-----------------------------------------------------|
| A, B, D පමණක් නිවැරදියි | A, C, D පමණක් නිවැරදියි | A, B පමණක් නිවැරදියි | C, D පමණක් නිවැරදියි | වෙනත් ප්‍රතිචාරයක් හෝ ප්‍රතිචාර සංයෝජනයක් නිවැරදියි |

(21) පිවිත්ගේ ප්‍රධාන කාබනික සංයෝග සම්බන්ධයෙන් අසත්‍ය වන්නේ,

- A. ග්ලූකොසාමීන් බහුඅවයවික දිලීර සෛල බිත්ති සෑදීමට දායක වේ. ✓
- B. ධමනි බිත්ති ඝනවීම (Atherosclerosis) සඳහා ට්‍රාන්ස් අසංතාප්ත මේද පරිභෝජනය හේතු වේ. ✓
- 5 C. ලිපිඩ දේහය තුළ සංඥා අණු ලෙස ක්‍රියා කළ හැක. ✓
- D. ප්‍රෝටීන දුස්ස්වාභාවිකරණයේ දී එහි සියලු ව්‍යුහ මට්ටම් වෙනස් වේ. ✗
- E. මස්තු ඇල්බියුමින්, බිත්තරවල සංචිත ප්‍රෝටීනයයි. ✗

(22) ප්‍රාග් න්‍යෂ්ටික හා සු න්‍යෂ්ටික සෛල අතර ඇති වෙනස්කම් සම්බන්ධයෙන් සත්‍ය වන්නේ,

- A. සු න්‍යෂ්ටිකයන්, අවුරුදු බිලියන 3.5 කට පෙර ප්‍රාග්න්‍යෂ්ටිකයන්ගෙන් සම්භවය විය. ✗
- B. ප්‍රාග්න්‍යෂ්ටික DNA , සෛලයේ නියුක්ලියෝඩ් ප්‍රදේශයේ හිස්ටෝන ප්‍රෝටීන සමඟ බැඳී පවතී. ✗
- 5 C. ප්‍රාග් න්‍යෂ්ටික කෘතිය 9 + 2 ව්‍යුහය නොදරන ක්ෂුද්‍රනාලිකා වලින් සෑදී ඇත.
- D. ආකිබැක්ටීරියා හා සයනොබැක්ටීරියා සෛල බිත්තිවල පෙප්ටිඩෝග්ලයිකන් ඇත. ✗
- E. සෛල වර්ග දෙකේම 80s රයිබසෝම ඇත. ✗

(23) සෛල විභාජනයේ වර්ණදේහ සංඛ්‍යාව අඩුවන න්‍යෂ්ටි විභාජන අවධිය සම්බන්ධයෙන් අසත්‍ය වන්නේ,

- A. උපාගමයේ දී සහෝදරවර්ණදේහාංශවල DNA අණුවේ කොටස් කැඩී අනුරූපී ලක්ෂ අසලදී නැවත සම්බන්ධ වේ. ✗
- B. විශේෂ කලාවේ දී වර්ණදේහාංශ බැඳී ඇති ප්‍රෝටීන බිඳ වැටී වර්ණදේහාංශ සෛනද්‍රෝමියරයෙන් වෙන් වේ. ✓
- 5 C. අන්ත කලාවේ දී සම්පූර්ණ ඒකගුණ වර්ණදේහ කට්ටලයක් බැගින් එක් එක් ධ්‍රැවයේ ඇත. ✓
- D. ප්‍රාග් කලාව අවසානයේ සමජාත වර්ණදේහ යුගල යෝග කලා තලය දෙසට ගමන් කරයි. ✓
- E. සමජාත වර්ණදේහ යුගලයේ එක් කයිනෙටොමාර්ට් එක් ධ්‍රැවයකින් පැමිණෙන තර්ක ක්ෂුද්‍ර නාලිකාවක් සමඟ පමණක් බැඳේ. ✗

(24) පහාසංස්ලේෂණය සම්බන්ධයෙන් අසත්‍ය වන්නේ,

- A. උද්දීපනය වූ ප්‍රනාපද්ධති I උපාසිත කිරීම. ජලය විච්ඡේදනයේ දී නිදහස් වන ඉලෙක්ට්‍රෝන මගින් සිදුකෙරේ. ✗
- B. කාබොහයිඩ්‍රේට් සංස්ලේෂණයේ පූර්වග අණුව 3 -PGA වේ. ✗
- 1 C. C₄ ශාකවල හයිඩ්‍රජන් භාවිත කිරීමේ කාර්යක්ෂමතාව C₃ වලට වඩා වැඩිය. ✓
- D. C₄ ශාක කලාප කොපු සෛලවල ග්‍රැනා අඩුවෙන් පිහිටයි. PS II සුළු වශයෙන් පිහිටයි. ✗
- E. RuBP, O₂ ප්‍රතිග්‍රහණයේ දී සෑදෙන කාබන් දෙකකින් යුත් සංයෝගය පෙරොක්සිසෝම හා මයිටොකොන්ඩ්‍රියා තුළදී සැකසීමට ලක් වේ. ✓

(25) සෛලීය ශ්වසනය සම්බන්ධයෙන් සත්‍ය වන්නේ,


- A. NAD⁺ අණු දෙකක් NADH බවට ඔක්සිහරණයට H⁺ අයන 4 ක් අවශ්‍ය වේ. ✓
- B. සෛලීය ශ්වසනයේ දී, එක් ග්ලූකෝස් අණුවකින් ATP අණු 4 ක් උපස්ථර පොස්පොරයිලීකරණයෙන් නිපදවේ. ✗
- C. එහිල් මධ්‍යසාර පැසීමේ දී අවසාන හයිඩ්‍රජන් ප්‍රතිග්‍රාහකයා පයිරුවේට්යි. ✓
- D. මේද සඳහා ශ්වසන ලබ්ධිය 1 වේ. ✗
- E. අක්මා සෛලවල, ඉලෙක්ට්‍රෝන පරිවහන දාමයේ දී ATP 32 ක් නිපදවේ. ✓



පළමු වාර පරීක්ෂණය - 2024 A/L

12 ශ්‍රේණිය

පිට විද්‍යාව II



B කොටස රචනා

- ප්‍රශ්න දෙකකට පමණක් පිළිතුරු සපයන්න.
- (01) a) සෛල චක්‍රයේ අන්තර්කලාවේ සිදුවීම් පැහැදිලි කරන්න.
- ✓ b) එක් මාතෘ නෂ්ටයකින් ප්‍රවේණිකව සර්වසම ද්‍රව්‍ය න්‍යෂ්ටි 2 ක් නිපදවන න්‍යෂ්ටි විභාජනයේ දී වර්ණදේහවල හැසිරීම විස්තර කරන්න.
- (02) ✓ හරිතලවයේ ප්‍රභාපද්ධති ආශ්‍රිතව සිදුවන ප්‍රභාසංස්ලේෂණ ක්‍රියාවලියේ අදියර විස්තර කරන්න.
- (10) කෙටි සටහන් ලියන්න.
 - a) සත්ත්ව සෛලවල බහිස්සෛලීය පූරකය
 - b) එන්සයිමවල ඇලොස්ටරික සක්‍රියනය
 - c) ග්ලයිකොලිසිය

22 A/L අපි [papers grp]