



වැඩිම ලෙස අධ්‍යාපන දෙපාර්තමේන්තුව Provincial Department of Education - NWP  
වැඩිම ලෙස අධ්‍යාපන දෙපාර්තමේන්තුව Provincial Department of Education - NWP  
වැඩිම ලෙස අධ්‍යාපන දෙපාර්තමේන්තුව Provincial Department of Education - NWP  
වැඩිම ලෙස අධ්‍යාපන දෙපාර්තමේන්තුව Provincial Department of Education - NWP  
වැඩිම ලෙස අධ්‍යාපන දෙපාර්තමේන්තුව Provincial Department of Education - NWP  
වැඩිම ලෙස අධ්‍යාපන දෙපාර්තමේන්තුව Provincial Department of Education - NWP

වැඩිම ලෙස අධ්‍යාපන දෙපාර්තමේන්තුව Provincial Department of Education - NWP  
වැඩිම ලෙස අධ්‍යාපන දෙපාර්තමේන්තුව Provincial Department of Education - NWP  
වැඩිම ලෙස අධ්‍යාපන දෙපාර්තමේන්තුව Provincial Department of Education - NWP  
වැඩිම ලෙස අධ්‍යාපන දෙපාර්තමේන්තුව Provincial Department of Education - NWP  
වැඩිම ලෙස අධ්‍යාපන දෙපාර්තමේන්තුව Provincial Department of Education - NWP  
වැඩිම ලෙස අධ්‍යාපන දෙපාර්තමේන්තුව Provincial Department of Education - NWP

මුன்றාම තවනෙප් පරිසෙ - තරම - 06 - 2023 (2024)  
Third Term Test - Grade 06 - 2023 (2024)

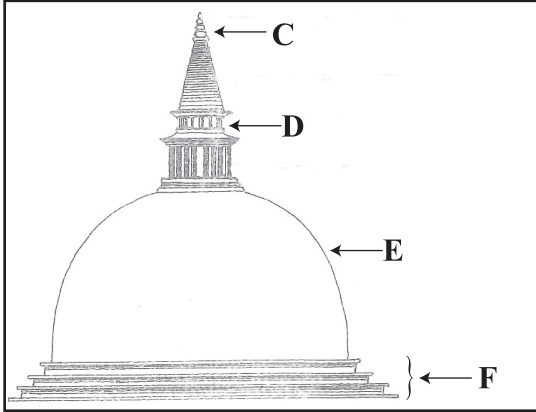
සිத்திரக்கலை

நேரம்: 2 மணி.


சுட்டெண்:

பகுதி I

- கவனிக்குக.
- எல்லா வினாக்களுக்கும் விடையளிக்குக.
- கீழே தரப்பட்டுள்ள A, B ஆகியவற்றிலுள்ள ஒளிப்படங்களைப் பயன்படுத்தி 1-5 வரையான வினாக்களுக்கு விடை எழுதுக.



A



B

1. A உருவில் உள்ள கட்டிடம் ..... எனும் பெயரால் அழைக்கப்படுகிறது.
  2. B உருவில் உள்ள கட்டிடம் ..... எனும் பெயரால் அழைக்கப்படுகிறது.
  3. A உருவிலுள்ள C ..... D ..... எனும் பெயரால் அழைக்கப்படுகிறது.
  4. A உருவிலுள்ள E ..... F ..... எனும் பெயரால் அழைக்கப்படுகிறது.
  5. B உருவிலுள்ள G ..... H ..... எனும் பெயர் கொண்டு அழைக்கப்படுகிறது.
- வினா இலக்கம் 6 - 10 வரையிலுள்ள வினாக்களுக்கு பொருத்தமான விடையினைத் தெரிவு செய்து அதன் கீழ் கோடிடுக.
    6. சுற்றாடலில் இருந்து பெறப்பட்ட உருளை வடிவமான பொருள் ஒன்று
      - i. மாரி பிஸ்கட் பெட்டி
      - ii. பப்பாசிக் காய்
      - iii. ஐஸ் கிரீம் கோன்
      - iv. டின் (தீந்த பேணி)
    7. மூலவரணங்களை உபயோகித்து அலங்கார நிர்மாணிப்புகளை நிர்மாணிக்க தேவையான வர்ணத் தொகுதி
      - i. நீலம், கருப்பு, வெள்ளை
      - ii. வெள்ளை, கருப்பு, சிவப்பு
      - iii. பச்சை, மஞ்சள், நீலம்
      - iv. மஞ்சள், சிவப்பு, நீலம்

8. கோல அரங்காரத்திற்கு பயன்படுத்தப்பட வேண்டிய பொருட்கள்,

i. மஞ்சட் பொடி, அரிசி மாவு

ii. பயறு, தேங்காய்

iii. தோடம்பழம், கொமடு

iv. பலா விதை, பப்பாசி

9. பாரம்பரிய அலங்கார வகையான தெய்வீக அலங்காரத் தொகுதியில் அடங்குபவை,

i. தாமரை மலர், சீப்புரு

ii. சூரியன், சந்திரன்

iii. தனியிழை, அரும்பு

iv. குந்திரிக்கன், லிபபத

10. இந்தியாவிலுள்ள சாஞ்சி தூபியின் ஹர்மிகா எனும் அமைப்பு இலங்கையிலுள்ள தாது கோபங்களின் எந்த அங்க அமைப்புடன் ஒத்தது,

i. பாதம்


ii. கொத்கரல்ல

iii. சதுரக் கோட்டம்


iv. சிகரம்

- வினா இலக்கம் 11 - 15 வரையான வினாக்களுக்கு பொருத்தமான விடையை B பகுதியிலிருந்து தெரிவு செய்து இணைக்குக.


11.




12.



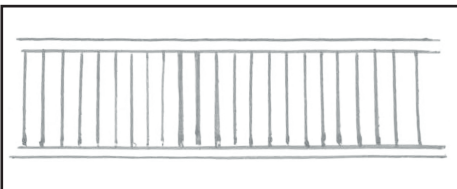
13.



14.




15.




B பகுதி




I



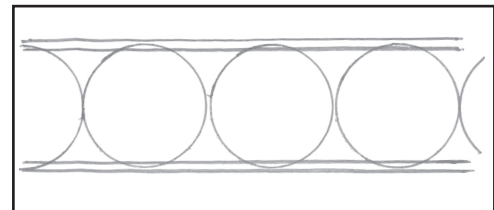
J



K



L



M

- வினா இலக்கம் 16 - 20 வரையான வினாக்கள் சரியாயின் (✓) எனவும் பிழையாயின் (×) எனவும் அடையாளமிடுக.

16. சித்தார்த்தரின் பிறப்பு, புத்தர் நிலை அடைதல், பரி நிர்வாணமடைதல் ஆகிய மூன்று நிகழ்வுகளை முன்னிறுத்தி வெசாக் பௌர்ணமி தினம் உலகெங்கும் வாழும் பௌத்த மக்கள் கொண்டாடுவார்கள்.

( )

17. றோமன் முறை தேவாலயங்களில் பிறையும் நட்சத்திரமும் கொண்ட அமைப்பு நிர்மாணிக்கப்பட்டுள்ளது.

( )

18. கட்டடத்தின் மேல் பகுதியில் காணப்படும் கூர் நுனிப் பகுதியுடன் கூடிய குப்பா எனப்படும் சிகரம் இஸ்லாமிய பள்ளி வாசலில் காணப்படுகிறது.

( )

19. இந்து ஆலயங்களில் நந்தி எனப்படும் எருது உருவம் காணப்படுவதில்லை

( )

20. இயேசு நாதர் தேவ தூதர் எனப்படுவார்.

( )

## பகுதி II

- பின்வரும் தலைப்புக்களில் ஒன்றைத் தெரிவு செய்து வரைந்து வர்ணம் தீட்டுக.

1. செழிப்பான எனது வீட்டுத் தோட்டம்.
2. பழுத்த மாங்கனியை சுவைக்கும் விலங்கு
3. காலை வேளையில் மைதானத்தில் விளையாடும் பாடசாலை மாணவர்
4. மீன் வியாபாரி
5. துணை வர்ணங்களைப் பயன்படுத்தி பொதி சுற்றுத் தாள்
6. சீத்தை துணிக்கான பரவு ரூப அலங்காரம்.

(60 புள்ளிகள்)