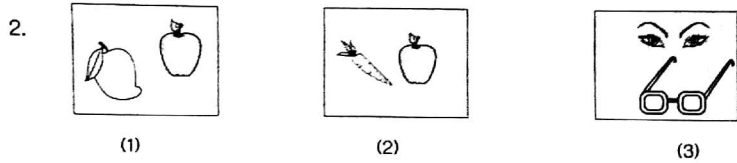
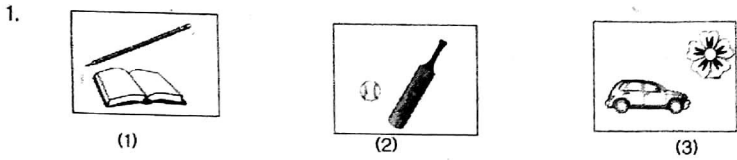
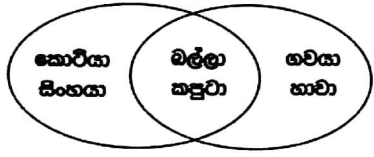


පහත රූප අතරින් එකිනෙකට නොගැළපෙන රූප යුගලය වන්නේ,



පහත දී ඇති රූප සටහන සලකා 3 හා 4 ප්‍රශ්නවලට පිළිතුරු සපයන්න.



3. මෙම රූපයේ සිටින සතුන් වර්ග කිරීමට ගොදාගෙන තිබෙන්නේ,  
 (1) ආහාර (2) පාද (3) ශරීර ප්‍රමාණය

4. ගවයා සහ හාවා යන සතුන්ගෙන් අදහස් වන්නේ,  
 (1) මාංශ භක්ෂක (2) ශාක භක්ෂක (3) සර්ව භක්ෂක

5 සහ 6 ප්‍රශ්නවල නිශ්චය වන ගැළපෙන වචනය දී ඇති පිළිතුරු අතරින් තෝරා ගන්න.

5. කුසගින්නට : ආහාර නම්, පිපාසයට : .....  
 (1) වතුර (2) බීම (3) කෂම

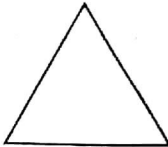


6. මිනිත්තු : කාලය නම් ලීටර : .....  
 (1) බර (2) ප්‍රච (3) උස

• නිවැරදි පිළිතුරු තෝරන්න.

7. 99 සිට 115 තෙක් සංඛ්‍යා ලිවීමේදී 0 ලියවෙන වාර ගණන කීයද?  
 (1) 12 යි. (2) 24 යි. (3) 32 යි.

8. සවස් කාලයේදී දකුණු සහ සබරගමුව පළාත්වල හදිසි පුද්ගල තත්ත්වයක් ඇති වන බව නිවේදනය කරන ලදී. එයට අදාළ නගර දෙක දැක්වෙන පිළිතුරු තෝරන්න.  
 (1) මොණරාගල , පුත්තලම (2) පොළොන්නරුව , නුවර  
 (3) ගාල්ල , රත්නපුර

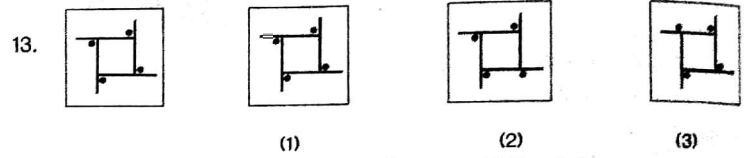
9. පහත දී ඇති වාක්‍ය අතුරින් නිවැරදිව ලියා ඇති වාක්‍යය තෝරන්න.  
 (1) කන්ද උඩින් ඉර පායයි. (2) කනද උඩින් ඉර පායයි.  
 (3) කන්ද උඩින් ඉර පායයි.

10. සමමිතික රේඛා තුනක් පමණක් ඇදිය හැකි රූපය තෝරන්න.  
 (1)  (2)  (3) 

11. මුහුණ බලන කන්තාරියකින් බැඳූ වීට වෙනස් නොවී පෙනෙන අකුරු තෝරන්න.

(1) M (2) K (3) G

• මුලින් දී ඇති රූපයට සමාන රූපය තෝරන්න.



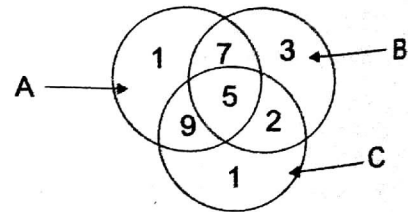
14. නිවැරදි අර්ථයක් දෙන වැකියට හිමි අංකය රවුම් කරන්න.

- (1) දු දරුවන්ගේ අභිමාන දෙමව්පියන්ට පයගුහණයයි.
- (2) දු දරුවන්ගේ පයගුහණ දෙමව්පියන්ට අභිමානයයි.
- (3) දෙමව්පියන්ගේ දු දරුවන් පයගුහණයට අභිමානයයි.

- 15. (1) බෙංගු උවදුර මර්දනය කිරීමට වඩා තුරන් කිරීම යහපත් ය.
- (2) බෙංගු උවදුර තුරන් කිරීමට වඩා මර්දනය කිරීම යහපත් ය.
- (3) බෙංගු උවදුර මර්දනය කිරීමට වඩා වර්ධනය කිරීම යහපත් ය.


• පහත රූපය ඇසුරින් පිළිතුරු සපයන්න.

16. A ට පමණක් අයිති අංක වන්නේ,  
 (1) 5 (2) 1 (3) 3



17. B ට හා C ට දෙකට පමණක් අයිති අංක වන්නේ,  
 (1) 5 (2) 3 (3) 2

• කොඩි වැලක රතු, කහ , සුදු, නිල් ලෙස පිළිවෙලින් කොඩි අඳුණා ඇත. ඒ ඇසුරෙන් පිළිතුරු තෝරන්න.



18. මෙහි 40 වන කොඩිය විය හැක්කේ,  
 (1) නිල් (2) රතු (3) කහ

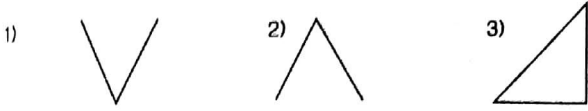
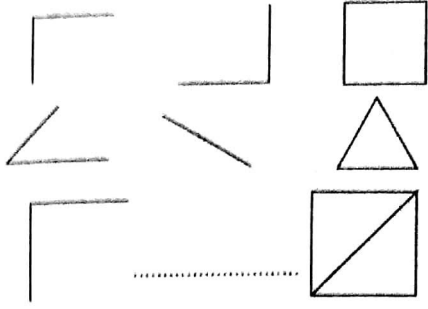
19. මෙහි කහ පාට කොඩියක් විය හැක්කේ,  
 (1) 7 වන කොඩිය (2) 6 වන කොඩිය (3) 8 වන කොඩිය

20. 

|   |   |    |
|---|---|----|
| 2 | 4 | 6  |
| 4 | B | 8  |
| A | 8 | 10 |

 A හා B සඳහා සුදුසු අගයයන් පිළිවෙලින් ඇති පිළිතුරු තෝරන්න.  
 (1) 6, 4 (2) 6, 6 (3) 6, 10

රූප සෘජුක අනාරම්භ අනුව හිස්තැනට හැසුරෙන රූපය තෝරන්න.



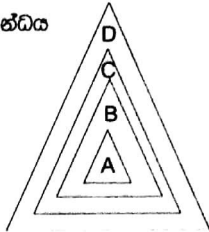
මෙහි සිටින සමස්ථ හිවසට යාමේදී වාර කියක් වමට හැරී යා යුතු ද?

- (1) 5 (2) 6 (3) 7

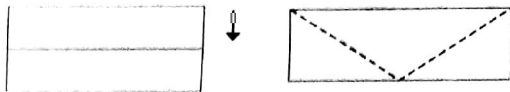
23. රට, පලාත, දිස්ත්‍රික්කය, ගම් යන ඒවා අතර සම්බන්ධය දැක්වීමට මෙම රූපය ඇඳ තිබේ.

මෙහි A මගින් දක්වා ඇත්තේ කුමක් ද?

- (1) පලාත  
(2) දිස්ත්‍රික්කය  
(3) ගම්



24. පහත කඩඳහි පිහිටිය ඇති දෙසට නවා දෙවන රූපයේ ඇති හිත් ඉරි දිගේ කපා වෙන් කරන ලදී.



උන් වෙන් වී යන ත්‍රිකෝණ ගණන වන්නේ,

- (1) 2 (2) 4 (3) 3

• රටාව අනුව අංක 25 සහ 26 ප්‍රශ්නවල හිස්තැනට හිමිය යුතු රූපය තෝරන්න.



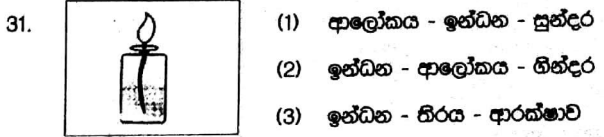
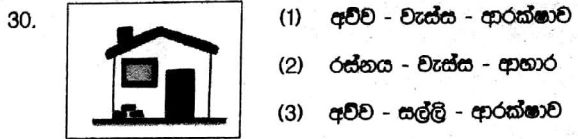
27. පහත රූප කොටස් එකතු කර සෑදිය හැකි සහ වස්තුව වන්නේ,



- (1) සිලින්ඩරය  
(2) සහකය  
(3) සහකානය

• පහත වචනවලින් නොහැසුරෙන වචනය වන්නේ,

28. (1) යනවා (2) එනවා (3) පිපෙනවා  
29. (1) ලොකු (2) රස (3) සුවඳ  
• රූපයට ඉතා සමීප සම්බන්ධයක් දක්වන වචන අඩංගු පිළිතුර තෝරා වගට යටින් ඉරන් අඳින්න.



• පහත දක්වා ඇති සංවාදය කියවන්න.

ඇ...සනාහොද දෙනන යන්නේ?

ඇයි යනවා යිහොලිහො හොදර. බයා මොකද කරන්නේ?

බම මොනිල්ලා එනකම් ජායල් යන්න ඉන්නවා?

32. මෙහි කී දෙනෙකු ගැන කියවේ ද?  
(1) හතරයි. (2) පහයි. (3) හයයි.  
33. මේ දවසේ කුමන වේලාවක් ද?  
(1) උදේ (2) දවල් (3) සවස

• අංක 34 සහ 35 ප්‍රශ්නවල ඉරි ඇඳී කොටස මුල් සිදුවීමට හේතුවක් වේ නම් වරහන තුළ (✓) ලකුණ ද, හේතුවක් නොවේ නම් (x) ලකුණ ද යොදන්න.

34. මදුරුවන් බෝවීම බහුල වූයේ තැන තැන වතුර රැඳුණු නිසා ය. (.....)  
35. දෙවිමිණ වීතාගය සමාජ වූයේ හොඳින් පාඩම් නොකළ නිසා ය. (.....)  
36. වැරදි ප්‍රකාශය තෝරන්න.  
(1)  $6 \times 3 - 6 = 12$  (2)  $4 \times 2 \times 10 = 80$  (3)  $6 \times 5 - 7 = 12$   
37. නිවැරදි ප්‍රකාශය තෝරන්න.

(1)  $25 + 35 + 15 = 75$  (2)  $15 + 25 + 45 = 65$  (3)  $15 + 25 + 55 = 85$   
• ප්‍රශ්න අංක 38 සිට 40 තෙක් ප්‍රශ්නවල හිස්තැනට හැසුරෙන ආවසාන පදය වරහනින් තෝරා ලියන්න.

38. ගංගා ගලා ..... (බසිය / බසිති )  
39. අක්කා ද මම ද පාසල් ..... (යන්නෙමි / යන්නෙමු)  
40. ඇ ලස්සනට ..... (හැටුවා ය. / හැටුවේ ය)

ඇමිලිමිටිය රාජකීය විද්‍යාලයේ ආචාර්ය  
රුවන් ප්‍රසන්න සෙනරත්  
(ජාතික ගිණිපො විද්‍යා විස්තරය,  
විද්‍යාලීය ප්‍රාථමික පුහුණු බී. ඒ.)

• කවි ඇසුරෙන් අකෘ ඇති ප්‍රශ්න වලට පිළිතුරු සපයන්න.

අනතා දුබල වන මල් ගොමු ඇත බැද්දේ  
තුරු මත කුරුල්ලන්ගේ සුමිහිරි සද්දේ  
මීදුම් පටල පෙර වූ නිල් කඳු මැද්දේ  
සිතල රිදී දිය වැල් පහළට ඇද්දේ

අවුකන ගල් වෙහෙර ඇත මහ පිළිම තැනූ  
සුකිරි වගෙහි පුත්තලමේ මිදුණු ලුණු  
සිහිරි ගලේ සිතුවම් ලොව පුදුම වුණු  
ආඩම්බරයී ලොව මහ පහයෙ කණු

- කුරුල්ලන් සුමිහිරි හඬින් හි ගයන්නේ කොහි සිට ද ?
- නිල් කඳු පොරවා ගෙන සිටින්නේ මොනවාට ද ?
- පුත්තලමේ මිදුණු ලුණු උපමා කර ඇත්තේ මොනවාට ද ?
- "තුරු" යන වචනයට සමාන පදයක් ලියන්න.
- කවි පෙළෙහි සඳහන් පරිදි ලොව ම පුදුමයට පත් කළේ මොනවා ද ?
- "සිතල" යන වචනයට විරුද්ධ පදයක් ලියන්න.
- "දුබල" යන අදහස ඉදිරිපත් කිරීමට පළමු කවියේ යොදා ඇති වචනය කුමක් ද?
- ප්‍රාණවාරී බහු වචන අනුක්‍රම පදයක් කවි වලින් තෝරා ලියන්න.

• නිවැරදි වචනය යටින් ඉරික් අඳින්න.

- වලි කුකුළා / වලි කුකුළා
- විරෝධය / විරෝදය

• පහත සඳහන් එක් එක් වාක්‍ය නිවැරදි නම් (✓) ලකුණ ද, වැරදි නම් (x) ලකුණ ද එම වාක්‍ය ඉදිරියේ ඇති වරහන තුළ යොදන්න.

- නංගි සෙල්ලම් කළා ය. ( )
- බල්ලෝ මූරයි. ( )

13. පහත සඳහන් පද්‍ය කියවා අකෘ ඇති ප්‍රශ්නයට පිළිතුරු ලියන්න.

මා පිය සහ ගුරු - නෂ්ට සොහො ගුරු  
හැමටම කීකරු - සැපතෙකි මේ දරු

කවියේ සඳහන් පරිදි මෙම දරුවාගේ හොඳ ගතිගුණ ලියන්න.

14. පහත සඳහන් වචන ගලපා අර්ථවත් වාක්‍යයක් ලියන්න.

සැම / කරමු / ස්ථාන / බෝ වෙන / විනාශ / මදුරුවන් / අපි / එක්වී

• පහත සඳහන් වැකිවල අර්ථය සිංහලෙන් ලියන්න.

- dustbin - .....
- clouds - .....

17. පහත සඳහන් වාක්‍යයෙහි අදහස ඉංග්‍රීසියට හරවා ඉංග්‍රීසියෙන් ලියන්න.

'කරුණාකර ඔබගේ පොත මට දෙන්න'

18. හිස්තැනට ගැළපෙන අර්ථය ලියන්න.

i) This is a .....



19. පහත සඳහන් වගන්තිය දෙමළෙන් කියන ආකාරය සිංහල අකුරින් ලියන්න.

සුභ උපන්දිනයක් වේවා -

20. පහත සඳහන් දෙමළ වැකියේ අර්ථය සිංහලෙන් ලියන්න.

එනක්කු පසික්කිරුදු -

• "මගේ අනාගත බලාපොරොත්තුව" යන මාතෘකාව යටතේ වාක්‍ය පහක් ලියන්න. ලියන ලද සෑම වාක්‍යයක ම වචන 5 ක ට වැඩි විය යුතුයි. උත්ත ආඛ්‍යාත පද සම්බන්ධය නිවැරදි විය යුතුයි.

- .....
- .....
- .....
- .....
- .....

• දී ඇති හිත් ඉරි මත පිළිතුරු සපයන්න.

- අකුරෙන් දී ඇති සංඛ්‍යාව ඉලක්කමෙන් ලියන්න.  
හතළිස් තුන්දහස් එකසිය පහස් අට

27. රවුම තුළ ඇති ඉලක්කම්වලින් සෑදිය හැකි විශාල ම සංඛ්‍යාව කීයද?



28. 3, 6, 12, 24, ..... හිස් තැනට සුදුසු සංඛ්‍යාව ලියන්න.

29. රූපයේ පාට කළ කොටස දශම සංඛ්‍යාවක් ලෙස ලියන්න.



30.  $8 + 7 - 1 =$  ..... ලැබෙන පිළිතුර රෝම සංඛ්‍යාවලින් ලියන්න.

31. ශිෂ්‍යත්ව පන්තියක් පෙ.ව. 10.00ට ආරම්භ වී ප.ව. 3.30 ට අවසන් විය. පන්තිය පැවති කාලය කොපමණ ද?

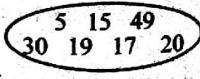
32. .... vii ..... හිස් තැන්වලට සුදුසු පරිදි පෙර හා පසු රෝම සංඛ්‍යා ලියන්න.

33. 0.5 භාගයක් ලෙස ලියන්න.

34. අඹ ගොඩක තිබූ අඹ ප්‍රමාණයෙන්  $\frac{3}{5}$  හරක් වී තිබුණි. ඉතිරි වීවා හොඳ අඹ ය. හොඳ අඹ ගෙඩි ප්‍රමාණය 200 ක් නම්, අඹ ගොඩේ තිබූ මුළු අඹ ප්‍රමාණය කොපමණ ද?

35. ළමයින් 5 දෙනෙකු සහ බහු පැටවුන් තිදෙනෙකු තරඟයට දුවති. මේ සියලු දෙනාට ඇති කකුල් ගණන කීයද?

36. රවුම තුළ ඇති සංඛ්‍යාවලින් 5 හි ගුණාකාර තෝරා ලියන්න.



37. ගුණිතයේ කාමරයේ තිත්ත ගැමට ලීටර 3 ක් අවශ්‍ය විය. තිත්ත මිල දී ගත්තේ ලීටර භාගයේ ටින් ය. එවැනි අවශ්‍ය වන තිත්ත ලීටර භාගයේ ටින් ගණන කීයද?

38. ධාරිතාව 1200ml ක් වන භාජනයක ජලය 900ml තිබේ. එයට තවත් 900ml ක් ජලය එක් කළ විට භාජනයෙන් පිටතට උතුරා යන ජල පරිමාව කොතෙක් ද?

39. ඉඩමකින්  $\frac{2}{4}$  ක වළවළු ද,  $\frac{1}{4}$  ක පලතුරු ද වගා කර ඇත. වගා කර හැකි බිම් ප්‍රමාණය මුළු ඉඩමෙන් කොපමණ කොටසක් ද?

**හැළපෙන පිළිතුර යටින් ඉරක් අදින්න.**

40. ඒක දේශික ශාක පමණක් ඇතුළත් පිළිතුර වන්නේ,  
 1. කෙකටිය, බිහර, හිරිතිල්ල, දෝතලු  
 2. දෝතලු, බිහර, කපු, පොල්  
 3. අඹ, හිරිතිල්ල, දෝතලු, පොල්

41. බෝගවලට හානි කරන සත්ත්ව කාණ්ඩ වන්නේ,  
 1. වේයා, බළලා  
 2. ගොළුබෙල්ලා, උළුඹුවා  
 3. කාචා, සමනලයා

42. කැටයම් කලාව පිළිබඳව අනෙකුත් නිර්මාණ දැකිය හැකි ස්ථානයක් වන්නේ,  
 1. සිහිරිය  
 2. ඉසුරුමුණි විහාරය  
 3. ගල් විහාරය

43. හාල්මැස්සන්වල බහුලව අඩංගු වන්නේ,  
 1. ඔක්සිජන්  
 2. කැල්සියම්  
 3. පිණ්ඩය

44. පහත වෘත්තීන් අතුරින් "පලංචිය" භාවිත කරනු ලබන්නේ,  
 1. පෙදෙරේරුවා  
 2. කම්මල්කරුවා  
 3. ගොවියා

45. මෙම රූපයේ දැක්වෙන්නේ,  
 1. මිනෙට්ටුවක් ගුණකන්ද හිමි.  
 2. ඇස්. මහින්ද හිමි  
 3. අනභාරක ධර්මපාලතුමා



46. "ශුද්ධවත් ඇවිත් සිදු පිටි හැවී හැඟලා.." යන ගීතයෙන් දැක්වෙන විදේශීය ජාතිය වන්නේ,  
 1. පෘතුගීසීන් 2. ලන්දේසීන්  
 3. ඉංග්‍රීසීන්

47. සහනශීලී වර්ග හිසා සිදු නොවන දෙයකි.  
 1. හැම දෙනාගේ ම ආරක්‍ෂාව ඇති වීම.  
 2. එකිනෙකාගේ ගරුත්වයට හානි සිදු වීම.  
 3. වගකීමකින් හැසිරීමට හුරු වීම.

48. අවිචාරු බෙදීමට සුදුසු නොවන්නේ කුමන හැක්ද ද?  
 1. ලී හැක්ද  
 2. ඇළුම්හියම් හැක්ද  
 3. පොල්කටු හැක්ද

49. ශ්‍රී ලංකාවේ වෙස් මුහුණුවලට ප්‍රසිද්ධ නගරයකි.  
 1. තංගල්ල  
 2. මහරගම  
 3. අම්බලන්ගොඩ

50. ත්‍රිකුණාමලය ආසන්නයෙන් ම මුහුදට වැටෙන ගංගාව කුමක් ද?  
 1. වළවේ ගඟ  
 2. කළු ගඟ  
 3. මහවැලි ගඟ

51. සිහිරිය අයත් වන දිස්ත්‍රික්කය කුමක් ද?  
 1. දඹුල්ල 2. මාතලේ 3. මහනුවර

52. මෙම රූපයේ සඳහන් නිර්මාණය දැක ගත හැක්කේ,  
 1. යාපහුවේ  
 2. සිහිරියේ  
 3. ගඩොලාදෙනියේ



53. වැවක ජලය පිටකරන ස්ථානය,  
 1. වැකන්ද 2. සොරොව්ව  
 3. වැව්කාටුල්ල


54. මෙම දියරවලින් ඉක්මනින් වාෂ්ප වන ද්‍රව වර්ගය වන්නේ.  
 1. පෙට්ටුල් 2. පොල්තෙල් 3. ජීසල්

55. පෙදෙරේරුවා භාවිත නොකරන උපකරණයකි.  
 1. මේසන් හැක්ද 2. මුරුමිය  
 3. සවල

56. ශ්‍රී ලංකා සිතියමක මහා මාර්ග දැක්වීමට යොදා ගන්නා චිහ්ණය වන්නේ,  
 1. කළු 2. රතු 3. තැඹිලි

57. රත්නපුරය ප්‍රසිද්ධ කුමන කර්මාන්තයක් සඳහා ද?  
 1. මැණික් 2. රන් 3. මිනිරන්

58. රූපයෙන් දැක්වෙන ඖෂධීය ශාක පහය කුමක් ද?  
 1. කරපිංචා  
 2. කටුවැල් බටු  
 3. හිප්පිලි



59. මෙම රූපය දැක ගත හැකි වන්නේ,  
 1. ඉසුරුමුණියේ දී  
 2. යාපහුවේ දී  
 3. සිහිරියේ දී






60. උඩරට හැට්ටුවාගේ ප්‍රධාන ඇඳුම් කට්ටලය ලෙස සැලකෙන්නේ,  
 1. කොච්ඡු ඇඳුම්  
 2. වෙස් ඇඳුම් කට්ටලය  
 3. බලියාන ඇඳුම් කට්ටලය

61. ආහාරයට යොදා ගන්නා බීජ වර්ගයකි.  
 1. කොස් ඇට  
 2. ගස්ලබු ඇට  
 3. අඹ ඇට

62. කර්මලෙන් හුස්ම ගන්නා සතෙකි.  
 1. කිඹුලා 2. ගවයා 3. මාළුවා

63. මෙම රූපයෙන් දැක්වෙන පක්ෂියා වන්නේ,  
 1. පරවියා  
 2. පැණි කුරුල්ලා  
 3. කුකුළා



64. දේශීය සංගීත භාණ්ඩයක් වන්නේ,  
 1.  2.  3. 

65. මේ පස් වර්ග අතුරෙන් සාරවත් පස් වර්ගය වන්නේ,  
 1. වැලි පස  
 2. ලොම් පස  
 3. මැටි පස

66. "හාම්බුව" යන වචනය යෙදෙන්නේ,  
 1. වඩු කර්මාන්තයේ දී  
 2. පතල් කර්මාන්තයේ දී  
 3. ධීවර කර්මාන්තයේ දී

67. යක් බෙරය ප්‍රධාන වාද්‍ය භාණ්ඩය ලෙස ගැනෙන්නේ ශ්‍රී ලංකාවේ කුමන නැටුම් සම්ප්‍රදායෙන් ද?  
 1. උඩරට නැටුම් සම්ප්‍රදායේය.  
 2. සබරගමු නැටුම් සම්ප්‍රදායේය  
 3. පහතරට නැටුම් සම්ප්‍රදායේ ය.

68. වැඩිපුර ගංවතුර තර්ජනය ඇති ප්‍රදේශයකි.  
 1. ඇඹිලිපිටිය 2. නුවරඑළිය  
 3. රත්නපුර

69. පාරේ ගමන් කරන වීටි සැක කටයුතු යමක් ද්‍රව වීටි අප දැකුම් දිය යුතු දුරකථන අංකය වන්නේ,  
 1. 119 2. 1990 3. 1919

ජනප්‍රිය ගෞරව්‍ය ඉදිරිපත්  
**රුවන් ප්‍රසන්න සෙනරත්**  
 ඇඹිලිපිටිය ප්‍රාථමික විද්‍යාලය ආචාර්ය  
 (ජාතික ගීතෘණ විද්‍යා ඩිප්ලෝමා  
 විද්‍යාපීඨ ප්‍රාථමික ප්‍රභූත බී. ඒ.)