



උව පළාත් අධ්‍යාපන දෙපාර්තමේන්තුව
ஊவா மாகாண கல்வித் திணைக்களம்
Uva Provincial Department of Education



අධ්‍යයන පොදු සහතික පත්‍ර උසස් පෙළ විභාගය - පෙරහුරු පරීක්ෂණය 2024
General Certificate of Education (Advanced Level) Examination – Practice Test 2024

13 ශ්‍රේණිය

21 S I

ආර්ථික විද්‍යාව I
Economics I

කාලය : පැය දෙකයි
Time : Two hours

උපදෙස් :

- සියලුම ප්‍රශ්නවලට පිළිතුරු සපයන්න.
- 01 සිට 50 තෙක් එක් එක් ප්‍රශ්නයට (1), (2), (3), (4), (5) යන පිළිතුරු වලින් නිවැරදි හෝ ඉතාමත් හැඳුපෙන හෝ පිළිතුර තෝරාගෙන, එය පිළිතුරු පත්‍රයේ දැක්වෙන උපදෙස් පරිදි කතිරයක් (X) යොදා දක්වන්න.

01. පහත සඳහන් ප්‍රකාශ අතරින් යථානුරූපී සුක්ෂ්ම ආර්ථික විද්‍යාත්මක ප්‍රකාශයක් ලෙස සැලකිය හැක්කේ කවරක් ද?

- (1) $C = a + by$ පරිභෝජන ශ්‍රිතයට අනුව ආදායම සහ පරිභෝජනය අතර ප්‍රතිලෝම සම්බන්ධතාවයක් පවතී.
- (2) මෝටර් රථ ආනයන බදු ඉහළ දැමීම ආනයන පිරිවැය අඩු වීමට හේතු වේ.
- (3) රාජ්‍ය අයවැය හිඟය මූල්‍යයනය ප්‍රසාරණාත්මක වේද යන්න හිඟය මූල්‍යයනය කරන ආකාරය මත තීරණය වේ.
- (4) සමාහාර සැපයුම් වක්‍රය දකුණට විතැන් කිරීමෙන් මිල පීඩනය අවම කර ගත හැකිය.
- (5) විරැකියාව අවම කිරීමට නම් ස්ත්‍රී සේවා නියුක්තිය ඉහළ නැංවීමට ක්‍රියා කළ යුතුය.

02. වෙරළ තීරයේ වැලි තැන්පත් කිරීම මඟින් වර්ධනය වන්නේ පහත සඳහන් නිෂ්පාදන සාධක අතරින් කවරක්ද?

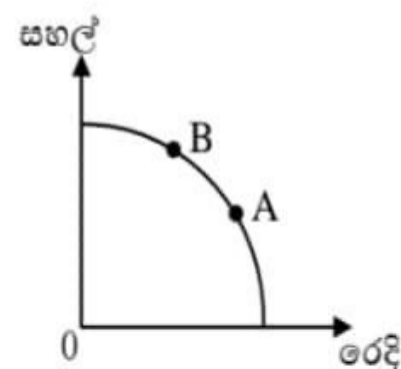
- (1) භූමිය
- (2) ශ්‍රමය
- (3) ප්‍රාග්ධනය
- (4) ව්‍යවසායකත්වය
- (5) මානව ප්‍රාග්ධනය

03. නූතන තාක්ෂණය සමඟ බද්ධ වෙමින් ආගම හෝ සම්ප්‍රදායික සමාජයක් හෝ පදනම් කර ගනිමින් තීරණ ගන්නා ආර්ථිකයක් හඳුන්වනු ලබන්නේ,

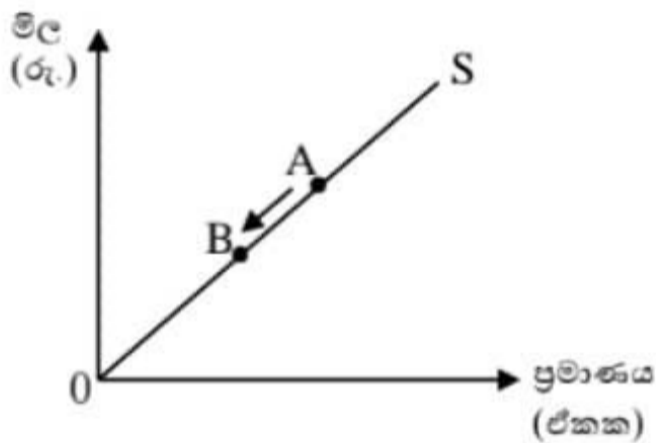
- (1) සමාජයීය වෙළඳපොළ ආර්ථිකයක් ලෙසය.
- (2) සාම්ප්‍රදායික ආර්ථික පද්ධතියක් ලෙසය.
- (3) ධනවාදී ආර්ථික පද්ධතියක නව ප්‍රවණතාවක් ලෙසය.
- (4) නව සාම්ප්‍රදායික ආර්ථික පද්ධතියක් ලෙසය.
- (5) විධානගත ආර්ථික පද්ධතියක නව ප්‍රවණතාවක් ලෙසය.

04. රූප සටහනෙහි දැක්වෙන නිෂ්පාදන හැකියා මායිම් වක්‍රය මත A සිට B දක්වා ගමන් කරන විට,

- (1) සහල් නිෂ්පාදනයේ ආවස්ථික පිරිවැය අඩුවේ.
- (2) රෙදි නිෂ්පාදනයේ ආවස්ථික පිරිවැය අඩු වේ.
- (3) සහල් සඳහා යොදවන සම්පත්වල කාර්යක්ෂමතාවය ඉහළ යයි.
- (4) සහල් සඳහා යොදවන සම්පත් ඒකකයකින් නිපදවිය හැකි සහල් ප්‍රමාණය ක්‍රමයෙන් වැඩි වේ.
- (5) සහල් සැපයුම වැඩි වී වෙළඳපොළ සහල් මිල පහළ වැටේ.



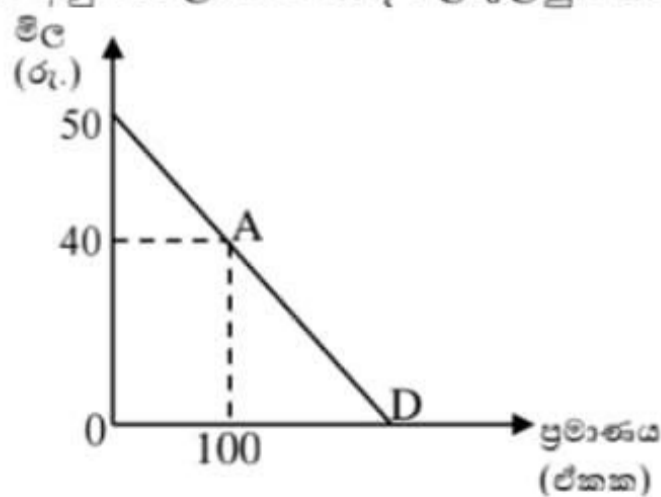
05. රටක් පවත්නා ලෝක මිල යටතේ භාණ්ඩයක් ආනයනය කරන විට අදාළ රටේ ආනයන සැපයුම් වක්‍රය,
 (1) පූර්ණ නම්‍ය වේ. (2) පූර්ණ අනම්‍ය වේ. (3) ඒකීය නම්‍ය වේ.
 (4) නම්‍ය වක්‍රයක් වේ. (5) අනම්‍ය වක්‍රයක් වේ.
06. කිසියම් භාණ්ඩයක මිල පහළ ගිය විට ආදේශණ ප්‍රතිවිපාකයට හා ආදායම් ප්‍රතිවිපාකයට අනුව එම භාණ්ඩයේ ඉල්ලුම් ප්‍රමාණය වැඩි වූයේ නම් එම භාණ්ඩයේ ස්වරූපය හඳුන්වන්නේ කෙසේ ද?
 (1) ගිඟන් භාණ්ඩයකි. (2) ආදේශණ භාණ්ඩයකි. (3) සාමාන්‍ය භාණ්ඩයකි.
 (4) බාල භාණ්ඩයකි. (5) සුඛෝපභෝගී භාණ්ඩයකි.
07. සලකා බලන භාණ්ඩය බාල භාණ්ඩයක් නම් ආදායමෙහි හට ගන්නා ඉහළ යාමක් නිසා එම භාණ්ඩයේ,
 (1) ඉල්ලුම වැඩිවේ. මිල ඉහළ යයි. ප්‍රමාණය වැඩි වේ.
 (2) ඉල්ලුම අඩුවේ. මිල වැඩිවේ. ප්‍රමාණය අඩුවේ.
 (3) ඉල්ලුම අඩුවේ. මිල අඩුවේ. ප්‍රමාණය අඩුවේ.
 (4) සැපයුම වැඩිවේ. මිල අඩුවේ. ප්‍රමාණය වැඩි වේ.
 (5) ඉල්ලුම වැඩි වේ. මිල අඩුවේ. ප්‍රමාණය අඩු වේ.
08. x නැමති භාණ්ඩය සඳහා වෙළඳපොළ සැපයුම් වක්‍රය පහත රූප සටහනේ පෙන්වුම ඊකරයි.



මෙම වෙළඳපොළේ සමතුලිත ප්‍රමාණය A ලක්ෂ්‍යයේ සිට B ලක්ෂ්‍යය දක්වා ගමන් කිරීමට හේතු විය හැකි සාධකයක් වන්නේ,

- (1) පාරිභෝගික ආදායම පහළ යාම.
 (2) පාරිභෝගික ආදායම ඉහළ යාම.
 (3) අනුපූරක භාණ්ඩ මිල පහළ යාම.
 (4) x භාණ්ඩය සඳහා පාරිභෝගික රුචිය වැඩිවීම.
 (5) x භාණ්ඩයේ සැපයුම අඩුවීම.
09. පහත දැක්වෙන රූප සටහනට අනුව A ලක්ෂ්‍යයේ දී මිල ඉල්ලුම් නම්‍යතාවය කොපමණ ද?

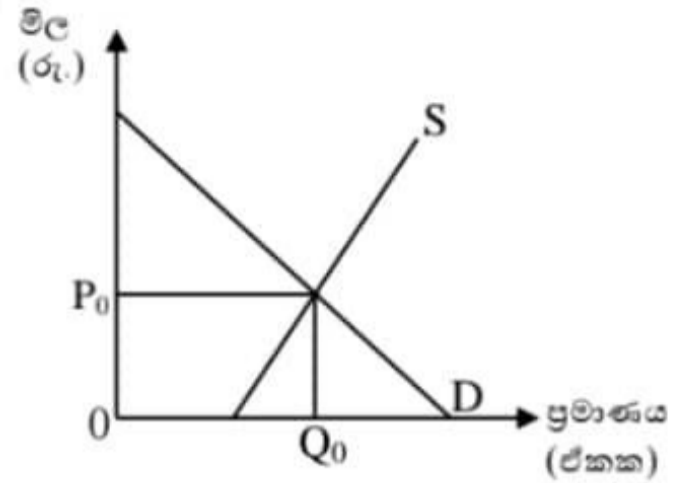
- (1) -0.25
 (2) -2
 (3) -1
 (4) -4
 (5) -0.5



10. එක්තරා භාණ්ඩයක වෙළඳපොළ ඉල්ලුම් ශ්‍රිතය $Q_d = 20 - 2P$ ද අධි ඉල්ලුම් ශ්‍රිතය $E_d = 30 - 6P$ නම් වෙළඳපොළ සමතුලිත වන විට නිෂ්පාදන අතිරික්තය වන්නේ,
 (1) රු. 25.00 (2) රු. 12.50 (3) රු. 50.00
 (4) රු. 37.50 (5) රු. 32.50

11. කිසියම් භාණ්ඩයක වෙළඳපොළ සමතුලිතයට පත් වී ඇති ආකාරය පහත රූප සටහනින් දැක්වේ. මෙම භාණ්ඩයේ යෙදවුම් මිල ගණන් පහළ වැටීමක් සිදු වුවහොත්,

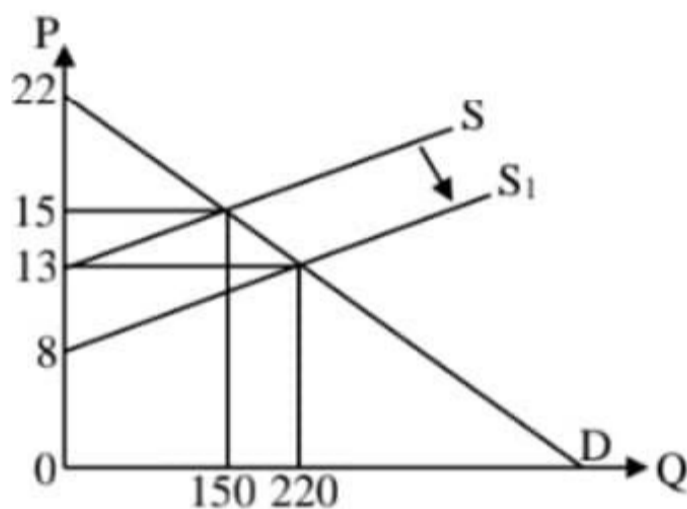
	මිල වෙනස්වීම	පාරිභෝගික අතිරික්තය
(1)	අඩුවේ.	අඩුවේ.
(2)	අඩුවේ.	වෙනස් නොවේ.
(3)	වැඩිවේ.	වැඩිවේ.
(4)	වැඩිවේ.	අඩුවේ.
(5)	අඩුවේ.	වැඩිවේ.



12. රජය වෙළඳපොළට මැදිහත් වී භාණ්ඩයක් මත රු.5 ක ඒකක බද්දක් පැන වූ නිසා එම භාණ්ඩයේ මිල රු.4 කින් වැඩි විය. මෙම භාණ්ඩයේ සැපයුම් නම්‍යතාවය 1.2 ක් නම් ඉල්ලුම් නම්‍යතාව වන්නේ,

- (1) - 1.5 (2) - 0.3 (3) - 0.9 (4) - 0.4 (5) - 2.0

13.

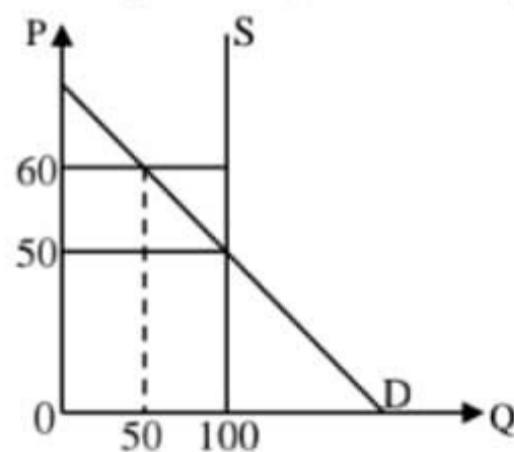


ඉහත රූප සටහනට අනුව රු.5 ක විශේෂිත සහනාධාරයක් ලබා දීමෙන් පසු දකුණට විතැන් වූ සැපයුම් වක්‍රය S_1 මගින් දැක්වේ. සහනාධාරය ලබා දීම නිසා නිෂ්පාදන අතිරික්තයේ සිදු වූ වෙනස.

- (1) රු.370 කින් වැඩිවේ. (2) රු.560 ක් ලෙස ස්ථාවරව පවතී. (3) රු.437.50 කින් වැඩිවේ.
 (4) රු.400 කින් වැඩිවේ. (5) රු.150 දක්වා අඩුවේ.

14. පූර්ණ අනම්‍ය සැපයුමක් ඇති භාණ්ඩයකට රජය රු.60 ක සහතික මිලක් සහිත මිල ආධාරක ප්‍රතිපත්තියක් පැනවීමෙන් පසු වෙළඳපොළේ හැසිරීම පහත රූප සටහන මගින් දැක්වේ. අතිරික්ත සැපයුම රජය මිල දී ගන්නේ නම් රජයට දැරීමට සිදුවන පිරිවැය වන්නේ,

- (1) රු.4000
 (2) රු.6000
 (3) රු.3000
 (4) රු.1000
 (5) රු.2000



15. එක්තරා ව්‍යාපාරික ආයතනයක පිරිවැය දත්ත පහත දැක්වේ.

- මුළු විචල්‍ය පිරිවැය රු. 7200
 සාමාන්‍ය ස්ථාවර පිරිවැය රු.20
 සාමාන්‍ය මුළු පිරිවැය රු.100

ආයතනයේ වර්තමාන නිමැවුම් මට්ටම විය යුත්තේ,

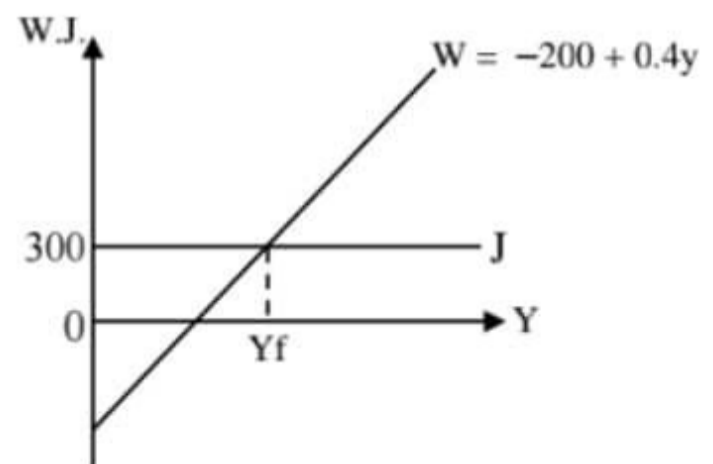
- (1) ඒකක 60 කි.
 (2) ඒකක 72 කි.
 (3) ඒකක 90 කි.
 (4) ඒකක 100 කි.
 (5) ආදායම පිළිබඳ දත්ත නොමැති නිසා නිගමනය කළ නොහැක.

16. පූර්ණ තරඟකාරී ආයතනයක ලක්ෂණයක් ලෙස සැලකිය නොහැක්කේ,
 (1) පැවරුණු මිලක් යටතේ ක්‍රියාකරන්නෙකු වීම.
 (2) ආයතනය මුහුණ දෙන ඉල්ලුම් වක්‍රය ප්‍රමාණ අක්ෂයට සමාන්තර වීම.
 (3) දිගු කාලයේ දී ප්‍රාමාණික ලාභ පමණක් හුක්ති විඳීම.
 (4) කර්මාන්තයේ ඉල්ලුම් වක්‍රය ප්‍රමාණ අක්ෂයට සමාන්තර තිරස් රේඛාවක් වීම.
 (5) ආයතනයේ සැපයුම් වක්‍රය, සාමාන්‍ය විචල්‍ය පිරිවැය වක්‍රය අවම ලක්ෂ්‍යයට ඉහළින් ඇති ආන්තික පිරිවැය වක්‍රයයි.
17. නිමැවුම ඒකක 4 දී මුළු පිරිවැය රු.20 ක් වන අතර නිමැවුම් ඒකක 6 දී මුළු පිරිවැය 36 කි. නිමැවුම ඒකක 4 හා 6 අතර ආන්තික පිරිවැය,
 (1) සාමාන්‍ය විචල්‍ය පිරිවැයට වඩා අඩුවේ.
 (2) සාමාන්‍ය පිරිවැයට සමාන වේ.
 (3) සාමාන්‍ය විචල්‍ය පිරිවැයට වඩා වැඩිවේ.
 (4) සාමාන්‍ය මුළු පිරිවැයට වඩා වැඩිවේ.
 (5) අතිරේක තොරතුරු නොමැතිව කිසිදු සාමාන්‍ය පිරිවැයක් සමඟ සැසඳිය නොහැක.
18. සාධක වෙළඳපොළෙහි යම් සාධකයක් සඳහා වෙළඳපොළ සමතුලිතයේ දී පවතින සංක්‍රාම ඉපැයීමේ වටිනාකම, ආර්ථික බදු කුලියට වඩා විශාල විය. මෙම සාධකයට තිබෙන සැපයුම් නම්‍යතාවය,
 (1) නම්‍ය වේ. (2) පූර්ණ නම්‍ය වේ. (3) අනම්‍ය වේ.
 (4) ඒකීය නම්‍ය වේ. (5) පූර්ණ අනම්‍ය වේ.
19. සාර්ව ආර්ථිකයේ සෘණ නිමැවුම් පරතරයක් නිරූපණය කරනුයේ ව්‍යාපාර වක්‍රයෙහි කවර අදියරයක දී ද?
 (1) පතුල (2) පසුබැසීම (3) ප්‍රසාරණය
 (4) මුද්‍රානත (5) උත්පාතය
20. ශ්‍රී ලංකාවේ නිරීක්ෂණය නොවන ආර්ථිකය තුළට ඇතුළත් නොවන ආර්ථික කටයුත්ත කුමක් ද?
 (1) ආර්ථික සංසන්ත සහ සමීක්ෂණවලදී මඟ හැරී යන නිෂ්පාදන කටයුතු.
 (2) ගිණුම් පවත්වා නොගනිමින් නිවාස ආශ්‍රිතව අසංවිධිතව සිදු කරන භාණ්ඩ නිෂ්පාදන කටයුතු.
 (3) රහසිගතව නීති විරෝධීව සිදු කරනු ලබන වැලිගොඩ දැමීම.
 (4) බදු ගෙවීමට සිදු වෙතැයි බියෙන් සහ කම්කරු නීති මඟහැර යාමට සහචන නිෂ්පාදන කටයුතු.
 (5) බලපත්‍ර සහිතව මත්පැන් නිපදවීම සහ අලෙවි කිරීම.
21. රටක මූලික මිලට සමස්ත එකතු කළ අගය රුපියල් මිලියන 960 කි. එම රටේ අවසන් පරභෝජන වියදම රුපියල් මිලියන 600 ක් වන අතර භාණ්ඩ හා සේවා මත ශුද්ධ බදු වටිනාකම රු.මි.40 කි. ශුද්ධ ප්‍රාථමික ආදායම් ලැබීම් - 300 සහ ශුද්ධ වර්තන සංක්‍රාම (ද්විතියික ආදායම) වටිනාකම 150 කි. මෙම රටේ ජාතික ඉතුරුම් අනුපාතය කීයද?
 (1) 20% (2) 25% (3) 30% (4) 40% (5) 5%

22. සරල ආර්ථිකයකට අදාළ රූප සටහන් පහත දැක්වේ.

ආර්ථිකය පූර්ණ සේවා නියුක්ති මට්ටමේ පසුවේ යැයි උපකල්පනය කොට මෙම ආර්ථිකයේ පූර්ණ සේවා නියුක්ති ආදායම් මට්ටම (Y_f) වනුයේ,

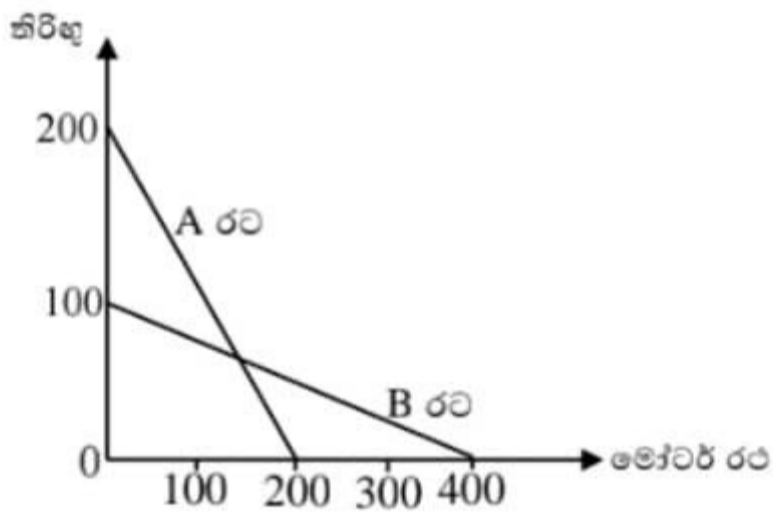
- (1) රු.මි.2000 (4) රු.මි.2500
 (2) රු.මි.1250 (5) රු.මි.1300
 (3) රු.මි.1750



34. කිසියම් නිෂ්පාදන ක්‍රියාවලියක ආන්තික පෞද්ගලික ප්‍රතිලාභ 60 ක් ද ආන්තික සමාජ ප්‍රතිලාභ 110 ක් ද ආන්තික, සමාජ පිරිවැය 80 ක් ද නම් පහත සඳහන් කවරක් නිවැරදි වේද?
- (1) ආන්තික සමාජ ජරතිලාභ ආන්තික සමාජ පිරිවැයට වඩා අඩුවේ.
 - (2) ආන්තික පෞද්ගලික ප්‍රතිලාභ ආන්තික පෞද්ගලික පිරිවැයට වඩා අඩුවේ.
 - (3) ආන්තික බාහිර ප්‍රතිලාභ ආන්තික පෞද්ගලික ප්‍රතිලාභ වලට වඩා වැඩිවේ.
 - (4) ආන්තික බාහිර පිරිවැය ආන්තික පෞද්ගලික පිරිවැයට සමාන වේ.
 - (5) ආන්තික බාහිර ප්‍රතිලාභ ආන්තික පෞද්ගලික ප්‍රතිලාභ වලට වඩා අඩුවේ.

35. කිසියම් වර්ෂයක දී රාජ්‍ය අයවැයේ වර්තන ගිණුමේ ගිණයක් වාර්තා වූව ද සමස්ත ශේෂය ධන(+) අගයක් ගැනීමට ඉඩ ඇත. ඊට හේතු වේ යැයි සැලකිය හැකි සාධකය වන්නේ කුමක් ද?
- (1) පොලී ගෙවීම්
 - (2) විදේශ ප්‍රදාන
 - (3) වර්තන සංක්‍රාම
 - (4) මූල්‍ය වගකීම් අත්පත් කර ගැනීම.
 - (5) මූර්ත වගකීම් අත්පත් කර ගැනීම.

36. පහත දැක්වෙන්නේ දෙන ලද සම්පත් තොගයකින් A සහ B රටවලට නිපදවිය හැකි උපරිම මෝටර් රථ සහ තිරිඟු ප්‍රමාණයන් ය.



එම තොරතුරු වලට අනුව නිවැරදි ප්‍රකාශය කුමක් ද?

- (1) තිරිඟු නිපදවීමේ නිරපේක්ෂ වාසිය ඇත්තේ B රටටය.
- (2) මෝටර් රථ නිපදවීමේ නිරපේක්ෂ වාසිය ඇත්තේ A රටටය.
- (3) තිරිඟු නිපදවීම සඳහා අඩු ආවස්ථික පිරිවැයක් ඇත්තේ B රටටය.
- (4) B රට මෝටර් රථ අපනයනය කර තිරිඟු ආනයන කරමින් විදේශ වෙළඳාමට අවතීර්ණ විය යුතුය.
- (5) මෝටර් රථ නිපදවීමේ සාපේක්ෂ වාසිය ඇත්තේ A රටටය.

37. මෙරට නිපදවන හා ආනයනය කරන සපත්තු වර්ගයක් පිළිබඳව පහත විස්තර සපයා ඇත.

අලෙවි මිල රු.2000
 ආනයන යෙදවුම් රු.800
 ආනයනික සපත්තු මත බදු අනුපාතිකය 10%
 ආනයන යෙදවුම් මත බදු අනුපාතිකය 10%

දේශීය සපත්තු කර්මාන්තකරුවන්ට ලැබෙන සඵල ආරක්ෂණය වනුයේ,

- (1) 10% (2) 16.67% (3) 13.33% (4) 12% (5) 18%

38. ගෙවුම් ශේෂ ලේඛනයේ සමස්ත ශේෂය ලෙස සැලකෙන්නේ,

- (1) ජංගම හා ප්‍රාග්ධන ගිණුමේ ශේෂයයි.
- (2) විදේශ ගනුදෙනුවල සමස්ත ප්‍රතිඵලයයි.
- (3) ජංගම හා ප්‍රාග්ධන ගිණුමේ ශේෂයට මූල්‍ය ගිණුම ගැලපීම මගින් ලැබෙන ශේෂයයි.
- (4) නේවාසිකයන් හා අනේවාසිකයන්ගේ මූල්‍ය වත්කම් හා වගකීම් අතර වෙනසයි.
- (5) ජාත්‍යන්තර සංචිත වල ශුද්ධ වෙනසයි.

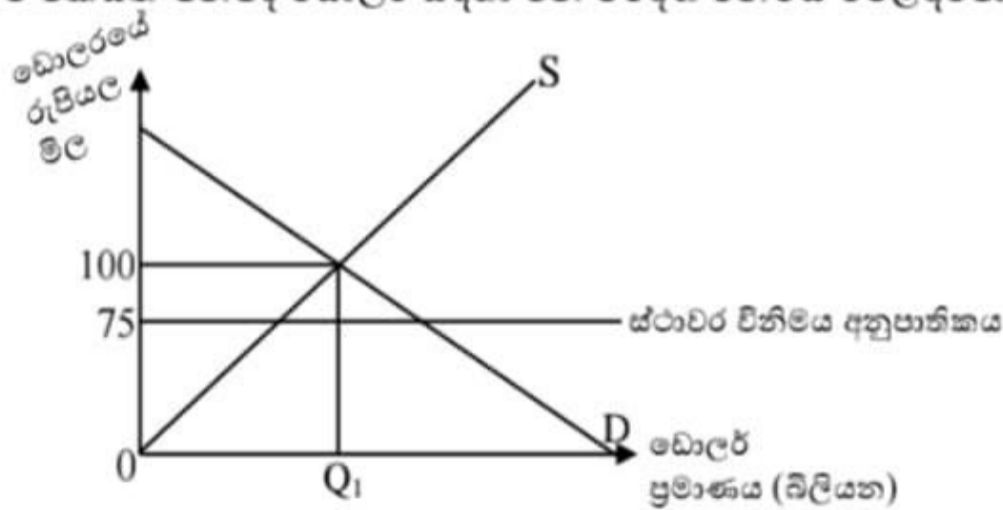
39. චීන රජය විසින් ශ්‍රී ලංකාවට පරිත්‍යාග වශයෙන් ලබා දුන් සහල් තොගයේ වටිනාකම ගෙවුම් ශේෂ ලේඛනයේ සටහන් කරනුයේ,

- (1) ද්විතියික ආදායම් ගිණුම හර, මූල්‍ය ගිණුම බැර වශයෙනි.
- (2) ජංගම ගිණුම බැර, මූල්‍ය ගිණුම හර වශයෙනි.
- (3) ප්‍රාග්ධන ගිණුම බැර, මූල්‍ය ගිණුම හර වශයෙනි.
- (4) ප්‍රාථමික ආදායම් ගිණුම බැර, සේවා ගිණුම හර වශයෙනි.
- (5) ද්විතියික ආදායම් ගිණුම බැර, භාණ්ඩ ගිණුම හර වශයෙනි.

40. රටකට මුදලේ අගය අවප්‍රමාණය කිරීමෙන් හෝ ක්ෂය වීමෙන් අපේක්ෂිත ප්‍රතිඵල අත්කර ගත හැකි වඩාත් නිවැරදි පිළිතුර වන්නේ,

	අපනයන මිල ඉල්ලුම් නම්‍යතාව	ආනයනික මිල ඉල්ලුම් නම්‍යතාව
(1)	0.7	0.8
(2)	0.5	0.6
(3)	0.6	0.2
(4)	0.8	0.1
(5)	0.6	0.3

41. ශ්‍රී ලංකාවේ එක්සත් ජනපද ඩොලර් සඳහා වන විදේශ විනිමය වෙළඳපොළ පහතින් දැක්වේ.



මින් අදහස් වන්නේ,

- (1) විදේශ විනිමය අනුපාතිකය අධිතක්සේරු වී ඇති බව හා ක්‍රය ශක්ති සාමාන්‍ය විනිමය අනුපාතිකය ඩොලරයක් රුපියල් 75 කට වැඩි බවයි.
- (2) විදේශ විනිමය අනුපාතික උන තක්සේරු වී ඇති බව හා ක්‍රය ශක්ති සාමාන්‍ය විනිමය අනුපාතිකය රු.75 ට වැඩි බවයි.
- (3) විදේශ විනිමය අනුපාතිකය අධි තක්සේරු වී ඇති බව හා ක්‍රය ශක්ති සාමාන්‍ය විනිමය අනුපාතිකය රු.75 ට අඩු බවයි.
- (4) විදේශ විනිමය අනුපාතිකය උන තක්සේරු වී ඇති බව හා ක්‍රය ශක්ති සාමාන්‍ය විනිමය අනුපාතිකය රු.75 ට අඩු බවයි.
- (5) විදේශ විනිමය අනුපාතිකය ස්ථාවර බව හා ක්‍රය ශක්ති සාමාන්‍ය විනිමය අනුපාතිකය රු.75 ක් බවයි.

42. කිසියම් භාණ්ඩ පැසක් මිලදී ගැනීම සඳහා ශ්‍රී ලංකා රුපියල් 800 ක් වැය වන අතර එම භාණ්ඩ පැසම ඇමරිකාව තුළ දී ඩොලර් 20 ට මිලදී ගත හැකි යැයි ද අනෙකුත් කරුණු ස්ථාවරව තිබිය දී ශ්‍රී ලංකාවේ භාණ්ඩ පැස මිලට ගැනීම සඳහා වැය වන මුදල රු. 1000 දක්වා ඉහළ ගියේ නම් එකඟ විය හැකි ප්‍රකාශය.

- (1) ඇමරිකාවේ වෙළඳ ශේෂය යහපත් වී ශ්‍රී ලංකාවේ වෙළඳ ශේෂය අයහපත් ය.
- (2) ශ්‍රී ලංකාවේ අපනයන දෙධර්ශමත් වී ඇමරිකාවේ ආනයන අදෙධර්ශමත් වේ.
- (3) ශ්‍රී ලංකාවේ වෙළඳ ශේෂය යහපත් වී ඇමරිකාවේ වෙළඳ ශේෂය අයහපත් වේ.
- (4) අනෙකුත් රටවල් අභිබවා ශ්‍රී ලංකාවේ තරඟකාරිත්වය ඉහළ යනු ඇත.
- (5) නාමික විනිමය අනුපාතය ස්ථාවරව තිබිය දී ක්‍රය ශක්ති සාමාන විනිමය අනුපාතය මත රුපියලේ බාහිර අගය අඩුවේ.

43. කල්පිත වර්ෂයක දී රටක ගෙවුම් ශේෂ ලේඛනයට අදාළ දත්ත පෙළක් පහත දැක්වේ. අගයන් ඇ.එ.ජ. ඩොලර් මිලියන වලින්.

ප්‍රාග්ධන ගිණුම ශුද්ධ ශේෂය 250
 ජංගම ගිණුම ශුද්ධ වෙනස්වීම -2800
 මූල්‍ය ගිණුම
 මූල්‍ය වත්කම් ශුද්ධ අත්කර ගැනීම -590
 මූල්‍ය වගකීම් ශුද්ධ වෙනස්වීම 2740

ඉහත තොරතුරු වලට අනුව ශුද්ධ වැරදි හා අත්හැරීම් වල ඇ.එ.ජ. ඩොලර් මිලියන වටිනාකම වන්නේ,

- (1) - 550 කි. (2) 580 කි. (3) - 580 කි. (4) 550 කි. (5) - 780 කි.

44. රටක තාක්ෂණයේ හටගන්නා වෙනස්කම් හෝ කිසියම් භාණ්ඩයක් සඳහා ඇති ඉල්ලුම සදාකාලිකව ශුන්‍ය වන තත්ත්වයක් තුළ හටගන්නා රැකියා විරහිතභාවය නිර්වචනය කරනුයේ,

- (1) සැහවුණු සේවා විද්‍යුක්තිය වශයෙනි.
- (2) ව්‍යුහාත්මක සේවා විද්‍යුක්තිය වශයෙනි.
- (3) සාර්ථක සේවා විද්‍යුක්තිය වශයෙනි.
- (4) ඌණ සේවා නියුක්තිය වශයෙනි.
- (5) අවිධිමත් සේවා විද්‍යුක්තිය වශයෙනි.

45. බහුමාන දරිද්‍රතා දර්ශකය ගණනය කරන ආකාරය දැක්වෙන්නේ කවර ප්‍රකාශයෙන් ද?

- (1) ජනගහන දරිද්‍රතා දර්ශකය X විහිනතා දර්ශකය
- (2) අන්තර් දරිද්‍රතා දර්ශකය X විහිනතා දර්ශකය
- (3) දිළිඳු ජනගහනයේ ප්‍රමාණය X විහිනතා දර්ශකය
- (4) මානව දරිද්‍රතා දර්ශකය X විහිනතා දර්ශකය
- (5) අන්තර් දරිද්‍රතා දර්ශකය X මානව දරිද්‍රතා දර්ශකය

46. කල්පිත ආර්ථිකයක ජනගහනය සම්බන්ධ දත්ත සමූහයක් පහත දැක්වේ.

	සුද්ගලයන් මිලියන
මුළු ජනගහනය	230
පුරුෂ ජනගහනය	120
අවුරුදු 15 න් ඉහළ ජනගහනය	210
ආර්ථික වශයෙන් සක්‍රීය නොවන ජනගහනය	80
සේවා නියුක්ත ජන සංඛ්‍යාව	09

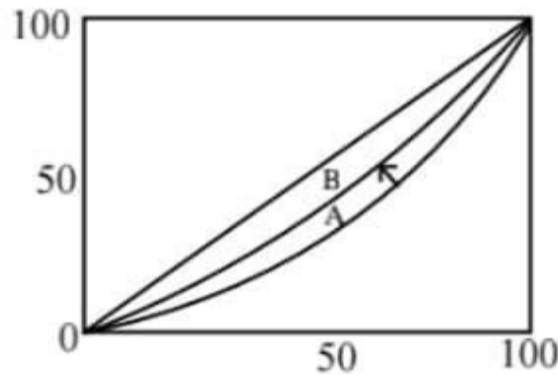
මෙම ආර්ථිකයේ,

	ඉම බලකාය (පුද්ග: මිලියන)	ස්ත්‍රී ඉම බලකා සහභාගිත්ව අනුපාතය	විදකියා අනුපාතිකය
(1)	120	25%	7%
(2)	200	33.3%	5%
(3)	180	33.3%	5%
(4)	120	25%	5%
(5)	200	30%	7%

47. තිරසාර සංවර්ධනයේ සමාජීය පැතිකඩට අදාළ සංරචක වන්නේ,

- (1) සාධාරණත්වය, සහභාගිත්වය, සවිබල ගැන්වීම.
- (2) කාර්යක්ෂමතාවය, සහභාගිත්වය, සවිබල ගැන්වීම.
- (3) කාර්යක්ෂමතාවය, සහභාගිත්වය, ස්ථායීතාවය.
- (4) ස්ථායීතාවය, සහභාගිත්වය, සවිබල ගැන්වීම.
- (5) ස්ථායීතාවය, සහභාගිත්වය, සමාජ සහජීවනය

48. එක්තරා ආර්ථිකයක් සම්බන්ධයෙන් නිර්මාණය කරන ලද ලෙ ලෝරන්ස් වක්‍රය පහත රූප සටහනේ දැක්වේ.



රජය විසින් අනුගමනය කරන ලද ප්‍රතිපත්තිමය ක්‍රියාමාර්ගවල ප්‍රතිඵලය ලෙස ලෝරන්ස් වක්‍රය A සිට B දක්වා විතැන් වූයේ නම්,

- (1) ආදායම් ව්‍යාප්තියේ විෂමතාව අඩු වනු ඇත.
- (2) දිළින්දන්ට තව දුරටත් අහිතකර වනු ඇත.
- (3) දිළිඳු ජනගහන දර්ශකය ඉහළ යනු ඇත.
- (4) සමාජ සාධාරණත්වය අරමුණු කරගත් රාජ්‍ය ප්‍රතිපත්ති වහා වෙනස් කළ යුතුය.
- (5) රාජ්‍ය ප්‍රතිපත්ති ධනවතුන්ට ප්‍රතිලාභ තවදුරටත් ඉහළ නැංවීමට හේතු වී ඇත.

49. පහත දැක්වෙන වෙළඳ ගිවිසුම් අතරින් වර්තමාන වන විට ක්‍රියාත්මක නොවන ද්වි පාර්ශවීය වෙළඳ ගිවිසුමක් වනුයේ,

- (1) ඉන්දු - ශ්‍රී ලංකා ද්වි පාර්ශවීය වෙළඳ ගිවිසුම.
- (2) පකිස්තානු - ශ්‍රී ලංකා ද්වි පාර්ශවීය වෙළඳ ගිවිසුම.
- (3) තායිලන්ත - ශ්‍රී ලංකා ද්වි පාර්ශවීය වෙළඳ ගිවිසුම.
- (4) සිංගප්පූරු - ශ්‍රී ලංකා ද්වි පාර්ශවීය වෙළඳ ගිවිසුම.
- (5) බංග්ලාදේශ - ශ්‍රී ලංකා ද්වි පාර්ශවීය වෙළඳ ගිවිසුම.

50. ශ්‍රී ලංකාවේ වත්මන් ආර්ථික අර්බුදය ජය ගැනීම සඳහා ක්‍රියාවට නැංවීමට අත්‍යාවශ්‍ය ප්‍රතිපත්තිමය වෙනස්කමක් නොවන්නේ,

- (1) ගෙවුම් ශේෂ තිරසාර භාවය උදෙසා වෙළඳ හා ආයෝජන ප්‍රවාහ ධෛර්යමත් කිරීම.
- (2) ණය ප්‍රති ව්‍යුහගත කිරීමේ ක්‍රියාවලිය සාර්ථක කර ගැනීම.
- (3) දුෂණය වැළැක්වීම හා නීතියේ ආධිපත්‍ය තහවුරු කිරීම.
- (4) ස්ථාවර විනිමය අනුපාතිකයක් තුළ රුපියලේ අගය ස්ථාවරව පවත්වාගෙන යාම.
- (5) පොදු සෞඛ්‍ය හා අධ්‍යාපන පද්ධතිය ශක්තිමත් කිරීමට ප්‍රමාණවත් අරමුදල ලබාදීම.